

浜松西問題集 数学III・C 目次

関数演習 No1 分数関数・無理関数

No2 逆関数

極限演習 No1 無限数列

No2 無限級数

No3 無限等比級数

No4 関数の極限 (1)

No5 関数の極限 (2)

微分演習 No1 導関数

No2 導関数

No3 導関数

No4 接線・法線

No5 平均値の定理

No6 関数のグラフ

No7 極値・変曲点

No8 最大・最小

No9 方程式・不等式

No10 媒介変数表示

No11 近似式・速度・加速度

積分演習 No1 不定積分

No2 不定積分

No3 不定積分

No4 不定積分

No5 不定積分

No6 定積分

No7 定積分

No8 定積分・不等式

No9 定積分と数列

No10 定積分と数列の和の極限 (1)

No11 定積分と数列の和の極限 (2)

No12 定積分と数列の和の極限 (3)

No13 定積分と不等式 (1)

No14 定積分と不等式 (2)

No15 数列の和と定積分 (3)

行列演習 No1 行列演習 (1)

No2 行列演習 (2)

2次曲線演習 No1 標準形 (1)

No2 標準形 (2)

No32 次曲線の平行移動・回転

No42 次曲線と直線・領域

No52 次曲線と軌跡・性質

No6 媒介変数

確率分布演習 No1

No2 条件付き確率・自称の独立従属

No3 確率分布と期待値(平均)、分散

No4 確率変数

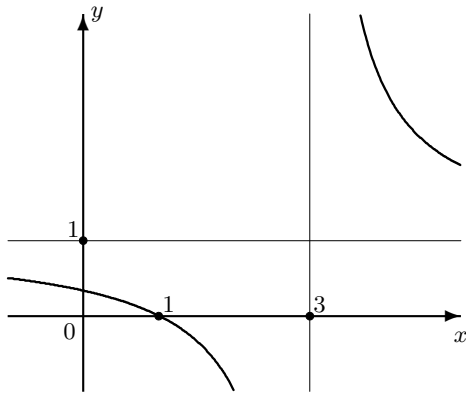
No4-2 神様の順列

No5 二項分布

関数演習 No1 分数関数・無理関数

組 番 氏名

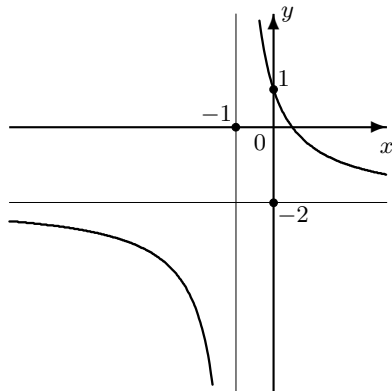
1 $y = \frac{2}{x-3} + 1$ のグラフは $y = \frac{2}{x}$ のグラフを x 軸方向に 3 y 軸方向に 1 平行移動したもので、漸近線は $x = 3$ $y = 1$ である。グラフは



2 $y = \frac{1-2x}{x+1}$ のグラフをかけ。

—解答例—

$$y = \frac{-2(x+1)+3}{x+1} = \frac{3}{x+1} - 2.$$
 漸近線は $x = -1, y = -2$.



3 次の関数を $y = \frac{a}{x-m} + n$ の形に直せ。

(1) $y = \frac{2x-3}{x-2}$

$y = \frac{1}{x-2} + 2$

(2) $xy - 2x + 3y - 5 = 0$

$y = \frac{-1}{x+3} + 2$

(3) $\frac{1}{x} + \frac{1}{y} = 1$

$y = \frac{1}{x-1} + 1$

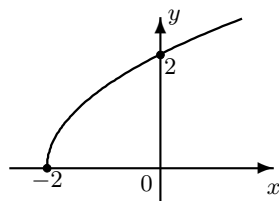
4 関数 $y = \frac{ax+3}{bx+1}$ のグラフが $x = -1, y = 2$ を漸近線とするとき定数 a, b の値を求めよ。

—解答例—
 $x = -1$ が漸近線なので、 $b = 1$ 。このとき、与関数は $y = \frac{ax+3}{x+1} = \frac{a(x+1)+3-a}{x+1} = \frac{3-a}{x+1} + a$ 。 $y = 2$ が漸近線なので、 $a = 2$ 。このとき、 $y = \frac{1}{x+1} + 2$ となって、題意を満たす。

5 次の関数の定義域・出発点(頂点)を求めグラフをかけ

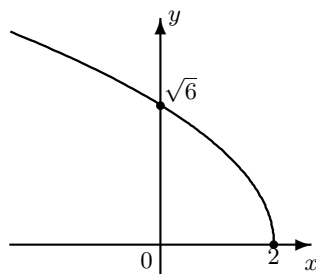
(1) $y = \sqrt{2x+4}$

—解答例—
 定義域は $2x+4 \geq 0$ から、 $x \geq -2$ 。
 出発点は $(-2, 0)$



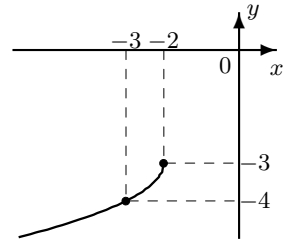
(2) $y = \sqrt{6-3x}$

—解答例—
 定義域は $6-3x \geq 0$ から、 $x \leq 2$ 。
 出発点は $(2, 0)$



(3) $y = -\sqrt{-x-2} - 3$

—解答例—
 定義域は $-x-2 \geq 0$ から、 $x \leq -2$ 。
 出発点は $(-2, -3)$



6 方程式 $\sqrt{x+3} = x+1$ を解け。

—解答例—
 両辺を平方し、 $x+3 = (x+1)^2 = x^2+2x+1$ 。
 整理して、 $x^2+x-2 = (x-1)(x+2) = 0$ 。
 よって、 $x = 1, -2$ 。
 与えられた方程式を満たすのは、 $x = 1$ 。

7 次の不等式を解け。

(1) $\frac{4x+5}{2x+3} \leq -x+1$

—解答例—
 $2x+3 \neq 0 \dots \textcircled{1}$ である。
 このとき、両辺に $(2x+3)^2 (> 0)$ をかけて整理すると、
 $(4x+5)(2x+3) + (x-1)(2x+3)^2 \leq 0$ 。
 $(2x+3)(2x^2+5x+2) \leq 0$ 。
 $(2x+3)(2x+1)(x+2) \leq 0$ 。
 $\textcircled{1}$ に注意して、
 $x \leq -2, -\frac{3}{2} < x \leq -\frac{1}{2}$

(2) $\sqrt{3-2x} \geq 2x-1$

—解答例—
 $3-2x \geq 0$ すなわち、 $x \leq \frac{3}{2}$ である。このとき、 $2x-1 \leq 0$ すなわち、 $x \leq \frac{1}{2}$ なら与不等式は成り立つ。 $\frac{1}{2} < x \left(\leq \frac{3}{2} \right) \dots \textcircled{1}$ のとき、両辺とも正ゆえ、 $3-2x \geq (2x-1)^2 = 4x^2-4x+1$ 。整理して、 $4x^2-2x-2 = 2(2x+1)(x-1) \leq 0$ 。 $\textcircled{1}$ から $\frac{1}{2} < x \leq 1$ 。よって、解は $x \leq 1$

8 次の関数の逆関数を求めよ。

(1) $y = 3x + 2$

—解答例—

x について解くと、 $x = \frac{y-2}{3}$.

x, y を入れ替えて、求める逆関数は、 $y = \frac{x-2}{3}$

(2) $f(x) = \frac{x}{x+2}$

—解答例—

$y = \frac{x}{x+2}$ とする。

分母を払って、 $xy + 2y = x$.

x について解くと、 $x(y-1) = -2y$. $x = \frac{-2y}{y-1}$.

x, y を入れ替えて、求める逆関数は、 $y = \frac{-2x}{x-1}$.

9 関数 $y = f(x)$ とその逆関数 $y = f^{-1}(x)$ は 定義域 と 値域 が入れ替わりグラフは直線 $y = x$ に関して対称である。

10 関数 $y = \frac{4x-3}{-x+2}$ の逆関数とその漸近線の方程式を求めよ。

—解答例—

x について解く。

$-xy + 2y = 4x - 3$.

$(y+4)x = 2y+3$.

$x = \frac{2y+3}{y+4} = \frac{2(y+4)-5}{y+4} = \frac{-5}{y+4} + 2$.

よって逆関数は、 $y = \frac{-5}{x+4} + 2$.

漸近線は、 $x = -4, y = 2$.

11 次の関数の逆関数を求めよ。また、逆関数の定義域と値域を求めよ。

(1) $y = 2x + 3 \ (-2 \leq x \leq 1)$

—解答例—

グラフより、値域は $-1 \leq y \leq 5$.

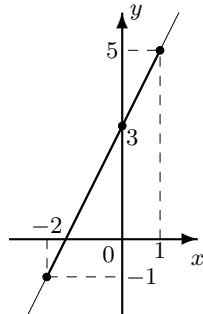
x について解くと、

$x = \frac{y-3}{2}$.

x, y を入れ替えて、

$y = \frac{x-3}{2} \ (-1 \leq x \leq 5)$ が逆関数。

定義域は $-1 \leq x \leq 5$, 値域は $-2 \leq y \leq 1$



(2) $y = x^2 - 2x - 3 \ (x \geq 1)$

—解答例—

グラフより値域は $y \geq -4$.

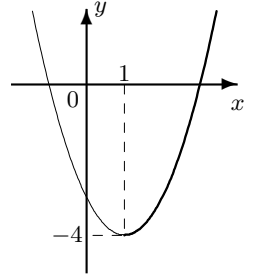
$y = (x-1)^2 - 4$ から $(x-1)^2 = y+4$.

$x \geq 1$ ゆえ、 $x-1 = \sqrt{y+4}$.

よって、逆関数は、 x, y を入れ替えて、

$y = \sqrt{y+4} + 1$.

定義域は $x \geq -4$, 値域は $y \geq 1$



(3) $y = \frac{x-1}{x+1} \ (x \geq 0)$

—解答例—

$y = \frac{x+1-2}{x+1} = \frac{-2}{x+1} + 1$

グラフより値域は $y \geq -1$.

与式を x について解く。

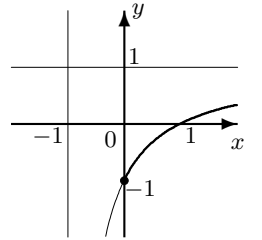
$xy + y = x - 1$. より、 $(y-1)x = -y - 1$.

$x = \frac{-y-1}{y-1} = \frac{-(y-1)-2}{y-1} = \frac{-2}{y-1} - 1$.

x, y を入れ替えて、

逆関数は、 $y = \frac{-2}{x-1} - 1 \ (x \geq -1)$

定義域は $x \geq -1$, 値域は $y \geq 0$.



(4) $y = -\sqrt{1-x}$

—解答例—

グラフより値域は、 $y \leq 0$, また定義域は $x \leq 1$.

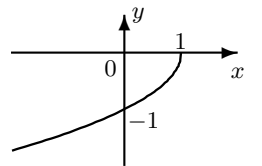
与式を x について解くと、

$y^2 = 1-x$, から $x = 1-y^2$.

x, y を入れ替えて、 $y = 1-x^2$

よって逆関数は、 $y = 1-x^2 \ (x \leq 0)$

定義域は $x \leq 0$, 値域は $y \leq 1$



12 次の極限を求めよ。

$$(1) \lim_{n \rightarrow \infty} \frac{5 - n^2 + 2n^3}{3n^3 - n - 1}$$

—解答例—

$$\text{与式} = \lim_{n \rightarrow \infty} \frac{\frac{5}{n^3} - \frac{1}{n} + 2}{3 - \frac{1}{n^2} - \frac{1}{n^3}} = \frac{2}{3}.$$

$$(2) \lim_{n \rightarrow \infty} \frac{(n-1)(2-n^2)}{2n^2-3n+1}$$

—解答例—

$$\text{与式} = \lim_{n \rightarrow \infty} \frac{(n-1)\left(\frac{2}{n^2} - 1\right)}{2 - \frac{3}{n} + \frac{1}{n^2}} = -\infty.$$

$$(3) \lim_{n \rightarrow \infty} (5n - 2n^2)$$

—解答例—

$$\text{与式} = \lim_{n \rightarrow \infty} n^2 \left(\frac{5}{n} - 2 \right) = -\infty.$$

$$(4) \lim_{n \rightarrow \infty} (\sqrt{n^2 + 2n + 3} - n)$$

—解答例—

$$\text{与式} = \lim_{n \rightarrow \infty} \frac{n^2 + 2n + 3 - n^2}{\sqrt{n^2 + 2n + 3} + n} = \lim_{n \rightarrow \infty} \frac{2 + \frac{3}{n}}{\sqrt{1 + \frac{2}{n} + \frac{3}{n^2}} + 1} = 1.$$

$$(5) \lim_{n \rightarrow \infty} \frac{\sqrt{n+2} - \sqrt{n+1}}{\sqrt{n+1} - \sqrt{n}}$$

—解答例—

$$\text{与式} = \lim_{n \rightarrow \infty} \frac{\sqrt{n+1} + \sqrt{n}}{\sqrt{n+2} + \sqrt{n+1}} = \lim_{n \rightarrow \infty} \frac{\sqrt{1 + \frac{1}{n}} + 1}{\sqrt{1 + \frac{2}{n} + \sqrt{1 + \frac{1}{n}}}} = 1.$$

$$(6) \lim_{n \rightarrow \infty} \frac{(-3)^n}{2^{2n} + 1}$$

—解答例—

$$\text{与式} = \lim_{n \rightarrow \infty} \frac{(-3)^n}{4^n + 1} = \lim_{n \rightarrow \infty} \frac{\left(-\frac{3}{4}\right)^n}{1 + \left(\frac{1}{4}\right)^n} = 0.$$

$$(7) \lim_{n \rightarrow \infty} \frac{(-5)^n}{4^n - 3^n}$$

—解答例—

$$\text{与式} = \lim_{n \rightarrow \infty} \frac{\left(-\frac{5}{4}\right)^n}{1 - \left(\frac{3}{4}\right)^n}. \quad \text{発散し(振動し)、極限はない。}$$

$$(8) \lim_{n \rightarrow \infty} (2^{3n} - 5^{2n})$$

—解答例—

$$\text{与式} = \lim_{n \rightarrow \infty} (8^n - 25^n) = \lim_{n \rightarrow \infty} 25^n \left(\left(\frac{8}{25}\right)^n - 1 \right) = -\infty$$

13 次の極限を求めよ。

$$(1) \lim_{n \rightarrow \infty} \frac{1 + 2 + 3 + \dots + n}{1 + 3 + 5 + 7 + \dots + (2n-1)}$$

—解答例—

$$\text{与式} = \lim_{n \rightarrow \infty} \frac{\frac{n(n+1)}{2}}{\frac{2}{n^2}} = \lim_{n \rightarrow \infty} \frac{1}{2} \left(1 + \frac{1}{n} \right) = \frac{1}{2}.$$

$$(2) \lim_{n \rightarrow \infty} \{ \log_2(4n^2 - 1) - \log_2(n^2 - 3n) \}$$

—解答例—

$$\text{与式} = \lim_{n \rightarrow \infty} \log_2 \frac{4n^2 - 1}{n^2 - 3n} = \lim_{n \rightarrow \infty} \log_2 \frac{4 - \frac{1}{n^2}}{1 - \frac{3}{n}} = \log_2 2^2 = 2.$$

14 次の極限を求めよ。

$$\lim_{n \rightarrow \infty} \frac{r^{n+1}}{1 + r^n} \quad (r \neq -1)$$

—解答例—

$|r| < 1$ のとき、与式 = 0. $r = 1$ のとき、与式 = $\frac{1}{2}$.

$|r| > 1$ のとき、 $\left| \frac{1}{r} \right| < 1$ ゆえ、 $\lim_{n \rightarrow \infty} \frac{1}{r^n} = 0$.

よって、与式 = $\lim_{n \rightarrow \infty} \frac{r}{\frac{1}{r^n} + 1} = r$.

15 次の数列が収束するための x の値の範囲を求めよ。

$$\left(\frac{3-x}{2} \right)^n$$

—解答例—

$-1 < \frac{3-x}{2} \leq 1$ から、

$-2 < 3-x \leq 2, -5 < -x \leq -1$

よって、 $1 \leq x < 5$.

16 次の式で与えられる数列の一般項とその極限を求めよ。

$$(1) a_1 = 1, a_{n+1} = \frac{1}{3}a_n + 1$$

—解答例—

$a_{n+1} - \frac{3}{2} = \frac{1}{3}(a_n - \frac{3}{2})$ と変形できるので、

$a_n - \frac{3}{2} = (a_1 - \frac{3}{2}) \left(\frac{1}{3}\right)^{n-1} = -\frac{1}{2} \left(\frac{1}{3}\right)^{n-1}$.

よって、 $\lim_{n \rightarrow \infty} a_n = \lim_{n \rightarrow \infty} \left(\frac{3}{2} - \frac{1}{2} \left(\frac{1}{3}\right)^{n-1} \right) = \frac{3}{2}$.

$$(2) a_1 = \frac{1}{2}, a_{n+1} = \frac{a_n}{2a_n + 3}$$

—解答例—

$a_n > 0$ ゆえ、 $\frac{1}{a_{n+1}} = 2 + \frac{3}{a_n}$. これから、 $\frac{1}{a_{n+1}} + 1 = 3 \left(\frac{1}{a_n} + 1 \right)$ を得る。 $\therefore \frac{1}{a_n} + 1 = (2+1) \cdot 3^{n-1} = 3^n$.

$\therefore \lim_{n \rightarrow \infty} a_n = \lim_{n \rightarrow \infty} \frac{1}{3^n - 1} = 0$.

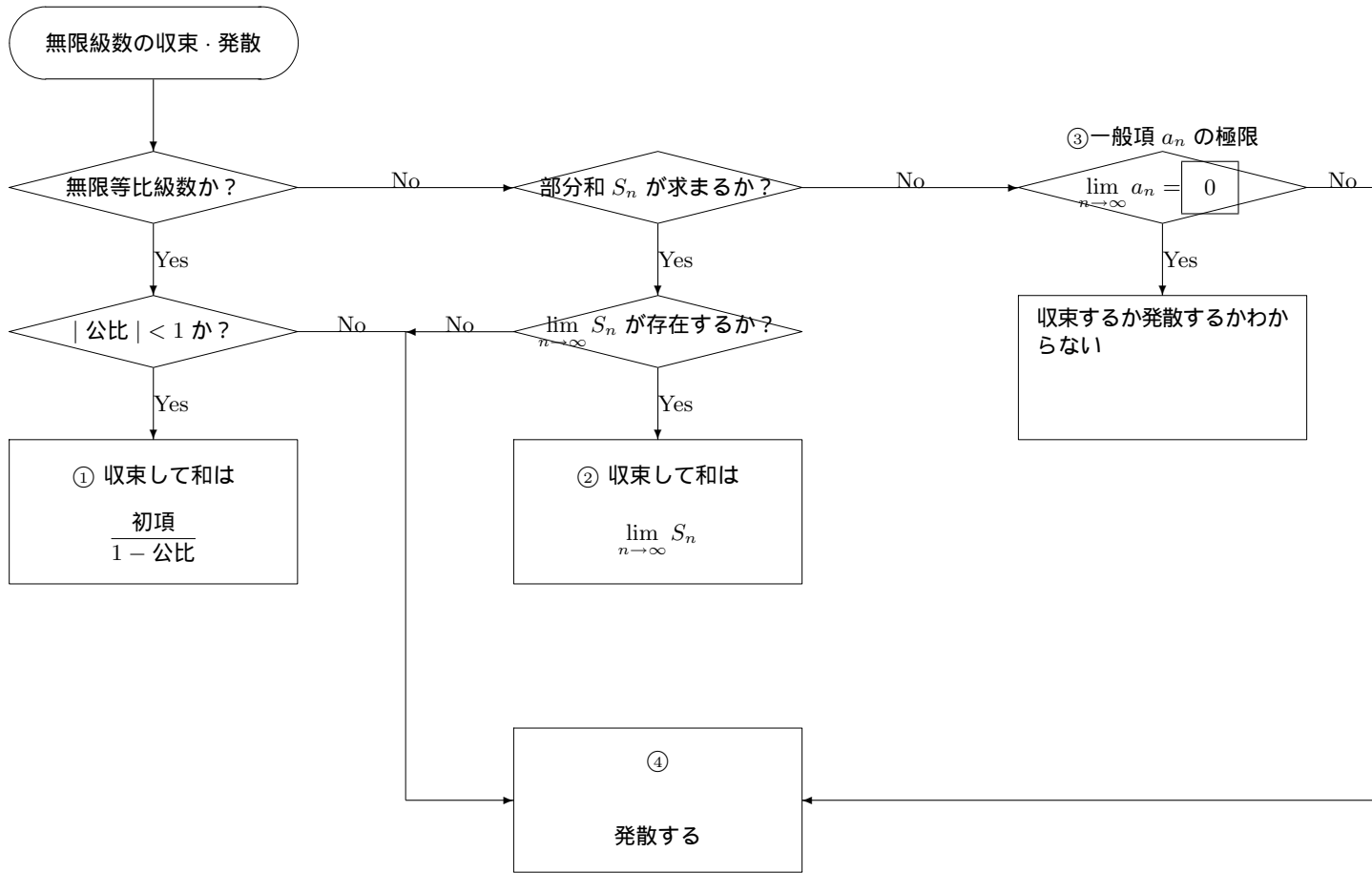
$$(3) a_1 = 0, a_2 = 2, 3a_{n+2} - a_{n+1} - 2a_n = 0$$

—解答例—

$a_{n+2} - a_{n+1} = -\frac{2}{3}(a_{n+1} - a_n)$ ゆえ、 $a_{n+1} - a_n = (a_2 - a_1) \left(-\frac{2}{3}\right)^{n-1} = 2 \left(-\frac{2}{3}\right)^{n-1}$. また、 $a_{n+2} + \frac{2}{3}a_{n+1} = a_{n+1} + \frac{2}{3}a_n$ ゆえ、 $a_{n+1} + \frac{2}{3}a_n = (a_2 + \frac{2}{3}a_1) = 2$. これらから、 a_{n+1} を消去して、 $a_n = \frac{6}{5} - \frac{6}{5} \left(-\frac{2}{3}\right)^{n-1}$.

$\therefore \lim_{n \rightarrow \infty} a_n = \frac{6}{5}$.

17 次の① ~ ④ をうめよ。



18 次の無限級数の収束・発散を調べ収束するものは和を求めよ。

(1) $1 + \frac{2}{3} + \frac{4}{9} + \dots$

—解答例—

初項が 1, 公比が $\frac{2}{3}$ の無限等比級数ゆえ収束し, その値は $\frac{1}{1 - \frac{2}{3}} = 3$

(2) $\frac{1}{2} + \frac{2}{3} + \frac{3}{4} + \dots$

—解答例—

一般項は $\frac{n}{n+1} \rightarrow 1 (\neq 0) (n \rightarrow \infty)$ ゆえ, 発散する。

(3) $\left(1 - \frac{1}{2}\right) + \left(\frac{1}{2} - \frac{1}{3}\right) + \left(\frac{1}{3} - \frac{1}{4}\right) + \dots$

—解答例—

第 n 項までの部分 and を S_n とおくと,
 $S_n = \left(1 - \frac{1}{2}\right) + \left(\frac{1}{2} - \frac{1}{3}\right) + \dots + \left(\frac{1}{n} - \frac{1}{n+1}\right) = 1 - \frac{1}{n+1} \rightarrow 1 (n \rightarrow \infty)$
 よって収束しその和は 1 である。

(4) $\frac{1}{1 + \sqrt{2}} + \frac{1}{\sqrt{2} + \sqrt{3}} + \frac{1}{\sqrt{3} + \sqrt{4}} + \dots$

—解答例—

第 n 項までの部分 and を S_n とおくと,
 $S_n = \frac{1 - \sqrt{2}}{1 - 2} + \frac{\sqrt{2} - \sqrt{3}}{2 - 3} + \dots + \frac{\sqrt{n} - \sqrt{n+1}}{n - (n+1)}$
 $= \frac{1 - \sqrt{n+1}}{-1} \rightarrow +\infty (n \rightarrow \infty)$

よって $+\infty$ に発散する。

(5) $\frac{1}{1 \cdot 3} + \frac{1}{3 \cdot 5} + \frac{1}{5 \cdot 7} + \dots$

—解答例—

第 n 項までの部分 and を S_n とおくと,
 $S_n = \frac{1}{2} \left(\frac{1}{1} - \frac{1}{3}\right) + \frac{1}{2} \left(\frac{1}{3} - \frac{1}{5}\right) + \frac{1}{2} \left(\frac{1}{5} - \frac{1}{7}\right) + \dots + \frac{1}{2} \left(\frac{1}{2n-1} - \frac{1}{2n+1}\right)$
 $= \frac{1}{2} \left(\frac{1}{1} - \frac{1}{2n+1}\right) \rightarrow \frac{1}{2} (n \rightarrow \infty)$

よって収束し, その和は $\frac{1}{2}$

極限演習 No3 無限等比級数

組 番 氏名

19 次の無限等比級数の収束・発散を調べ、収束するものは和を求めよ。

(1) $6 + 2 + \frac{2}{3} + \frac{2}{9} + \dots$

(2) $3 - 3\sqrt{2} + 6 - 6\sqrt{2} + \dots$

20 次の無限等比級数が収束するような実数 x の値の範囲を求め、更にそのときの和を求めよ。

$x + x(2 - x^2) + x(2 - x^2)^2 + \dots$

21 ある無限等比級数の和は 4, 第 2 項は -3 である。この級数の初項と公比を求めよ。

22 次の計算の結果を循環小数で表せ。

$0.7 \div 0.61$

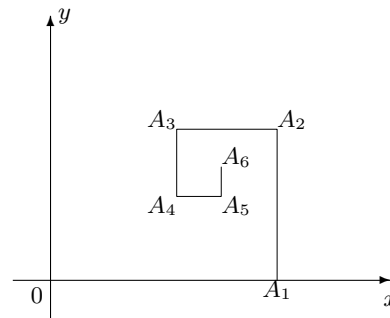
23 次の級数の和を求めよ。

(1) $\sum_{n=1}^{\infty} \frac{5^n - 2^n}{10^n}$

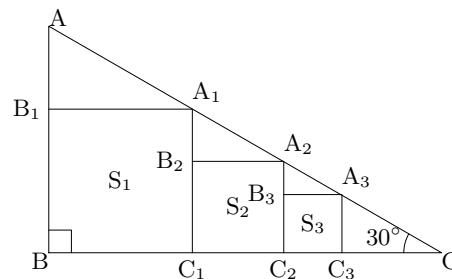
(2) $\frac{3}{3} + \frac{5}{3^2} + \frac{9}{3^3} + \frac{17}{3^4} + \dots$

(3) $\sum_{n=1}^{\infty} \left(\frac{1}{2}\right)^n \sin \frac{n\pi}{2}$

24 下図のように、 $OA_1 = 1$, $A_1A_2 = \frac{2}{3}$, $A_2A_3 = \left(\frac{2}{3}\right)^2$, \dots と無限に続けていくとき、折れ線の端はどんな点に近づくか。



25 下図のように、正方形の面積を順に S_1, S_2, \dots とするとき $\sum_{n=1}^{\infty} S_n$ を求めよ。ただし、 $AB = a$ とする。



26 次の極限を求めよ。

(1) $\lim_{x \rightarrow +0} \log_{\frac{1}{2}} x = \boxed{+\infty}$

(2) $\lim_{x \rightarrow -\infty} \frac{1}{1+2^x} = \boxed{1}$

(3) $\lim_{x \rightarrow 6} \frac{\sqrt{x+3}-3}{x-6}$

—解答例—

$$= \lim_{x \rightarrow 6} \frac{(x+3)-9}{(x-6)\{\sqrt{x+3}+3\}}$$

$$= \lim_{x \rightarrow 6} \frac{1}{\sqrt{x+3}+3} = \frac{1}{6}$$

(4) $\lim_{x \rightarrow -\infty} (x^5 - 3x^4 - x^2)$

—解答例—

$$= \lim_{x \rightarrow -\infty} x^5 \left(1 - \frac{3}{x} - \frac{1}{x^3}\right)$$

$$= -\infty$$

(5) $\lim_{x \rightarrow -\infty} \frac{x^3 + 2x^2}{2x^2 - 3x + 1}$

—解答例—

$$= \lim_{x \rightarrow -\infty} \frac{x \left(1 + \frac{2}{x}\right)}{2 - \frac{3}{x} + \frac{1}{x^2}}$$

$$= -\infty$$

(6) $\lim_{x \rightarrow -\infty} \frac{x}{\sqrt{x^2-1}}$

—解答例—
 $t = -x$ とおくと、
 $x \rightarrow -\infty \iff t \rightarrow +\infty$ ゆえ
 与式 $= \lim_{t \rightarrow +\infty} \frac{-t}{\sqrt{t^2-1}}$
 $= \lim_{t \rightarrow +\infty} \frac{-1}{\sqrt{1-\frac{1}{t^2}}} = -1$

(7) $\lim_{x \rightarrow -\infty} \frac{\sqrt{1+x^2}-1}{x}$

—解答例—
 $t = -x$ とおくと、
 $x \rightarrow -\infty \iff t \rightarrow +\infty$ ゆえ
 与式 $= \lim_{t \rightarrow +\infty} \frac{\sqrt{1+t^2}-1}{-t}$
 $= \lim_{t \rightarrow +\infty} \frac{1+t^2-1}{-t(\sqrt{1+t^2}+1)}$
 $= \lim_{t \rightarrow +\infty} \frac{-t}{\sqrt{1+t^2}+1}$
 $= \lim_{t \rightarrow +\infty} \frac{-1}{\sqrt{\frac{1}{t^2}+1} + \frac{1}{t}} = -1$

(8) $\lim_{x \rightarrow \infty} \log_2 \frac{2x^2-3x}{x^2+1}$

—解答例—

$$= \lim_{x \rightarrow \infty} \log_2 \frac{2 - \frac{3}{x}}{1 + \frac{1}{x^2}}$$

$$= \log_2 2 = 1$$

27 次の極限を求めよ。

(1) $\lim_{x \rightarrow 3-0} \frac{1}{x-3} = \boxed{-\infty}$

(2) $\lim_{x \rightarrow 2-0} \frac{|2-x|}{x-2} = \boxed{-1}$

(3) $\lim_{x \rightarrow -0} \frac{1}{1+2^{\frac{1}{x}}} = \boxed{1}$

(4) $\lim_{x \rightarrow \frac{3}{2}+0} \tan x = \boxed{-\infty}$

(5) $\lim_{x \rightarrow 2+0} [x] = \boxed{2}$

(6) $\lim_{x \rightarrow -1-0} [x] = \boxed{-2}$

(7) $\lim_{x \rightarrow 2+0} \frac{x+2}{x^2+x-6}$

—解答例—

$$= \lim_{x \rightarrow 2+0} \frac{x+2}{(x-2)(x+3)} = +\infty$$

28 次の極限はあるか。あれば求めよ。

(1) $\lim_{x \rightarrow 1} \frac{1}{(x-1)^2}$

—解答例—
 $= +\infty$

(2) $\lim_{x \rightarrow \frac{\pi}{2}} \frac{1}{\cos x}$

—解答例—

$$\lim_{x \rightarrow \frac{\pi}{2}+0} \frac{1}{\cos x} = -\infty$$

$$\lim_{x \rightarrow \frac{\pi}{2}-0} \frac{1}{\cos x} = +\infty$$

$$\lim_{x \rightarrow \frac{\pi}{2}+0} \frac{1}{\cos x} \neq \lim_{x \rightarrow \frac{\pi}{2}-0} \frac{1}{\cos x}$$
 ゆえ、極限はない。

(3) $\lim_{x \rightarrow 0} \frac{x^2}{|x|}$

—解答例—

$$= \lim_{x \rightarrow 0} \frac{|x|^2}{|x|} = \lim_{x \rightarrow 0} |x| = 0$$

29 次の関数の極限を求めよ。

(1) $\lim_{x \rightarrow 0} \frac{\sin 3x}{5x}$

—解答例—

$$= \lim_{x \rightarrow 0} \frac{\sin 3x}{3x} \cdot \frac{3}{5} = \frac{3}{5}$$

(2) $\lim_{x \rightarrow 0} \frac{\tan 2x}{\sin 3x}$

—解答例—

$$= \lim_{x \rightarrow 0} \frac{\sin 2x}{2x} \cdot \frac{1}{\cos 2x} \cdot \frac{3x}{\sin 3x} \cdot \frac{2}{3}$$

$$= \frac{2}{3}$$

(3) $\lim_{x \rightarrow 0} \frac{\sin^2 3x}{\sin^2 x}$

—解答例—

$$= \lim_{x \rightarrow 0} \left(\frac{\sin 3x}{3x}\right)^2 \left(\frac{x}{\sin x}\right)^2 \frac{9}{1}$$

$$= 9$$

(4) $\lim_{x \rightarrow 0} \frac{\sin 2x - \tan 3x}{x}$

—解答例—
 与式 $=$

$$\lim_{x \rightarrow 0} \left(\frac{\sin 2x}{2x} \cdot 2 - \frac{\sin 3x}{3x} \cdot \frac{3}{\cos 3x}\right)$$

$$= 2 - 3 = -1$$

(5) $\lim_{x \rightarrow 0} \frac{x^2}{1 - \cos x}$

—解答例—

$$= \lim_{x \rightarrow 0} \frac{x^2(1 + \cos x)}{1 - \cos^2 x}$$

$$= \lim_{x \rightarrow 0} \left(\frac{x}{\sin x}\right)^2 (1 + \cos x) = 2$$

(6) $\lim_{x \rightarrow 0} \frac{\cos x - 1}{x \sin x}$

—解答例—

$$= \lim_{x \rightarrow 0} \frac{\cos^2 x - 1}{x \sin x (\cos x + 1)}$$

$$= \lim_{x \rightarrow 0} \frac{-\sin^2 x}{x \sin x (1 + \cos x)}$$

$$= \lim_{x \rightarrow 0} \frac{\sin x}{x} \frac{-1}{1 + \cos x} = -\frac{1}{2}$$

(7) $\lim_{x \rightarrow 0} \frac{1 - \cos x}{\sin^2 2x}$

—解答例—

$$= \lim_{x \rightarrow 0} \frac{1 - \cos^2 x}{\sin^2 2x (1 + \cos x)}$$

$$= \lim_{x \rightarrow 0} \left(\frac{\sin x}{x}\right)^2 \left(\frac{2x}{\sin 2x}\right)^2 \frac{1}{4} \frac{1}{1 + \cos x}$$

$$= \frac{1}{8}$$

(8) $\lim_{x \rightarrow 0} \frac{\sin x}{x^\circ}$

—解答例—

$$= \lim_{x \rightarrow 0} \frac{\sin x}{x} \cdot \frac{\pi}{180} = \frac{180}{\pi}$$

30 次の関数の極限を求めよ。

(1) $\lim_{x \rightarrow \infty} x \sin \frac{\pi}{x}$

—解答例—

$$= \lim_{t \rightarrow 0} \frac{\sin \pi t}{t}$$

$$= \lim_{t \rightarrow 0} \frac{\sin \pi t}{\pi t} \cdot \pi$$

$$= \pi$$

(2) $\lim_{x \rightarrow 2} \frac{\sin \pi x}{x-2}$

—解答例—

$$= \lim_{t \rightarrow 0} \frac{\sin(\pi t + 2\pi)}{t}$$

$$= \lim_{t \rightarrow 0} \frac{\sin \pi t}{\pi t} \cdot \pi$$

$$= \pi$$

(3) $\lim_{x \rightarrow \frac{\pi}{2}} \frac{\pi - 2x}{\cos x}$

—解答例—

$$= \lim_{t \rightarrow 0} \frac{-2t}{\cos\left(t + \frac{\pi}{2}\right)}$$

$$= \lim_{t \rightarrow 0} \frac{2t}{\sin t}$$

$$= 2$$

(4) $\lim_{x \rightarrow \pi} \frac{\tan x}{\pi - x}$

—解答例—

$$= \lim_{t \rightarrow 0} \frac{\tan(t + \pi)}{-t}$$

$$= -\lim_{t \rightarrow 0} \frac{\tan t}{t}$$

$$= -\lim_{t \rightarrow 0} \frac{\sin t}{t} \cdot \frac{1}{\cos t}$$

$$= -1$$

(5) $\lim_{x \rightarrow 1} \frac{\sin \pi x}{x^2 - 1}$

—解答例—

$$= \lim_{t \rightarrow 0} \frac{\sin \pi(t+1)}{t(t+2)}$$

$$= \lim_{t \rightarrow 0} \frac{\sin \pi t}{\pi t} \cdot \frac{-\pi}{t+2}$$

$$= -\frac{\pi}{2}$$

31 $\lim_{x \rightarrow 1} \frac{a\sqrt{x+3} - b}{x-1} = \frac{1}{4}$ が成り立つような定数 a, b を求めよ。

—解答例—

$$\lim_{x \rightarrow 1} (a\sqrt{x+3} - b) = \lim_{x \rightarrow 1} (x-1) \cdot \frac{a\sqrt{x+3} - b}{x-1} = 0$$

$$\therefore 2a - b = 0. \therefore b = 2a.$$

よって、与式は、次のようになる。

$$\lim_{x \rightarrow 1} \frac{a\sqrt{x+3} - 2a}{x-1} = \lim_{x \rightarrow 1} \frac{a(x+3-4)}{(x-1)(\sqrt{x+3}+2)} = \frac{a}{4} = \frac{1}{4}.$$

$\therefore a = 1, b = 2$

32 次の関数はどのような範囲で連続か。

(1) $\frac{1}{x^2 - 3x}$ $x \neq 0, 3$ (2) $\log_{10}(x-2)$ $x > 2$

(3) $\frac{\sin x}{\cos x + 1}$ $x \neq \pi + 2n\pi (n \text{ は整数})$

33 次の関数は $x = 0$ で連続か。

(1) $f(x) = \begin{cases} \frac{x^2}{|x|} + 2 & (x \neq 0) \\ 2 & (x = 0) \end{cases}$

—解答例—

$$\lim_{h \rightarrow +0} f(h) = \lim_{h \rightarrow +0} \left(\frac{h^2}{|h|} + 2 \right) = \lim_{h \rightarrow +0} (h + 2) = 2 = f(0)$$

$$\lim_{h \rightarrow -0} f(h) = \lim_{h \rightarrow -0} \left(\frac{h^2}{|h|} + 2 \right) = \lim_{h \rightarrow -0} (-h + 2) = 2 = f(0)$$
 よって連続である。

(2) $f(x) = \begin{cases} \frac{1}{1 + 2^{1/x}} & (x \neq 0) \\ 1 & (x = 0) \end{cases}$

—解答例—

$$\lim_{h \rightarrow +0} f(h) = \lim_{h \rightarrow +0} \frac{1}{1 + 2^{1/h}} = 0$$

$$\lim_{h \rightarrow -0} f(h) = \lim_{h \rightarrow -0} \frac{1}{1 + 2^{1/h}} = \frac{1}{1 + 0} = 1$$

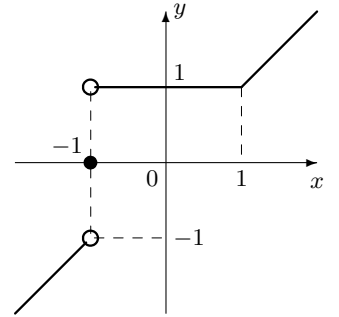
$$\lim_{h \rightarrow 0} f(h) \text{ が存在しないので、連続ではない。}$$

34 次の関数のグラフをかき、不連続となる x の値をいえ。

(1) $f(x) = \lim_{n \rightarrow \infty} \frac{x^{2n+1} + 1}{x^{2n} + 1}$

—解答例—
 $|x| < 1$ のとき、 $f(x) = 1$.
 $|x| > 1$ のとき、

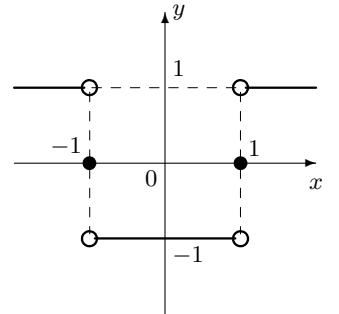
$$f(x) = \lim_{n \rightarrow \infty} \frac{x + \frac{1}{x^{2n}}}{1 + \frac{1}{x^{2n}}} = x.$$
 $x = 1$ のとき、 $f(1) = 1$.
 $x = -1$ のとき、 $f(-1) = 0$
 図より、 $x = -1$ で不連続。



(2) $f(x) = \lim_{n \rightarrow \infty} \frac{|x|^n - 1}{|x|^n + 1}$

—解答例—
 $|x| < 1$ のとき、 $f(x) = -1$
 $|x| > 1$ のとき、

$$f(x) = \lim_{n \rightarrow \infty} \frac{1 - \frac{1}{|x|^n}}{1 + \frac{1}{|x|^n}} = 1$$
 $x = \pm 1$ のとき、 $f(\pm 1) = 0$
 図より、 $x = \pm 1$ で不連続。



35 方程式 $x \sin x + \cos x = 0$ は、 $\frac{\pi}{2}$ と π の間に解を持つことを示せ。

—解答例—
 $f(x) = x \sin x + \cos x$ とおくと、区間 $\left[\frac{\pi}{2}, \pi \right]$ で連続で、 $f\left(\frac{\pi}{2}\right) = \frac{\pi}{2} \sin \frac{\pi}{2} + \cos \frac{\pi}{2} = \frac{\pi}{2} > 0$ $f(\pi) = \pi \sin \pi + \cos \pi = -1 < 0$ ゆえ、
 $f(x) = 0$ は、 $\left(\frac{\pi}{2}, \pi\right)$ で x 軸と交わる。よって、方程式 $x \sin x + \cos x = 0$ は、 $\frac{\pi}{2}$ と π の間に解を持つ。

36 次の空欄をうめよ。

$$(1) \left(\frac{1}{g(x)} \right)' = \frac{-g'(x)}{\{g(x)\}^2}$$

$$(2) \left(\frac{f(x)}{g(x)} \right)' = \frac{f'(x)g(x) - f(x)g'(x)}{\{g(x)\}^2}$$

$$(3) (f(x)g(x))' = f'(x)g(x) + f(x)g'(x)$$

$$(4) (\{f(x)\}^n)' = n\{f(x)\}^{n-1}f'(x)$$

$$(5) (\sqrt{f(x)})' = \frac{f'(x)}{2\sqrt{f(x)}}$$

$$(6) (\sin f(x))' = f'(x) \cos f(x)$$

$$(7) (\tan f(x))' = \frac{f'(x)}{\cos^2 f(x)}$$

37 次の関数を微分せよ。

$$(1) y = (2x+1)(x^2-x+1) \quad (2) y = (1-x^2)^3(2-3x)^4$$

—解答例—

$$(1) y' = 2(x^2-x+1) + (2x+1)(2x-1) = 6x^2-2x+1$$

$$(2) y' = 3(1-x^2)^2(-2x)(2-3x)^4 + (1-x^2)^3 4(2-3x)^3(-3) \\ = (1-x^2)^2(2-3x)^3\{18x^2-12x-12+12x^2\} \\ = 6(1-x^2)^2(2-3x)^3(5x^2-2x-2)$$

$$(3) y = \frac{1}{x^2+x+1} \quad (4) y = \frac{x^2+x+1}{2x^2+3x-1}$$

—解答例—

$$(3) y' = -\frac{2x+1}{(x^2+x+1)^2}$$

$$(4) y' = \frac{(2x+1)(2x^2+3x-1) - (x^2+x+1)(4x+3)}{(2x^2+3x-1)^2} \\ = \frac{x^2-6x-4}{(2x^2+3x-1)^2}$$

$$(5) y = (x - \frac{1}{x})(x-1) \quad (6) y = (x^2-2x+3)^3$$

—解答例—

$$(5) y = x^2-x-1 + \frac{1}{x} \quad \text{ゆえ、} y' = 2x-1 - \frac{1}{x^2}$$

$$(6) y' = 3(x^2-2x+3)^2(2x-2) = 6(x-1)(x^2-2x+3)$$

$$(7) y = \{2x+(x^2-1)^2\}^4 \quad (8) y = \left(\frac{x}{2x-1}\right)^3$$

—解答例—

$$(7) y' = 4\{2x+(x^2-1)^2\}^3\{2+2(x^2-1)2x\} \\ = 8(x^4-2x^2+2x+1)(2x^3-2x+1)$$

$$(8) y' = 3\left(\frac{x}{2x-1}\right)^2 \frac{(2x-1)-2x}{(2x-1)^2} = -\frac{3x^2}{(2x-1)^4}$$

$$(9) y = \frac{1}{(2x-1)^3} \quad (10) y = \sqrt[5]{x^2}$$

—解答例—

$$y' = \{(2x-1)^{-3}\}' \\ = -3(2x-1)^{-4} \cdot 2 = \frac{-6}{(2x-1)^4}$$

—解答例—

$$y' = \left(x^{\frac{2}{5}}\right)' = \frac{2}{5}x^{-\frac{3}{5}} = \frac{2}{5\sqrt[5]{x^3}}$$

$$(11) y = x\sqrt[3]{x}$$

—解答例—

$$y = x^{\frac{4}{3}} \quad \text{ゆえ、} \\ y' = \frac{4}{3}x^{\frac{1}{3}} = \frac{4}{3}\sqrt[3]{x}$$

$$(12) y = \frac{1}{\sqrt[3]{x}}$$

—解答例—

$$y = x^{-\frac{1}{3}} \quad \text{ゆえ} \\ y' = -\frac{1}{3}x^{-\frac{4}{3}} = -\frac{1}{3x\sqrt[3]{x}}$$

$$(13) y = \sqrt{x^2+2x}$$

—解答例—

$$y = (x^2+2x)^{\frac{1}{2}} \quad \text{ゆえ} \\ y = \frac{1}{2}(x^2+2x)^{-\frac{1}{2}}(2x+2) \\ = \frac{x+1}{\sqrt{x^2+2x}}$$

$$(14) y = \sqrt[3]{3x+1}$$

—解答例—

$$y = (3x+1)^{\frac{1}{3}} \quad \text{ゆえ} \\ y' = \frac{1}{3}(3x+1)^{-\frac{2}{3}} \cdot 3 \\ = \frac{1}{\sqrt[3]{(3x+1)^2}}$$

$$(15) y = \frac{1}{\sqrt{x^2+1}}$$

—解答例—

$$y = (x^2+1)^{-\frac{1}{2}} \quad \text{ゆえ} \\ y' = -\frac{1}{2}(x^2+1)^{-\frac{3}{2}} \times 2x \\ = -\frac{x}{(x^2+1)\sqrt{x^2+1}}$$

$$(16) y = \sqrt{\frac{1-x}{1+x}}$$

—解答例—

$$y = \left(\frac{1-x}{1+x}\right)^{\frac{1}{2}} \quad \text{ゆえ} \\ y' = \frac{1}{2} \left(\frac{1-x}{1+x}\right)^{-\frac{1}{2}} \\ \times \frac{-(1+x) - (1-x)}{(1+x)^2}$$

$$(17) y = \frac{\sqrt{x^2+1}}{x+1}$$

—解答例—

$$(17) y' = \frac{\frac{1}{2}(x^2+1)^{-\frac{1}{2}} \cdot 2x \cdot (x+1) - \sqrt{x^2+1}}{(x+1)^2} = \frac{x^2+x-x^2-1}{(x+1)^2\sqrt{x^2+1}} \\ = \frac{x-1}{(x+1)^2\sqrt{x^2+1}}$$

$$(18) y = \frac{1}{\cos(2\sqrt{1+x})}$$

$$(18) y' = -\sin(2-3x) \times (-3) = 3\sin(2-3x)$$

$$(19) y = \tan^3 x$$

—解答例—

$$y' = 3\tan^2 x \frac{1}{\cos^2 x} = \frac{3\tan^2 x}{\cos^2 x}$$

$$(20) y = \cos^2 3x$$

—解答例—

$$y' = 2\cos 3x \times (-\sin 3x) \times 3 \\ = -6\sin 3x \cos 3x = -3\sin 6x$$

$$(21) y = \sin \sqrt{x+1}$$

—解答例—

$$y' = \cos \sqrt{x+1} \times \frac{1}{2}(x+1)^{-\frac{1}{2}} \\ = \frac{\cos \sqrt{x+1}}{2\sqrt{x+1}}$$

$$(22) y = \sqrt{1-\cos^3 x}$$

—解答例—

$$y' = \frac{1}{2}(1-\cos^3 x)^{-\frac{1}{2}} \\ \times (-3\cos^2 x) \times (-\sin x) \\ = \frac{3\sin x \cos^2 x}{2\sqrt{1-\cos^3 x}}$$

$$(23) y = \frac{\tan x}{x}$$

—解答例—

$$y' = \frac{\frac{1}{\cos^2 x} \cdot x - \tan x}{x^2} = \frac{(\tan^2 x + 1)x - \tan x}{x^2} \\ = \frac{x \tan^2 x - \tan x + x}{x^2}$$

微分演習 No2 導関数

組 番 氏名 _____

38 次の関係より $\frac{dy}{dx}$ を求めよ。

(1) $x = y^2 + y + 1$

—解答例—

両辺を x で微分して、
 $1 = 2y \frac{dy}{dx} + \frac{dy}{dx}$
 よって、 $\frac{dy}{dx} = \frac{1}{2y+1}$

(2) $x^2 + y^2 = 25$

—解答例—

両辺を x で微分して、
 $2x + 2y \frac{dy}{dx} = 0$
 $\therefore \frac{dy}{dx} = -\frac{x}{y}$

(3) $xy = 4$

—解答例—

両辺を x で微分して、
 $y + x \frac{dy}{dx} = 0$
 $\therefore \frac{dy}{dx} = -\frac{y}{x}$

(4) $\sqrt{x} + \sqrt{y} = 4$

—解答例—

両辺を x で微分して、
 $\frac{1}{2}x^{-\frac{1}{2}} + \frac{1}{2}y^{-\frac{1}{2}} \frac{dy}{dx} = 0$
 $\therefore \frac{1}{\sqrt{x}} + \frac{1}{\sqrt{y}} \frac{dy}{dx} = 0$
 $\therefore \frac{dy}{dx} = -\sqrt{\frac{y}{x}}$

39 次の空欄をうめよ。

(1) $(\log |f(x)|)' = \frac{f'(x)}{f(x)}$

(2) $(\log_a |f(x)|)' = \frac{f'(x)}{f(x) \log a}$

(3) $(a^{f(x)})' = a^{f(x)} f'(x) \log a$

(4) $(e^{f(x)})' = e^{f(x)} f'(x)$

40 次の関数を微分せよ。

(1) $y = \log |3x - 1|$

—解答例—

$y' = \frac{3}{3x-1}$

(2) $y = \log x^3$

—解答例—

$y' = (3 \log x)' = \frac{3}{x}$

(3) $y = (\log x)^3$

—解答例—

$y' = 3(\log x)^2 \times (\log x)'$
 $= \frac{3(\log x)^2}{x}$

(4) $y = \sin x \log x$

—解答例—

$y' = \cos x \times \log x + \sin x \times \frac{1}{x}$
 $= \cos x \log x + \frac{\sin x}{x}$

(5) $y = \log(x + \sqrt{x^2 - 1})$

—解答例—

(5) $y' = \frac{1 + (\sqrt{x^2 - 1})'}{x + \sqrt{x^2 - 1}}$
 $= \frac{1}{x + \sqrt{x^2 - 1}} \times \left(1 + \frac{1}{2}(x^2 - 1)^{-\frac{1}{2}} \times (x^2 - 1)'\right)$
 $= \frac{\sqrt{x^2 - 1} + x}{\sqrt{x^2 - 1}(x + \sqrt{x^2 - 1})} = \frac{1}{\sqrt{x^2 - 1}}$

(6) $y' = \frac{(\log x)'x - \log x(x)'}{x^2} = \frac{1 - \log x}{x^2}$

(7) $y = \log(\log x)$

—解答例—

$y' = \frac{1}{\log x} \times (\log x)' = \frac{1}{x \log x}$

(8) $y = \log_{10} |1 - 2x|$

—解答例—

$y' = \left(\frac{\log |1 - 2x|}{\log 10}\right)'$
 $= \frac{-2}{(1 - 2x) \log 10}$

(9) $y = \log_2(\cos^2 x)$

—解答例—

$y' = \left(\frac{\log(\cos^2 x)}{\log 2}\right)'$
 $= \frac{2 \cos x(-\sin x)}{\cos^2 x \cdot \log 2}$
 $= -\frac{\sin 2x}{\log 2 \cdot \cos^2 x}$

(10) $y = \frac{1}{\log_5 x}$

—解答例—

$y' = \left(\frac{\log 5}{\log x}\right)' = -\frac{\log 5}{x(\log x)^2}$

(11) $y = e^{1/x}$

—解答例—

$y' = e^{1/x} \cdot \left(-\frac{1}{x^2}\right) = -\frac{e^{1/x}}{x^2}$

(12) $y = 2^{\tan x}$

—解答例—

$y' = (e^{\log 2 \cdot \tan x})'$
 $= e^{\log 2 \cdot \tan x} \cdot \log 2 \cdot \left(-\frac{1}{\cos^2 x}\right)$
 $= -\frac{2^{\tan x} \log 2}{\cos^2 x}$

(13) $y = e^{2x} \log x$

—解答例—

$y' = 2e^{2x} \log x + \frac{e^{2x}}{x}$

(14) $y = e^x \log \cos x$

—解答例—

$y' = e^x \log \cos x + e^x \cdot \frac{-\sin x}{\cos x}$
 $= e^x(\log \cos x - \tan x)$

(15) $y = \frac{\sin x}{e^x}$

—解答例—

$y' = \frac{\cos x e^x - \sin x e^x}{e^{2x}}$
 $= \frac{\cos x - \sin x}{e^x}$

(16) $y = \frac{e^x - 1}{e^x + 1}$

—解答例—

$y' = \left(\frac{e^x - 1}{e^x + 1}\right)'$
 $= \frac{e^x(e^x + 1) - (e^x - 1)e^x}{(e^x + 1)^2}$
 $= \frac{2e^x}{(e^x + 1)^2}$

(17) $y = x^x \ (x > 0)$

—解答例—

両辺の対数をとって、
 $\log y = x \log x$
 両辺を x で微分すると、
 $\frac{y'}{y} = \log x + x \frac{1}{x} = \log x + 1$
 $\therefore y' = (\log x + 1)y = x^x(\log x + 1)$

(18) $y = x^{\cos x} \ (x > 0)$

—解答例—

両辺の対数をとって、
 $\log y = \cos x \log x$
 両辺を x で微分すると、
 $\frac{y'}{y} = -\cos x \log x + \cos x \frac{1}{x}$
 $\therefore y' = (-\cos x \log x + \cos x \frac{1}{x})y$

(19) $y = x^{\sqrt{x}} \ (x > 0)$

—解答例—

両辺の対数をとって、 $\log y = \sqrt{x} \log x$
 両辺を x で微分すると、 $\frac{y'}{y} = \frac{1}{2}x^{-\frac{1}{2}} \log x + \sqrt{x} \frac{1}{x} = \frac{2 - \log x}{2\sqrt{x}}$
 $\therefore y' = \frac{2 - \log x}{2\sqrt{x}} \cdot y = \frac{(2 - \log x)x^{\sqrt{x}}}{2\sqrt{x}}$

41 次の関数の第3次導関数まで求め、第n次導関数を推定せよ。

(1) $y = e^{-3x}$

—解答例—

$$y' = -3e^{-3x}$$

$$y'' = 9e^{-3x}$$

$$y''' = -27e^{-3x}$$

$$y^{(n)} = (-3)^n e^{-3x} \text{ と推定される。}$$

(2) $y = \frac{1}{x+2}$

—解答例—

$$y' = \{(x+2)^{-1}\}' = -(x+2)^{-2} = -\frac{1}{(x+2)^2}$$

$$y'' = \{-(x+2)^{-2}\}' = 2(x+2)^{-3} = \frac{2}{(x+2)^3}$$

$$y''' = \{2(x+2)^{-3}\}' = -6(x+2)^{-4} = \frac{-6}{(x+2)^4}$$

$$y^{(n)} = \frac{(-1)^n n!}{(x+2)^{n+1}} \text{ と推定される。}$$

(3) $y = \cos x$

—解答例—

$$y' = -\sin x, y'' = -\cos x, y''' = \sin x, y^{(4)} = \cos x = y \text{ ゆえ、}$$

$$y = y^{(4)} = y^{(8)} = \dots = \cos x, y' = y^{(5)} = y^{(9)} = \dots = -\sin x,$$

$$y'' = y^{(6)} = y^{(10)} = \dots = -\cos x, y''' = y^{(7)} = y^{(11)} = \dots = \sin x$$

$$\text{まとめて、} k \text{ を自然数とするととき、} y^{(n)} = \begin{cases} \cos x & (n = 4k) \\ -\sin x & (n = 4k + 1) \\ -\cos x & (n = 4k + 2) \\ \sin x & (n = 4k + 3) \end{cases}$$

42 $y = x\sqrt{1+x^2}$ について $(1+x^2)y'' + xy' = 4y$ が成り立つことを証明せよ。

—解答例—

$$y' = \sqrt{1+x^2} + \frac{x^2}{\sqrt{1+x^2}}, y'' = \dots = \frac{3x+2x^3}{(1+x^2)\sqrt{1+x^2}}$$

$$\therefore (1+x^2)y'' + xy' = \frac{3x+2x^3}{\sqrt{1+x^2}} + x\sqrt{1+x^2} + \frac{x^3}{\sqrt{1+x^2}}$$

$$= \frac{3(x+x^3)}{\sqrt{1+x^2}} + x\sqrt{1+x^2} = 3x\sqrt{1+x^2} + x\sqrt{1+x^2} = 4x\sqrt{1+x^2} = 4y$$

43 定義に従って $y = \sqrt{x}$ の導関数を求めよ。

—解答例—

$$(\sqrt{x})' = \lim_{h \rightarrow 0} \frac{\sqrt{x+h} - \sqrt{x}}{h} = \lim_{h \rightarrow 0} \frac{x+h-x}{h(\sqrt{x+h} + \sqrt{x})}$$

$$= \lim_{h \rightarrow 0} \frac{1}{\sqrt{x+h} + \sqrt{x}} = \frac{1}{2\sqrt{x}}$$

44 $f(x)$ が $x = a$ で微分可能のとき、次の極限値を $a, f(a), f'(a)$ で表せ。

(1) $\lim_{h \rightarrow 0} \frac{f(a-2h) - f(a)}{h}$

—解答例—

$$\text{与式} = \lim_{h \rightarrow 0} \frac{f(a-2h) - f(a)}{-2h} \times (-2) = -2f'(a)$$

(2) $\lim_{h \rightarrow 0} \frac{f(a+5h) - f(a-3h)}{h}$

—解答例—

$$\text{与式} = \lim_{h \rightarrow 0} \left(\frac{f(a+5h) - f(a) - f(a-3h) + f(a)}{h} \right)$$

$$= \lim_{h \rightarrow 0} \left(\frac{f(a+5h) - f(a)}{5h} \times 5 - \frac{f(a-3h) - f(a)}{-3h} \times (-3) \right)$$

$$= 5f'(a) + 3f'(a) = 8f'(a)$$

(3) $\lim_{x \rightarrow a} \frac{xf(x) - af(a)}{x-a}$

—解答例—

$$\text{与式} = \lim_{x \rightarrow a} \frac{xf(x) - xf(a) + xf(a) - af(a)}{x-a}$$

$$= \lim_{x \rightarrow a} \left(\frac{x(f(x) - f(a))}{x-a} + f(a) \right) = x f'(a) + f(a)$$

(4) $\lim_{x \rightarrow a} \frac{x^3 f(a) - a^3 f(x)}{x-a}$

—解答例—

$$\text{与式} = \lim_{x \rightarrow a} \frac{x^3 f(x) - x^3 f(a) + x^3 f(a) - a^3 f(a)}{x-a}$$

$$= \lim_{x \rightarrow a} \left(\frac{x^3(f(x) - f(a))}{x-a} + \frac{x^3 - a^3}{x-a} f(a) \right) = x^3 f'(a) + 3a^2 f(a)$$

45 次の極限値を求めよ。

(1) $\lim_{h \rightarrow 0} \frac{\cos(x+h) - \cos x}{h}$

—解答例—

$$\text{与式} = (\cos x)' = -\sin x$$

(2) $\lim_{h \rightarrow 0} \frac{(1+h)^7 - 1}{h}$

—解答例—

$$f(x) = x^7 \text{ とおくと、与式} = f'(1) = 7$$

(3) $\lim_{h \rightarrow 0} \frac{a^h - 1}{h}$

—解答例—

$$f(x) = a^x \text{ とおくと、与式} = f'(0) = a^0 \log a = \log a$$

(4) $\lim_{h \rightarrow 0} \frac{\log(1+h)}{h}$

—解答例—

$$f(x) = \log x \text{ とおくと、与式} = f'(1) = \frac{1}{1} = 1$$

(5) $\lim_{x \rightarrow a} \frac{\tan x - \tan a}{x-a}$

—解答例—

$$f(x) = \tan x \text{ とおくと、与式} = f'(x) = \frac{1}{\cos^2 x}$$

(6) $\lim_{x \rightarrow a} \frac{\sin^2 x - \sin^2 a}{x-a}$

—解答例—

$$f(x) = \sin^2 x \text{ とおくと、与式} = f'(x) = 2 \sin x \cos x = \sin 2x$$

46 次の曲線の与えられた点における接線の方程式を求めよ。

(1) $y = \log(x - 1)$ ($x = 2$)

—解答例—

$$y'|_{x=2} = \frac{1}{x-1} \Big|_{x=2} = 1$$

$$y|_{x=2} = \log 1 = 0$$

接点は (2,0), 接線の傾きは 1 ゆえ接線の方程式は $y = x - 2$

(2) $y = \frac{x^2 + 1}{x + 1}$ ($x = 1$)

—解答例—

$$y'|_{x=1} = \left(\frac{x-1}{x+1} + \frac{2}{x+1} \right)' \Big|_{x=1}$$

$$= 1 - \frac{1}{(x+1)^2} \Big|_{x=1} = \frac{3}{4}$$

$$y|_{x=1} = 1$$

接点は (1,1), 接線の傾きは $\frac{3}{4}$ ゆえ接線

の方程式は $y = \frac{3}{4}x + \frac{1}{4}$

(3) $y = \sqrt{4 - x^2}$ ($x = -\sqrt{3}$)

—解答例—

$$y' = -\frac{x}{\sqrt{4-x^2}} \text{ ゆえ } y'|_{x=-\sqrt{3}} = \sqrt{3}, \text{ また } y|_{x=-\sqrt{3}} = 1$$

接点は $(-\sqrt{3}, 1)$, 接線の傾きは $\sqrt{3}$ ゆえ接線の方程式は

$$y = \sqrt{3}x + 4$$

(4) $y = \cos x$ ($x = \frac{\pi}{3}$)

47 次の曲線上の点 (x_1, y_1) における接線の方程式を求めよ。

(1) だ円 $\frac{x^2}{a^2} + \frac{y^2}{b^2} = 1$

(2) 双曲線 $\frac{x^2}{a^2} - \frac{y^2}{b^2} = -1$

(3) 放物線 $y^2 = 4px$

(4) 円 $x^2 + y^2 = r^2$

48 曲線 $x^2 + xy + y^2 = 7$ 上の点 (2, 1) における接線の方程式を求めよ。

49 曲線 $y = \sqrt[3]{x}$ 上の点 (8, 2) における法線の方程式を求めよ。

50 $y = \log x$ の接線で、直線 $x - 2y = 1$ に平行なものを求めよ。

51 原点から曲線 $y = \frac{e^x}{x}$ にひいた接線の方程式を求めよ。

52 $y = \log x$ と $y = ax^2 + bx$ が点 (1, 0) で共通接線を持つように、 a, b の値を求めよ。

53 曲線 $\sqrt{x} + \sqrt{y} = \sqrt{a}$ の任意の接線が、 x 軸 y 軸と交わる点を A, B とするとき、 $OA + OB$ は一定であることを示せ。

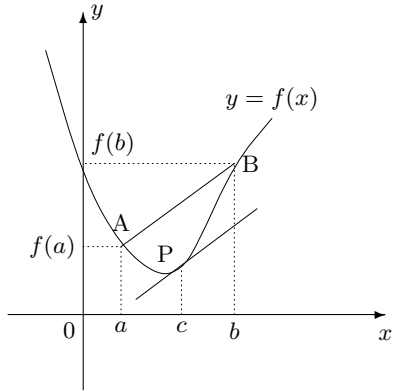
微分演習 No5 平均値の定理

組 番 氏名

54 関数 $f(x)$ が $a \leq x \leq b$ で のとき

ア = イ ($a < c < b$)

を満たす c が少なくとも1つ存在する。これを **平均値の定理** という。下図において、 ア は を表し、 イ は を表す。



55 次の関数に、示された区間において平均値の定理を適用するとき c の値を求めよ。

(1) $f(x) = x^3 + 2x + 3$, $[0, 1]$

(2) $f(x) = \sqrt{x}$, $[1, 9]$

(3) $f(x) = \log x$, $[1, 2]$

56 平均値の定理を用いて、次の不等式を証明したい。

$a < b$ のとき $e^a < \frac{e^b - e^a}{b - a} < e^b$

空欄をうめよ。(同じ文字には、同じものが入る) [証明]
 $f(x) = e^x$ において、 $[a, b]$ で平均値の定理を使うと

ア = イ ($a < c < b$)

を満たす c が少なくとも1つ存在する。

$f'(x) = \text{}$ より $\text{}$ $\text{イ} = \text{}$ ウ

ゆえに $\text{}$ $\text{ア} = \text{}$ ウ ... ①

ところで、 $a < c < b$ より

$\text{}$ $< \text{}$ $\text{ウ} < \text{}$... ②

① を ② に代入して

$\text{}$ $< \text{}$ $\text{ア} < \text{}$

以上より証明された。

57 3 と同様に、次の不等式を証明せよ。

$0 < a < b$ のとき、 $\frac{1}{b} < \frac{\log b - \log a}{b - a} < \frac{1}{a}$

58 次の関数の増減、極値、グラフの凹凸および変曲点を調べてグラフの概形をかけ。

$$(1) y = \frac{x^2}{x+1}$$

$$(2) y = \frac{(x-1)^3}{x^2}$$

$$(3) y = x\sqrt{1-x^2}$$

$$(4) y = x + 2\sin x \quad (0 \leq x \leq 2\pi)$$

59 関数 $f(x) = \frac{4x+3}{x^2+1}$ の極値を求めよ。

60 $0 \leq x \leq \pi$ において、次の関数の極値を求めよ。

$$f(x) = \sin 2x + 2 \cos x$$

61 $y = x(\log x)^2$ の極値を求めよ。

62 $f(x) = |x|\sqrt{3-x}$ の極値を求めよ。

63 $y = xe^x$ の変曲点があれば求めよ。

64 $f(x) = a \sin x + b \cos 2x$ ($0 \leq x < 2\pi$) が $x = \frac{\pi}{6}$ のとき極大値 $\frac{3}{2}$ をとるように、 a, b の値を求めよ。

65 $f(x) = ax + \sin x$ が極値を持つように定数 a の値の範囲を求めよ。

66 次の関数の最大値、最小値を求めよ。

$$(1) f(x) = \frac{1-x}{2+x^2}$$

$$(2) f(x) = x - 1 + \sqrt{4-x^2}$$

$$(3) f(x) = \sin x(1 - \cos x) \quad (-\pi \leq x \leq \pi)$$

67 放物線 $y = x^2 + 1$ 上の点 P における接線が x 軸と交わる点を Q, P から x 軸に下ろした垂線の足を H とするとき、 $\triangle PQH$ の面積を最小にする点 P (第 1 象限の点) の座標を求めよ。

68 次の問に答えよ。

$$(1) \text{関数 } y = \frac{1}{2}x - \sqrt{x} \text{ のグラフをかけ。}$$

(2) a を正の定数とすると、区間 $[0, a]$ における最大値、最小値を求めよ。

69 表面積が一定の値 a である直円柱の体積を最大にしたい。底面の半径と高さの比をどのようにしたらよいか。

70 次の不等式を証明せよ。

(1) $x > 0$ のとき $x \log x \geq x - 1$

(2) $x > 0$ のとき $\log(1+x) > x - \frac{x^2}{2}$

(3) $x > 0$ のとき $\cos x > 1 - \frac{x^2}{2}$

71 次の問に答えよ。

(1) $x > 0$ のとき $e^x > 1 + x + \frac{x^2}{2}$ を証明せよ。

(2) $\lim_{x \rightarrow \infty} \frac{x}{e^x}$ を求めよ。

(3) $\lim_{x \rightarrow \infty} \frac{\log x}{x}$ を求めよ。

(4) $\lim_{x \rightarrow +0} x \log x$ を求めよ。

72 方程式 $\log x = \frac{1}{2x}$ の実数解の個数を求めよ。

73 次の方程式の異なる実数解の個数を求めよ。 a は実数とする。

(1) $\log x = \frac{a}{x}$

(2) $2x^3 - ax^2 + 1 = 0$

微分演習 No10 媒介変数表示

組 番 氏名

74 次の曲線を媒介変数 θ を用いて、媒介変数表示せよ。

(1) 円 $x^2 + y^2 = r^2$

(2) だ円 $\frac{x^2}{a^2} + \frac{y^2}{b^2} = 1$

75 次の空欄をうめよ。

点 $(0, a)$ を中心に、半径 a の円が x 軸に接しながらすべらずに

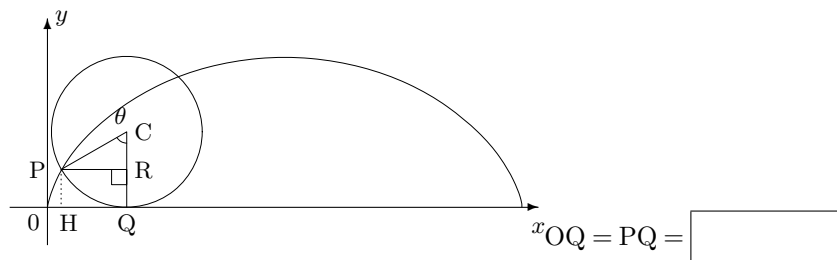
ころがるとき、周上の定点 P(最初は原点にある) のえがく曲線を

といい、円が角 θ だけ回転したときの P の座標

を (x, y) とすると

$(x, y) =$

[証明]



, PC = a より

PR =

CR =

従って

$x = OH = OQ - QH = OQ - PR$

= -

=

$y = PH = RQ = CQ - CR$

= -

=

76 次の関数について、 $\frac{dy}{dx}$, $\frac{d^2y}{dx^2}$ を t で表せ。

(1) $x = \cos 2t$, $y = \sin t$

(2) $x = \frac{t}{1+t}$, $y = \frac{t^2}{1+t}$

77 曲線 $\begin{cases} x = \theta - \sin \theta \\ y = 1 - \cos \theta \end{cases}$ 上の $\theta = \frac{\pi}{2}$ に対応する点における接線、法線の方程式を求めよ。

78 曲線 $\begin{cases} x = 2 \cos \theta \\ y = \sin \theta \end{cases}$ ($0 < \theta < \frac{\pi}{2}$) 上の点 P における接線が x 軸、 y 軸と交わる点を A, B とする。

(1) $\triangle OAB$ の面積 S を求めよ。

(2) S の最小値を求めよ。

79 一次の近似式を作れ

(1) $h \doteq 0$ のとき

$$f(a+h) \doteq \boxed{}$$

(2) $x \doteq 0$ のとき

$$f(x) \doteq \boxed{}$$

特に $(1+x)^n \doteq \boxed{}$

80 次の一次の近似式を作れ

(1) $h \doteq 0$ のとき

$$\tan(a+h) \doteq \boxed{}$$

(2) $h \doteq 0$ のとき

$$\log(a+h) \doteq \boxed{}$$

(3) $x \doteq 0$ のとき

$$\cos x \doteq \boxed{}$$

(4) $x \doteq 0$ のとき

$$e^{2x} \doteq \boxed{}$$

(5) $x \doteq 0$ のとき

$$\frac{1}{1+x} \doteq \boxed{}$$

81 次の数の近似値を求めよ。

(1) 1.003^4

(2) $\frac{1}{0.998}$

(3) $\frac{1}{\sqrt{1.05}}$

(4) 1.98^5

(5) $\sqrt[3]{8.12}$

82 時刻 t における座標が、次の式で与えられる点の運動で $t=4$ における

速度、速さ、速度の向き、加速度、加速度の大きさを求めよ。

$$\begin{cases} x = 3 \sin \frac{\pi}{6}t \\ y = 3 \cos \frac{\pi}{6}t \end{cases}$$

83 表面積が毎秒 3cm^2 の割合で増加している球がある。半径が 4cm になっ

た瞬間において、この球の体積はどのような割合で増加するか。

84 上面の半径が 4cm 、高さ 10cm の直円錐形の容器に毎秒 2cm^3 の割合で

水を注ぐとき、水面の高さが 5cm になった瞬間において、水面の上昇する速さを求めよ。

85 次の不定積分を求めよ。

(1) $\int \frac{1}{(5x+3)^3} dx$

—解答例—

$5x+3=t$ とおくと、
 $5 \frac{dx}{dt} = 1$
 \therefore 与式 $= \int t^{-3} \frac{dx}{dt} dt$
 $= \frac{1}{5} \cdot \frac{t^{-2}}{-3+1} + C$
 $= -\frac{1}{10(5x+3)^2} + C$

(2) $\int \frac{x+2}{(x-1)^3} dx$

—解答例—

$x-1=t$ とおくと、 $\frac{dx}{dt} = 1 \therefore$
 与式 $= \int \frac{t+1+2}{t^3} \frac{dx}{dt} dt$
 $= \int (t^{-2} + 3t^{-3}) dt$
 $= \frac{t^{-1}}{-2+1} + \frac{3t^{-2}}{-3+1} + C$
 $= -\frac{1}{x-1} - \frac{3}{2(x-1)^2} + C$

(3) $\int \frac{2}{1-3x} dx$

—解答例—

与式 $= -\frac{2}{3} \int \frac{(1-3x)'}{1-3x} dx$
 $= -\frac{2}{3} \log|1-3x| + C$

(4) $\int \frac{2x+3}{x+1} dx$

—解答例—

与式 $= \int \left(2 + \frac{1}{x+1}\right) dx$
 $= 2x + \log|x+1| + C$

(5) $\int \frac{2x^3+x^2+5x+2}{x^2+2} dx$

—解答例—

$= \int \frac{(2x+1)(x^2+2)+x}{x^2+2} dx$
 $= \int \left(2x+1 + \frac{(x^2+2)'}{2(x^2+2)}\right) dx$
 $= x^2+x + \frac{1}{2} \log(x^2+2) + C$

(6) $\int \frac{1}{x(x+2)} dx$

—解答例—

$= \int \frac{1}{2} \left(\frac{1}{x} - \frac{1}{x+2}\right) dx$
 $= \frac{1}{2} (\log|x| - \log|x+2|) + C$

(7) $\int \frac{x^4}{x^2-1} dx$

—解答例—

$= \int \frac{(x^2+1)(x^2-1)+1}{x^2-1} dx$
 $= \int \left(x^2+1 + \frac{1}{(x-1)(x+1)}\right) dx$
 $= \int (x^2+1) dx$
 $+ \int \frac{1}{2} \left(\frac{1}{x-1} - \frac{1}{x+1}\right) dx$
 $= \frac{x^3}{3} + x + \frac{1}{2} \log \left| \frac{x-1}{x+1} \right| + C$

(8) $\int \frac{x+3}{x^2+3x+2} dx$

—解答例—

$= \int \frac{2(x+2)-(x+1)}{(x+1)(x+2)} dx$
 $= \int \left(\frac{2}{x+1} - \frac{1}{x+2}\right) dx$
 $= 2 \log|x+1| - \log|x+2| + C$
 $= \log \frac{(x+1)^2}{|x+2|} + C$

(9) $\int \frac{x-2}{(x+1)(x^2+2)} dx$

—解答例—

$\frac{A}{x+1} + \frac{Bx+C}{x^2+2}$ とおくと、 $Ax^2+2A+Bx^2+(B+C)x+C = x-2$.
 これが x の恒等式ゆえ、 $A+B=0, B+C=1, 2A+C=-2$. これを解いて、 $A=-1, B=1, C=0$. よって、与式 $= \int \frac{-dx}{x+1} + \int \frac{xdx}{x^2+2} = -\log|x+1| + \frac{1}{2} \log(x^2+2) + C$

(10) $\int \frac{2x+3}{x(x+1)(x+2)} dx$

—解答例—

$= \int \frac{(x+1)+(x+2)}{x(x+1)(x+2)} dx = \int \frac{dx}{x(x+2)} + \int \frac{dx}{x(x+1)}$
 $= \frac{1}{2} \int \left(\frac{1}{x} - \frac{1}{x+2}\right) dx + \int \left(\frac{1}{x} - \frac{1}{x+1}\right) dx$
 $= \frac{1}{2} (\log|x| - \log|x+2|) + (\log|x| - \log|x+1|) + C$
 $= \log \frac{|x|\sqrt{|x|}}{\sqrt{|x+2||x+1|}} + C$

86 次の問に答えよ。

(1) 次の等式が成り立つように、定数 a, b, c の値を定めよ。

$\frac{3x+2}{x(x+1)^2} = \frac{a}{x} + \frac{b}{x+1} + \frac{c}{(x+1)^2}$

—解答例—

分母を払って

$3x+2 = a(x+1)^2 + bx(x+1) + cx$

これが x の恒等式である。 $x=0$ のときも成り立つから、 $a=2$. よって、 $bx(x+1) + cx = 3x+2 - 2(x+1)^2 = x(-2x-1)$ よって、 $b(x+1) + c = -2x-1$ が x の恒等式であるから、係数を比べて $b=-2, c+b=-1$ ゆえ、 $c=1$.

(2) $\int \frac{3x+2}{x(x+1)^2} dx$ を求めよ。

—解答例—

与式 $= \int \frac{2dx}{x} - \int \frac{2dx}{x+1} + \int \frac{dx}{(x+1)^2}$
 $= 2 \log|x| - 2 \log|x+1| - (x+1)^{-1} + C = \log \frac{x^2}{(x+1)^2} - \frac{1}{x+1} + C$

87 次の不定積分を求めよ。

(1) $\int \frac{1}{\sqrt[5]{x^3}} dx$

—解答例—

$$= \int x^{-\frac{3}{5}} dx = \frac{x^{\frac{2}{5}}}{-\frac{3}{5}+1} + C = \frac{5\sqrt[5]{x^2}}{2} + C$$

(2) $\int \frac{1}{\sqrt{x+1} - \sqrt{x}} dx$

—解答例—

$$= \int \frac{\sqrt{x+1} + \sqrt{x}}{(x+1) - x} = \int (x+1)^{\frac{1}{2}} dx + \int x^{\frac{1}{2}} dx$$

$$= \frac{2}{3}(x+1)^{\frac{3}{2}} + \frac{2}{3}x^{\frac{3}{2}} + C = \frac{2(x+1)\sqrt{x+1}}{3} + \frac{2x\sqrt{x}}{3} + C$$

(3) $\int \sqrt{3x+4} dx$

—解答例—

$$\sqrt{3x+4} = t \text{ とおくと、 } 3x+4 = t^2, 3 \frac{dx}{dt} = 2t \text{ ゆえ、}$$

$$\text{与式} = \int t \frac{dx}{dt} dt = \int \frac{2t^2}{3} dt = \frac{2t^3}{9} + C = \frac{2(3x+4)\sqrt{3x+4}}{9} + C$$

(4) $\int x\sqrt{3-x} dx$

—解答例—

$$\sqrt{3-x} = t \text{ とおくと、 } 3-x = t^2, -\frac{dx}{dt} = 2t \text{ ゆえ、}$$

$$\text{与式} = \int (3-t^2)t \frac{dx}{dt} dt = \int (3-t^2)t \frac{dx}{dt} dt = \int (t^2-3)2t^2 dt$$

$$= \int 2t^4 dt - 6 \int t^2 dt = \frac{2t^5}{5} - 2t^3 + C$$

$$= \frac{2(3-x)^2\sqrt{3-x}}{5} - 2(3-x)\sqrt{3-x} + C$$

$$= \frac{2(x-3)(2+x)\sqrt{3-x}}{5} + C$$

(5) $\int x\sqrt{x^2-1} dx$

—解答例—

$$\sqrt{x^2-1} = t \text{ とおくと、 } x^2-1 = t^2, 2x \frac{dx}{dt} = 2t \text{ ゆえ、}$$

$$\text{与式} = \int xt \frac{dx}{dt} dt = \int t^2 dt = \frac{t^3}{3} + C = \frac{(x^2-1)\sqrt{x^2-1}}{3} + C$$

(6) $\int \frac{3x-1}{\sqrt{x+1}} dx$

—解答例—

$$\sqrt{x+1} = t \text{ とおくと、 } x+1 = t^2, \frac{dx}{dt} = 2t \text{ ゆえ、}$$

$$\text{与式} = \int \frac{3(t^2-1)-1}{t} \frac{dx}{dt} dt = \int (6t^2-8) dt$$

$$= 2t^3 - 8t + C = 2(x+1)\sqrt{x+1} - 8\sqrt{x+1} + C$$

$$= 2(x-3)\sqrt{x+1} + C$$

(7) $\int \frac{x}{\sqrt{x^2+1}} dx$

—解答例—

$$\sqrt{x^2+1} = t \text{ とおくと、 } x^2+1 = t^2, 2x \frac{dx}{dt} = 2t \text{ ゆえ、}$$

$$\text{与式} = \int \frac{x}{t} \frac{dx}{dt} dt = \int dt = t + C = \sqrt{x^2+1} + C$$

88 次の不定積分を計算せよ。

(1) $\int \frac{dx}{x(x^2+1)}$

—解答例—

$$\frac{1}{x} + \frac{-x}{x^2+1} = \frac{x^2+1-x^2}{x(x^2+1)} = \frac{1}{x^2+1} \text{ ゆえ、}$$

$$\text{与式} = \int \frac{1}{x} - \frac{1}{2} \int \frac{2x}{x^2+1} dx$$

$$= \log|x| - \frac{1}{2} \log(x^2+1) + C = \log \frac{|x|}{\sqrt{x^2+1}} + C$$

(2) $\int \frac{dx}{x(x^2-1)}$

—解答例—

$$\frac{-1}{x} + \frac{\frac{1}{2}}{x+1} + \frac{\frac{1}{2}}{x-1} = \frac{-1}{x} + \frac{x}{(x+1)(x-1)}$$

$$= \frac{-x^2+1+x^2}{x(x^2-1)} = \frac{1}{x(x^2-1)} \text{ ゆえ、}$$

$$\text{与式} = \int \frac{-dx}{x} + \frac{1}{2} \int \frac{dx}{x+1} + \frac{1}{2} \int \frac{dx}{x-1}$$

$$= -\log|x| + \frac{1}{2} \log|x+1| + \frac{1}{2} \log|x-1| + C$$

$$= \log \frac{\sqrt{|x^2-1|}}{|x|} + C$$

(3) $\int \frac{dx}{x^2(x+1)}$

—解答例—

$$\frac{1-x}{x^2} + \frac{1}{x+1} = \frac{1-x^2+x^2}{x^2(x+1)} = \frac{1}{x^2(x+1)} \text{ ゆえ}$$

$$\text{与式} = \int \frac{dx}{x^2} - \int \frac{dx}{x} + \int \frac{dx}{x+1}$$

$$= -\frac{1}{x} - \log|x| + \log|x+1| + C = -\frac{1}{x} + \log \left| \frac{x+1}{x} \right| + C$$

89 次の不定積分を求めよ。

(1) $\int \tan x dx$

—解答例—
与式 = $\int \frac{-(\cos x)'}{\cos x} dx$
= $-\log |\cos x| + C$

(2) $\int \sin \frac{2\pi}{3} x dx$

—解答例—
 $\frac{2\pi}{3} x = t$ とおくと、
 $\frac{2\pi}{3} \frac{dx}{dt} = 1$ ゆえ
与式 = $\int \sin t \frac{dx}{dt} dt$
= $\frac{3}{2\pi} \int \sin t dt = -\frac{3}{2\pi} \cos t + C$
= $-\frac{3}{2\pi} \cos \frac{2\pi}{3} x + C$

(3) $\int \tan \frac{x}{2} dx$

—解答例—
 $\frac{x}{2} = t$ とおくと、 $\frac{1}{2} \frac{dx}{dt} = 1$
ゆえ、
与式 = $\int \tan t \frac{dx}{dt} dt$
= $-2 \log |\cos t| + C$
= $-2 \log \left| \cos \frac{x}{2} \right| + C$

(4) $\int \cos 3x \sin 5x dx$

—解答例—
与式 = $\int \frac{1}{2} (\sin 8x + \sin 2x) dx$
= $-\frac{1}{16} \cos 8x - \frac{1}{4} \cos 2x + C$

(5) $\int \sin 2x \sin 4x dx$

—解答例—
与式 = $-\frac{1}{2} \int (\cos 6x - \cos 2x) dx$
= $-\frac{1}{12} \sin 6x + \frac{1}{4} \sin 2x + C$

(6) $\int \sin^2 x dx$

—解答例—
与式 = $\int \frac{1 - \cos 2x}{2} dx$
= $\frac{x}{2} - \frac{1}{4} \sin 2x + C$

(7) $\int \cos^2 x dx$

—解答例—
与式 = $\int \frac{1 + \cos 2x}{2} dx$
= $\frac{x}{2} + \frac{1}{4} \sin 2x + C$

(8) $\int \tan^2 x dx$

—解答例—
与式 = $\int \left(\frac{1}{\cos^2 x} - 1 \right) dx$
= $\tan x - x + C$

(9) $\int \sin^2 3x dx$

—解答例—
与式 = $\int \frac{1 - \cos 6x}{2} dx$
= $\frac{x}{2} - \frac{1}{12} \sin 6x + C$

(10) $\int \cos^4 x \sin x dx$

—解答例—
 $\cos x = t$ とおくと、
 $-\sin x \frac{dx}{dt} = 1$ ゆえ、
与式 = $\int t^4 \sin x \frac{dx}{dt} dt$
= $-\int t^4 dt = -\frac{1}{5} t^5 + C$
= $-\frac{1}{5} \cos^5 x + C$

(11) $\int \cos^3 x \sin^2 x dx$

—解答例—
 $\sin x = t$ とおくと、 $\cos x \frac{dx}{dt} = 1$
与式 = $\int (1-t^2)t^2 \cos x \frac{dx}{dt} dt$
= $\int (t^2 - t^4) dt = \frac{t^3}{3} - \frac{t^5}{5} + C$
= $\frac{\sin^3 x}{3} - \frac{\sin^5 x}{5} + C$

(12) $\int \sin^3 x dx$

—解答例—
 $\cos x = t$ とおくと、
 $-\sin x \frac{dx}{dt} = 1$ ゆえ、
与式 = $\int (1 - \cos^2 x) \sin x dx$
= $\int (1 - t^2) \sin x \frac{dx}{dt} dt$
= $\int (1 - t^2) dt = \frac{t^3}{3} - t + C$
= $\frac{\cos^3 x}{3} - \cos x + C$

(13) $\int \frac{\sin x}{\cos x(\cos x + 1)} dx$

—解答例—
 $\cos x = t$ とおくと、
 $-\sin x \frac{dx}{dt} = 1$ ゆえ、
与式 = $\int \frac{\sin x}{t(t+1)} \frac{dx}{dt} dt$
= $-\int \left(\frac{1}{t} - \frac{1}{t+1} \right) dt$
= $\log \left| \frac{t+1}{t} \right| + C$
= $\log \left| \frac{\cos x + 1}{\cos x} \right| + C$

(14) $\int \frac{1}{\cos x} dx$

—解答例—
与式 = $\int \frac{\cos x}{\cos^2 x} dx$
= $\int \frac{\cos x}{1 - \sin^2 x} dx$
 $\sin x = t$ とおくと、 $\cos x \frac{dx}{dt} = 1$
与式 = $\int \frac{\cos x}{1-t^2} \frac{dx}{dt} dt$
= $\frac{1}{2} \int \frac{dt}{1-t} + \frac{1}{2} \int \frac{dt}{1+t}$
= $\frac{1}{2} \log \left| \frac{1+t}{1-t} \right| + C$
= $\frac{1}{2} \log \left| \frac{\cos^2 x/2}{\sin^2 x/2} \right| + C$
= $-\log \left| \tan \frac{x}{2} \right| + C$

(15) $\int x \sin^2 x dx$

—解答例—
与式 = $\int \frac{x(1 - \cos 2x)}{2} dx$
= $\frac{x^2}{4} - \int \frac{x(\sin 2x)'}{4} dx$
= $\frac{x^2}{4} - \frac{x \sin 2x}{4} + \int \frac{\sin 2x}{4} dx$
= $\frac{x^2}{4} - \frac{x \sin 2x}{4} - \frac{\cos 2x}{8} + C$

(16) $\int x \cos 3x dx$

—解答例—
与式 = $\int x \left(\frac{\sin 3x}{3} \right)' dx$
= $\frac{x \sin x}{3} - \int \frac{\sin 3x}{3} dx$
= $\frac{x \sin 3x}{3} + \frac{\cos 3x}{9} + C$

(17) $\int x^2 \sin x dx$

—解答例—
与式 = $\int x^2 (-\cos x)' dx = -x^2 \cos x + \int 2x \cos x dx$
= $-x^2 \cos x + \int 2x (\sin x)' dx = -x^2 \cos x + 2x \sin x - \int 2 \sin x dx$
= $-x^2 \cos x + 2x \sin x + 2 \cos x + C$

90 次の不定積分を求めよ。

(1) $\int (e^{2x-1} + 2^{7x+5}) dx$

—解答例—

$$\begin{aligned} &= \int e^{2x-1} dx + \int e^{(7x+5) \log 2} dx \\ &= \frac{1}{2} e^{2x-1} + \frac{1}{7 \log 2} e^{(7x+5) \log 2} + C \\ &= \frac{e^{2x-1}}{2} + \frac{2^{7x+5}}{7 \log 2} + C \end{aligned}$$

(2) $\int \frac{e^x}{e^x + 1} dx$

—解答例—

$$\begin{aligned} &= \int \frac{(e^x + 1)'}{e^x + 1} dx \\ &= \log(e^x + 1) + C \end{aligned}$$

(3) $\int \frac{e^x - e^{-x}}{e^x + e^{-x}} dx$

—解答例—

$$\begin{aligned} &= \int \frac{(e^x + e^{-x})'}{e^x + e^{-x}} dx \\ &= \log(e^x + e^{-x}) + C \end{aligned}$$

(4) $\int \frac{e^{2x}}{e^x - 1} dx$

—解答例—

$$\begin{aligned} &= \int \frac{e^x(e^x - 1) + e^x}{e^x - 1} dx \\ &= \int e^x dx + \int \frac{(e^x - 1)'}{e^x - 1} dx \\ &= e^x + \log|e^x - 1| + C \end{aligned}$$

(5) $\int \frac{dx}{e^x + 1}$

—解答例—

$$\begin{aligned} &e^x = t \text{ とおくと、} e^x \frac{dx}{dt} = 1 \\ \text{与式} &= \int \frac{1}{t+1} \frac{dx}{dt} dt \\ &= \int \frac{dt}{t(t+1)} \\ &= \int \left(\frac{1}{t} - \frac{1}{t+1} \right) dt \\ &= \log \left| \frac{t}{t+1} \right| + C \\ &= \log \left| \frac{e^x}{e^x + 1} \right| + C \end{aligned}$$

(6) $\int x e^{-3x} dx$

—解答例—

$$\begin{aligned} &= \int x \left(\frac{e^{-3x}}{-3} \right)' dx \\ &= x \frac{e^{-3x}}{-3} + \int \frac{e^{-3x}}{3} dx \\ &= -\frac{x e^{-3x}}{3} + \frac{1}{3} \cdot \frac{e^{-3x}}{-3} + C \\ &= -\frac{(3x+1)e^{-3x}}{9} + C \end{aligned}$$

(7) $\int x^2 e^{-x} dx$

—解答例—

$$\begin{aligned} &= \int x^2 (-e^{-x})' dx \\ &= -x^2 e^{-x} + 2 \int x e^{-x} dx \\ &= -x^2 e^{-x} + 2 \int x (-e^{-x})' dx \\ &= -x^2 e^{-x} - 2x e^{-x} + 2 \int e^{-x} dx \\ &= -x^2 e^{-x} - 2x e^{-x} - 2e^{-x} + C \end{aligned}$$

(8) $\int e^x \cos x dx$

—解答例—

$$\begin{aligned} &= \int e^x (\sin x)' dx \\ &= e^x \sin x - \int e^x \sin x dx \\ &= e^x \sin x - \int e^x (-\cos x)' dx \\ &= e^x \sin x + e^x \cos x - \int e^x \cos x dx \\ \therefore &\int e^x \cos x dx \\ &= \frac{e^x (\sin x + \cos x)}{2} + C \end{aligned}$$

(9) $\int x e^{x^2} dx$

—解答例—

$$\begin{aligned} &x^2 = t \text{ とおくと、} 2x \frac{dx}{dt} = 1 \\ \text{与式} &= \int x e^t \frac{dx}{dt} dt = \frac{1}{2} \int e^t dt \\ &= \frac{e^t}{2} + C = \frac{e^{x^2}}{2} + C \end{aligned}$$

(10) $\int x^3 e^{x^2} dx$

—解答例—

$$\begin{aligned} &x^2 = t \text{ とおくと、} 2x \frac{dx}{dt} = 1 \\ \text{与式} &= \int x^3 e^t \frac{dx}{dt} dt \\ &= \frac{1}{2} \int t e^t dt = \frac{1}{2} \int t (e^t)' dt \\ &= \frac{1}{2} t e^t - \frac{1}{2} \int e^t dt \\ &= \frac{1}{2} t e^t - \frac{1}{2} e^t + C \\ &= \frac{(x^2 - 1)e^{x^2}}{2} + C \end{aligned}$$

91 次の不定積分を求めよ。

(1) $\int \frac{dx}{\cos^2 x \tan x}$

—解答例—

$$\begin{aligned} &= \int \frac{(\tan x)'}{\tan x} dx \\ &= \log|\tan x| + C \end{aligned}$$

(2) $\int \cos \sqrt{x} dx$

—解答例—

$$\begin{aligned} &\sqrt{x} = t \text{ とおくと、} \frac{1}{2\sqrt{x}} \frac{dx}{dt} = 1 \\ \text{与式} &= \int \cos t \frac{dx}{dt} dt \\ &= \int 2t \cos t dt = \int 2t (\sin t)' dt \\ &= 2t \sin t - \int 2 \sin t dt \\ &= 2t \sin t + 2 \cos t + C \\ &= 2\sqrt{x} \sin \sqrt{x} + 2 \cos \sqrt{x} + C \end{aligned}$$

(3) $\int \frac{1 - \sin^3 x}{1 - \cos^2 x} dx$

—解答例—

$$\begin{aligned} &= \int \frac{1 - \sin^3 x}{\sin^2 x} dx \\ &= \int \left(\frac{1}{\sin^2 x} - \sin x \right) dx \\ &= -\frac{1}{\tan x} + \cos x + C \end{aligned}$$

(4) $\int \frac{1 + \sin x}{\sin x \cos x} dx$

—解答例—

$$\begin{aligned} &\sin x = t \text{ とおくと、} \cos x \frac{dx}{dt} = 1 \\ \text{与式} &= \int \frac{1+t}{t \cos x} \frac{dx}{dt} dt \\ &= \int \frac{1+t}{t(1-t^2)} dt = \int \frac{dt}{t(1-t)} \\ &= \int \left(\frac{1}{t} + \frac{1}{1-t} \right) dt \\ &= \log|t| - \log|1-t| + C \\ &= \log|\sin x| - \log|1-\sin x| + C \\ &= \log \left| \frac{\sin x}{1-\sin x} \right| + C \end{aligned}$$

(5) $\int \frac{1 - \sin x}{\cos x} dx$

—解答例—

$$\begin{aligned} &\sin x = t \text{ とおくと、} \cos x \frac{dx}{dt} = 1 \\ \text{与式} &= \int \frac{1-t}{\cos x} \frac{dx}{dt} dt \\ &= \int \frac{1-t}{1-t^2} dt = \int \frac{dt}{1+t} \\ &= \log|1+t| + C = \log|1+\sin x| + C \end{aligned}$$

(6) $\int \frac{dx}{1 - \sin x}$

—解答例—

$$\begin{aligned} &= \int \frac{1 + \sin x}{1 - \sin^2 x} dx \\ &= \int \frac{1 + \sin x}{\cos^2 x} dx \\ &= \int \frac{dx}{\cos^2 x} + \int \frac{\sin x}{\cos^2 x} dx \\ \cos x = t \text{ とおくと、} &-\sin x \frac{dx}{dt} = 1 \\ \text{与式} &= \tan x + \int \frac{\sin x}{t^2} \frac{dx}{dt} dt \\ &= \tan x - \int t^{-2} dt \\ &= \tan x + \frac{1}{t} + C \\ &= \tan x + \frac{1}{\cos x} + C \end{aligned}$$

92 次の不定積分を求めよ。

(1) $\int \log x dx$

—解答例—

$$\begin{aligned} &= \int (x)' \log x dx \\ &= x \log x - \int x(\log x)' dx \\ &= x \log x - \int dx = x \log x - x + C \end{aligned}$$

(2) $\int \sqrt{x} \log x dx$

—解答例—

$$\begin{aligned} &= \int \left(\frac{2}{3}x^{\frac{3}{2}}\right)' \log x dx \\ &= \frac{2}{3}x^{\frac{3}{2}} \log x - \int \frac{2}{3}x^{\frac{3}{2}}(\log x)' dx \\ &= \frac{2}{3}x^{\frac{3}{2}} \log x - \int \frac{2}{3}x^{\frac{1}{2}} dx \\ &= \frac{2}{3}x^{\frac{3}{2}} \log x - \frac{2}{3} \cdot \frac{2}{3}x^{\frac{3}{2}} \\ &= \frac{2x\sqrt{x}(3\log x - 2)}{9} + C \end{aligned}$$

(3) $\int \frac{\log x}{x^2} dx$

—解答例—

$$\begin{aligned} \text{与式} &= \int (-x^{-1})' \log x dx \\ &= -\frac{\log x}{x} - \int (-x^{-1})(\log x)' dx \\ &= -\frac{\log x}{x} + \int x^{-2} dx \\ &= -\frac{\log x}{x} - \frac{1}{x} + C \end{aligned}$$

(4) $\int \frac{dx}{x \log x}$

—解答例—

$$\begin{aligned} \log x = t \text{ とおくと、} &x^{-1} \frac{dx}{dt} = 1 \\ \text{与式} &= \int \frac{1}{xt} \frac{dx}{dt} dt = \int \frac{dt}{t} \\ &= \log |t| + C = \log |\log x| + C \end{aligned}$$

(5) $\int (\log x)^2 dx$

—解答例—

$$\begin{aligned} \log x = t \text{ とおくと、} &x^{-1} \frac{dx}{dt} = 1 \\ \text{与式} &= \int t^2 \frac{dx}{dt} dt = \int t^2 x dt \\ &= \int t^2 e^t dt = \int t^2 (e^t)' dt \\ &= t^2 e^t - \int (2t) e^t dt \\ &= t^2 e^t - \int 2t (e^t)' dt \\ &= t^2 e^t - 2te^t + \int 2e^t dt \\ &= t^2 e^t - 2te^t + 2e^t + C \\ &= x((\log x)^2 - 2\log x + 2) + C \end{aligned}$$

(6) $\int x \log(x^2 + 1) dx$

—解答例—

$$\begin{aligned} x^2 + 1 = t \text{ とおくと、} &2x \frac{dx}{dt} = 1 \\ \text{与式} &= \int x \log t \frac{dx}{dt} dt \\ &= \int \frac{\log t}{2} dt = \int (t)' \frac{\log t}{2} \\ &= t \frac{\log t}{2} - \int \frac{1}{2} dt \\ &= t \frac{\log t}{2} - \frac{1}{2} t + C \\ &= \frac{(x^2 + 1)(\log(x^2 + 1) - 1)}{2} + C \end{aligned}$$

(7) $\int \frac{\cos(\log x)}{x} dx$

—解答例—

$$\begin{aligned} \log x = t \text{ とおくと} &x^{-1} \frac{dx}{dt} = 1 \\ \text{与式} &= \int \frac{\cos t}{x} \frac{dx}{dt} dt \\ &= \int \cos t dt = \sin t + C \\ &= \sin(\log x) + C \end{aligned}$$

(8) $\int \frac{(1 + \log x)^2}{x} dx$

—解答例—

$$\begin{aligned} \log x = t \text{ とおくと} &x^{-1} \frac{dx}{dt} = 1 \\ \text{与式} &= \int \frac{(1+t)^2}{x} \frac{dx}{dt} dt \\ &= \int (1+t)^2 dt = \frac{(1+t)^3}{3} + C \\ &= \frac{(1 + \log x)^3}{3} + C \end{aligned}$$

93 次の問に答えよ。

(1) $\tan x = t$ において $\int \frac{\tan x}{\cos^2 x} dx$ を求めよ。

—解答例—

$$\begin{aligned} \frac{1}{\cos^2 x} \frac{dx}{dt} &= 1 \text{ ゆえ、} \\ \int \frac{\tan x}{\cos^2 x} dx &= \int \frac{t}{\cos^2 x} \frac{dx}{dt} dt = \int t dt = \frac{t^2}{2} + C = \frac{\tan^2 x}{2} + C \end{aligned}$$

(2) $\tan^3 x = \tan x \cdot \tan^2 x$ であり、 $\tan^2 x$ を $\cos x$ で表すと、

$$\tan^3 x = \tan x \cdot \left(\frac{1}{\cos^2 x} - 1 \right) = \frac{\tan x}{\cos^2 x} - \tan x$$

である。これを利用して $\int \tan^3 x dx$ を求めよ。

—解答例—

$$\begin{aligned} \int \tan^3 x dx &= \int \frac{\tan x}{\cos^2 x} dx - \int \tan x dx \\ &= \frac{\tan^2 x}{2} - \int \frac{-(\cos x)'}{\cos x} dx = \frac{\tan^2 x}{2} + \log |\cos x| + C \end{aligned}$$

(3) $\int \tan^4 x dx$ を求めよ。

—解答例—

$$\begin{aligned} \text{与式} &= \int \tan^2 x \left(\frac{1}{\cos^2 x} - 1 \right) dx \\ \tan x = t \text{ とおくと} &\frac{1}{\cos^2 x} \frac{dx}{dt} = 1 \text{ ゆえ} \\ \text{与式} &= \int t^2 \frac{1}{\cos^2 x} \frac{dx}{dt} dt - \int \tan^2 x dx = \int t^2 dt - \int \left(\frac{1}{\cos^2 x} - 1 \right) dx \\ &= \frac{t^3}{3} - \tan x + x + C = \frac{\tan^3 x}{3} - \tan x + x + C \end{aligned}$$

94 次の定積分を計算せよ。

(1) $\int_0^1 \sin \pi x dx$

—解答例—

与式 = $\left[-\frac{1}{\pi} \cos \pi x\right]_0^1 = \left(-\frac{1}{\pi}\right) - \left(-\frac{1}{\pi}\right) = \frac{1}{\pi} + \frac{1}{\pi} = \frac{2}{\pi}$

(2) $\int_1^{\sqrt{3}} 2x\sqrt{x^2-1} dx$

—解答例—

$x^2 - 1 = t$ とおくと、 $2x \frac{dx}{dt} = 1$, $\frac{x}{t} \left| \begin{array}{l} 1 \rightarrow \sqrt{3} \\ 0 \rightarrow 2 \end{array} \right.$ ゆえ、

与式 = $\int_0^2 2x\sqrt{t} \frac{dx}{dt} dt = \int_0^2 t^{\frac{1}{2}} dt = \left[\frac{2}{3} t^{\frac{3}{2}}\right]_0^2 = \frac{2}{3} \cdot 2^{\frac{3}{2}} = \frac{4\sqrt{2}}{3}$

(3) $\int_0^1 x e^{-x} dx$

—解答例—

与式 = $\int_0^1 x (-e^{-x})' dx = [x(-e^{-x})]_0^1 - \int_0^1 (-e^{-x}) dx$
 $= (-e^{-1}) - 0 - [e^{-x}]_0^1 = -\frac{1}{e} - (e^{-1}) + (e^0) = -\frac{2}{e} + 1.$

(4) $\int_{-\frac{\pi}{2}}^{\frac{\pi}{2}} (\sin^2 x + \sin x) dx$

—解答例—

$\sin^2 x$ は偶関数で、 $\sin x$ は奇関数ゆえ、

与式 = $2 \int_0^{\frac{\pi}{2}} \sin^2 x dx = \int_0^{\frac{\pi}{2}} (1 - \cos 2x) dx = \left[x - \frac{1}{2} \sin 2x\right]_0^{\frac{\pi}{2}}$
 $= \left(\frac{\pi}{2}\right) - (0) = \frac{\pi}{2}.$

(5) $\int_{-\frac{\pi}{2}}^{\frac{\pi}{2}} (\cos^2 x + \cos x) dx$

—解答例—

$\cos^2 x + \cos x$ は偶関数ゆえ

与式 = $2 \int_0^{\frac{\pi}{2}} \left(\frac{1 + \cos 2x}{2} + \cos x\right) dx = \int_0^{\frac{\pi}{2}} (1 + \cos 2x + 2 \cos x) dx$
 $= \left[x + \frac{1}{2} \sin 2x + 2 \sin x\right]_0^{\frac{\pi}{2}} = \left(\frac{\pi}{2} + 0 + 2\right) - (0 + 0 + 0) = \frac{\pi}{2} + 2.$

(6) $\int_{-3}^3 \frac{x}{x^4 - x^2 + 1} dx$

—解答例—

被積分関数は、奇関数ゆえ

与式=0

95 次の定積分を計算せよ。

(1) $\int_{-3}^3 \sqrt{9-x^2} dx$

—解答例—

半径3の半円の面積を表すので
 与式 = $\frac{1}{2} \times \pi \cdot 3^2 = \frac{9\pi}{2}.$

(2) $\int_0^2 \frac{dx}{\sqrt{16-x^2}}$

—解答例—

$x = 4 \sin \theta$ とおくと、 $\frac{dx}{d\theta} = 4 \cos \theta$. $\frac{x}{\sin \theta} \left| \begin{array}{l} 0 \rightarrow 2 \\ 0 \rightarrow \frac{1}{2} \\ 0 \rightarrow \frac{\pi}{6} \end{array} \right.$

$0 \leq \theta \leq \frac{\pi}{6}$ のとき、 $\cos \theta > 0$ ゆえ、

与式 = $\int_0^{\frac{\pi}{6}} \frac{1}{4\sqrt{\cos^2 \theta}} \frac{dx}{d\theta} d\theta = \int_0^{\frac{\pi}{6}} d\theta = [\theta]_0^{\frac{\pi}{6}} = \frac{\pi}{6}.$

(3) $\int_1^2 \sqrt{2x-x^2} dx$ Hint $2x-x^2 = 1-(x-1)^2$

—解答例—

$x-1 = \sin \theta$ とおくと、 $\frac{dx}{d\theta} = \cos \theta$. $\frac{x}{\sin \theta} \left| \begin{array}{l} 1 \rightarrow 2 \\ 0 \rightarrow 1 \\ 0 \rightarrow \frac{\pi}{2} \end{array} \right.$

$0 \leq \theta \leq \frac{\pi}{2}$ のとき、 $\cos \theta \geq 0$ ゆえ、与式 = $\int_0^{\frac{\pi}{2}} \cos^2 \theta d\theta$

$= \int_0^{\frac{\pi}{2}} \frac{1 + \cos 2\theta}{2} d\theta = \left[\frac{\theta}{2} + \frac{\sin 2\theta}{4}\right]_0^{\frac{\pi}{2}} = \left(\frac{\pi}{4} + 0\right) = \frac{\pi}{4}.$

(4) $\int_0^{\sqrt{3}} \frac{dx}{x^2+3}$

—解答例—

$x = \sqrt{3} \tan \theta$ とおくと、 $\frac{dx}{d\theta} = \frac{\sqrt{3}}{\cos^2 \theta}$. $\frac{x}{\tan \theta} \left| \begin{array}{l} 0 \rightarrow \sqrt{3} \\ 0 \rightarrow 1 \\ 0 \rightarrow \frac{\pi}{4} \end{array} \right.$

$0 \leq \theta \leq \frac{\pi}{4}$ ならば、 $\cos \theta \geq 0$ ゆえ 与式 = $\int_0^{\frac{\pi}{4}} \frac{1}{3(\tan^2 \theta + 1)} \frac{dx}{d\theta} d\theta$

$= \int_0^{\frac{\pi}{4}} \frac{d\theta}{\sqrt{3}} = \left[\frac{\theta}{\sqrt{3}}\right]_0^{\frac{\pi}{4}} = \left(\frac{\sqrt{3}\pi}{12}\right) - (0) = \frac{\sqrt{3}}{12}\pi.$

(5) $\int_{\sqrt{2}}^{\sqrt{6}} \frac{dx}{3x^2+6}$

—解答例—

$x = \sqrt{2} \tan \theta$ とおくと、 $\frac{dx}{d\theta} = \frac{\sqrt{2}}{\cos^2 \theta}$, $\frac{x}{\tan \theta} \left| \begin{array}{l} \sqrt{2} \rightarrow \sqrt{6} \\ 1 \rightarrow \sqrt{3} \\ \frac{\pi}{4} \rightarrow \frac{\pi}{3} \end{array} \right.$

ゆえ、与式 = $\int_{\frac{\pi}{4}}^{\frac{\pi}{3}} \frac{1}{6(\tan^2 \theta + 1)} \frac{dx}{d\theta} d\theta = \int_{\frac{\pi}{4}}^{\frac{\pi}{3}} \frac{\sqrt{2}}{6} d\theta = \left[\frac{\sqrt{2}\theta}{6}\right]_{\frac{\pi}{4}}^{\frac{\pi}{3}}$

$= \frac{\sqrt{2}}{6} \cdot \frac{\pi}{12} = \frac{\sqrt{2}\pi}{72}$

(6) $\int_2^3 \frac{dx}{x^2-4x+5}$ Hint $x^2-4x+5 = (x-2)^2+1$

—解答例—

$x-2 = \tan \theta$ とおくと、 $\frac{dx}{d\theta} = \frac{1}{\cos^2 \theta}$. $\frac{x}{\tan \theta} \left| \begin{array}{l} 2 \rightarrow 3 \\ 0 \rightarrow 3 \\ 0 \rightarrow \frac{\pi}{4} \end{array} \right.$ ゆえ、

与式 = $\int_0^{\frac{\pi}{4}} \frac{1}{\tan^2 \theta + 1} \frac{dx}{d\theta} d\theta = \int_0^{\frac{\pi}{4}} d\theta = [\theta]_0^{\frac{\pi}{4}} = \frac{\pi}{4}.$

96 次の定積分を計算せよ。

(1) $\int_0^\pi |\sin 2x| dx$

—解答例—

与式 $= \int_0^{\frac{\pi}{2}} |\sin 2x| dx + \int_{\frac{\pi}{2}}^\pi |\sin 2x| dx = \int_0^{\frac{\pi}{2}} 2 \sin 2x dx$
 $= [-\cos 2x]_0^{\frac{\pi}{2}} = (1) - (-1) = 2$

(2) $\int_0^5 |\sqrt{x} - 2| dx$

—解答例—

与式 $= \int_0^4 |\sqrt{x} - 2| dx + \int_4^5 |\sqrt{x} - 2| dx$
 $= \int_0^4 (2 - \sqrt{x}) dx + \int_4^5 (\sqrt{x} - 2) dx = \left[2x - \frac{2}{3} x^{\frac{3}{2}} \right]_0^4 = \left[\frac{2}{3} x^{\frac{3}{2}} - 2x \right]_4^5$
 $= \left(8 - \frac{16}{3} \right) - (0) + \left(\frac{10\sqrt{5}}{3} - 10 \right) - \left(\frac{16}{3} - 8 \right)$
 $= 16 - \frac{32}{3} + \frac{10\sqrt{5}}{3} - 10 = \frac{10\sqrt{5} - 14}{3}$

(3) $\int_{-1}^1 |e^x - 1| dx$

—解答例—

与式 $= \int_{-1}^0 |e^x - 1| dx + \int_0^1 |e^x - 1| dx$
 $= \int_{-1}^0 (1 - e^x) dx + \int_0^1 (e^x - 1) dx = [x - e^x]_{-1}^0 + [e^x - x]_0^1$
 $= (0 - 1) - \left(-1 - \frac{1}{e} \right) + (e - 1) - (1 - 0) = -2 + e + \frac{1}{e}$

97 次の等式が成り立つことを証明せよ。

$$\int_a^b f(x) dx = \int_a^b f(a+b-x) dx$$

—解答例—

$a + b - x = t$ とおくと、 $-\frac{dx}{dt} = 1$, $\frac{x}{t} \left| \begin{matrix} a & \rightarrow & b \\ b & \rightarrow & a \end{matrix} \right.$ ゆえ、

右辺 $= \int_b^a f(t) \frac{dx}{dt} dt = - \int_b^a f(t) dt = \int_a^b f(t) dt =$ 左辺

98 次の等式が成り立つことを示せ。

(1) $\int_{-a}^0 f(x) dx = \int_0^a f(-x) dx$

—解答例—

$-x = t$ とおくと、 $-\frac{dx}{dt} = 1$, $\frac{x}{t} \left| \begin{matrix} 0 & \rightarrow & a \\ 0 & \rightarrow & -a \end{matrix} \right.$ ゆえ、

右辺 $= \int_0^a f(-x) dx = \int_0^{-a} f(t) \frac{dx}{dt} dt = - \int_0^{-a} f(t) dt = \int_{-a}^0 f(t) dt$
 $=$ 左辺

(2) $\int_{-a}^a f(x) dx = \int_0^a f(x) dx + \int_0^a f(-x) dx$

—解答例—

(1) から、左辺 $= \int_0^a f(x) dx + \int_{-a}^0 f(x) dx$
 $= \int_0^a f(x) dx + \int_0^a f(-x) dx =$ 右辺

(3) $f(x)$ が偶関数のとき

$$\int_{-a}^a f(x) dx = 2 \int_0^a f(x) dx$$

—解答例—

$f(x)$ が偶関数ゆえ、 $f(-x) = f(x)$ なので、(2) より
 $\int_{-a}^a f(x) dx = \int_0^a f(x) dx + \int_0^a f(x) dx = 2 \int_0^a f(x) dx$

99 次の等式を満たす関数 $f(x)$ を求めよ。

(1) $f(x) = e^x - \int_0^1 f(t) dt$

—解答例—

$\int_0^1 f(t) dt = C$ とおくと、 $f(x) = e^x - C$.

$\therefore \int_0^1 (e^x - C) dt = C$.

積分して、 $[e^x - Cx]_0^1 = C$.

これから、 $(e - C) - (1 - 0) = C$.

$\therefore C = \frac{e-1}{2}$.

$\therefore f(x) = e^x - \frac{e-1}{2}$

(2) $f(x) = 2x - \int_0^\pi f(t) \cos t dt$

—解答例—

$\int_0^\pi f(t) \cos t dt = C$ とおくと、 $f(x) = 2x - C$.

$\therefore \int_0^\pi (2t - C) \cos t dt = C$.

$\therefore C = \int_0^\pi (2t - C)(\sin t)' dt = [(2t - C) \sin t]_0^\pi - \int_0^\pi 2 \sin t dt$

$= -[-2 \cos t]_0^\pi = -(-2) + (-2) = -4$.

$\therefore f(x) = 2x + 4$

100 次の関数を x について微分せよ。

(1) $f(x) = \int_0^x e^t \cos t dt$

$f'(x) = \boxed{e^x \cos x}$

(2) $y = \int_{2x}^{x^2} \sin t dt$

(3) $f(x) = \int_1^x (t-x) \log t dt$

—解答例—

(2) $\frac{dy}{dx} = \frac{d}{dx} \int_0^{x^2} \sin t dt - \frac{d}{dx} \int_0^{2x} \sin t dt = \sin x^2 \times 2x - \sin 2x \times 2 = 2x \sin x^2 - 2 \sin 2x$

(3) $f(x) = \int_1^x t \log t dt - x \int_1^x \log t dt$ ゆえ、

$f'(x) = x \log x - \int_1^x \log t dt - x \log x = - \int_1^x t' \log t dt = - \left[t \log t \right]_1^x + \int_1^x dt = -(x \log x - 0) + \left[t \right]_1^x = -x \log x + x - 1$

101 次の等式を満たす関数 $f(x)$ と定数 a の値を求めよ。

$\int_0^x f(t) dt = a \cos^2 x + ax + 1$

—解答例—

両辺を x で微分して、

$f(x) = 2a \cos x \times (-\sin x) + a = -a \sin 2x + a.$

$\int_0^x (-a \sin 2t + a) dt = a \cos^2 x + ax + 1$

$\left[\frac{a}{2} \cos 2t + at \right]_0^x = a \cos^2 x + ax + 1$

$\left(\frac{a}{2} \cos 2x + ax \right) - \left(\frac{a}{2} \cos 0 \right) = a \cos^2 x + ax + 1$

$a \cos^2 x - \frac{a}{2} - \frac{a}{2} = a \cos^2 x + 1$

$\therefore a = -1.$

102 $xf(x) - x = \int_1^x f(t) dt$ を満たす微分可能な関数 $f(x)$ を求めよ。

—解答例—

x で微分して、

$f(x) + xf'(x) - 1 = f(x) \therefore f'(x) = \frac{1}{x} \therefore f(x) = \int \frac{dx}{x} = \log|x| + C$

$x = 1$ とおくと、 $f(1) = C.$

$1 \cdot f(1) - 1 = \int_1^1 f(t) dt = 0$

$\therefore C - 1 = 0 \therefore C = 1 \therefore f(x) = \log|x| + 1$

103 $0 \leq x \leq 1$ のとき $x^2 + 2x + 1 \geq x^2 + x + 1 \geq x + 1$ が成り立つ。これを利用して次の不等式を証明せよ。

$\frac{1}{2} < \int_0^1 \frac{dx}{x^2 + x + 1} < \log 2$

—解答例—

$\int_0^1 \frac{dx}{(x+1)^2} < \int_0^1 \frac{dx}{x^2 + x + 1} < \int_0^1 \frac{dx}{x+1}$

$\therefore \left[-\frac{1}{x+1} \right]_0^1 < \int_0^1 \frac{dx}{x^2 + x + 1} < [\log|x+1|]_0^1$

$\left(-\frac{1}{2} \right) - \left(-\frac{1}{1} \right) < \int_0^1 \frac{dx}{x^2 + x + 1} < \log 2 - \log 1$

$\frac{1}{2} < \int_0^1 \frac{dx}{x^2 + x + 1} < \log 2$

104 次の問に答えよ。

(1) $f(x) = \sin x + \cos x$ を合成すると

$\boxed{\sqrt{2} \sin \left(x + \frac{\pi}{4} \right)}$

(2) $0 \leq x \leq 1$ のとき、 $f(x)$ の

最大値は $\boxed{\sqrt{2}}$

最小値は $\boxed{1}$

(3) (2) より $\boxed{1} \leq (\sin x + \cos x)^2 \leq \boxed{\sqrt{2}}$

(4) 不等式 $\frac{1}{3} < \int_0^1 x^{(\sin x + \cos x)^2} dx < \frac{1}{2}$ を証明せよ。

—解答例—

$0 \leq x \leq 1$ では、 $x^2 \leq x^{(\sin x + \cos x)^2} \leq x$ ゆえ、各辺を x で積分して

$\int_0^1 x^2 dx < \int_0^1 x^{(\sin x + \cos x)^2} dx < \int_0^1 x dx$

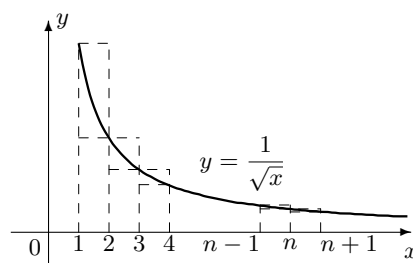
$\left[\frac{x^3}{3} \right]_0^1 < \int_0^1 x^{(\sin x + \cos x)^2} dx < \left[\frac{x^2}{2} \right]_0^1$

$\frac{1}{3} < \int_0^1 x^{(\sin x + \cos x)^2} dx < \frac{1}{2}$

105 次の不等式を証明せよ。

$2\sqrt{n+1} - 2 < 1 + \frac{1}{\sqrt{2}} + \frac{1}{\sqrt{3}} + \dots + \frac{1}{\sqrt{n}} < 2\sqrt{n} - 1$

—解答例—



グラフより

$\frac{1}{\sqrt{2}} + \frac{1}{\sqrt{3}} + \dots + \frac{1}{\sqrt{n}} < \int_1^n \frac{dx}{\sqrt{x}} = \left[2\sqrt{x} \right]_1^n = 2\sqrt{n} - 2.$

$1 + \frac{1}{\sqrt{2}} + \frac{1}{\sqrt{3}} + \dots + \frac{1}{\sqrt{n}} > \int_1^{n+1} \frac{dx}{\sqrt{x}} = \left[2\sqrt{x} \right]_1^{n+1} = 2\sqrt{n+1} - 2$

よって、成り立つ。

106 $f_1(x) = \frac{5}{6}x$, $f_n(x) = \frac{5}{6}x + \frac{1}{2} \int_0^1 x f_{n-1}(t) dt$ ($n = 2, 3, \dots$) であるとき、

(1) $f_2(x)$, $f_3(x)$ を求めよ。

(2) $f_n(x)$ を求めよ。

(3) $\lim_{n \rightarrow \infty} f_n(x)$ を求めよ。

—解答例—

$$f_2(x) = \frac{5}{6}x + \frac{1}{2} \int_0^1 x \cdot \frac{5}{6}t^2 dt = \frac{5}{6}x + \frac{5}{12}x$$

107 $f_0(x) = \sin x$, $f_n(x) = \sin x + \frac{1}{2} \int_0^{\pi/2} x f_{n-1}(x) dx$ ($n = 1, 2, \dots$) によって、 $f_0(x)$, $f_1(x)$, $f_2(x)$, \dots を定義するとき、 $f_n(x)$ を求めよ。

108 x の 1 次式 $f_n(x) = a_n x - 3$ ($n = 1, 2, \dots$) がすべての x に対して $x^2 f_{n+1}(x) = x^3 + 2 \int_0^x t f_n(t) dt$ を満たしている。ただし、 $a_1 = 1$ とする。

(1) a_n と a_{n+1} との関係式を求めよ。

(2) $f_n(x)$ を求めよ。

109 次の極限值を求めよ。

$$(1) \lim_{n \rightarrow \infty} \frac{\sqrt{1} + \sqrt{2} + \sqrt{3} + \dots + \sqrt{n}}{n\sqrt{n}}$$

—解答例—

$$\text{与式} = \lim_{n \rightarrow \infty} \frac{1}{n} \sum_{k=1}^n \sqrt{\frac{k}{n}} = \int_0^1 \sqrt{x} dx = \left[\frac{2}{3} x^{3/2} \right]_0^1 = \frac{2}{3}$$

$$(2) \lim_{n \rightarrow \infty} \left(\frac{1}{n} + \frac{1}{n+1} + \frac{1}{n+2} + \dots + \frac{1}{2n-1} \right)$$

—解答例—

$$\begin{aligned} \text{与式} &= \lim_{n \rightarrow \infty} \frac{1}{n} \left(\frac{1}{1+0/n} + \frac{1}{1+1/n} + \dots + \frac{1}{1+(n-1)/n} \right) \\ &= \lim_{n \rightarrow \infty} \frac{1}{n} \sum_{k=0}^{n-1} \frac{1}{1+k/n} = \int_0^1 \frac{dx}{1+x} = \left[\log|1+x| \right]_0^1 = \log 2 \end{aligned}$$

$$(3) \lim_{n \rightarrow \infty} \left\{ \frac{1}{n} + \frac{n}{n^2+1^2} + \frac{n}{n^2+2^2} + \dots + \frac{n}{n^2+(n-1)^2} \right\}$$

—解答例—

$$\begin{aligned} \text{与式} &= \lim_{n \rightarrow \infty} \frac{1}{n} \left\{ \frac{n^2}{n^2} + \frac{n^2}{n^2+1^2} + \frac{n^2}{n^2+2^2} + \dots + \frac{n^2}{n^2+(n-1)^2} \right\} \\ &= \lim_{n \rightarrow \infty} \frac{1}{n} \left\{ \frac{1}{1+(0/n)^2} + \frac{1}{1+(1/n)^2} + \dots + \frac{1}{1+\{(n-1)/n\}^2} \right\} \\ &= \lim_{n \rightarrow \infty} \frac{1}{n} \sum_{k=0}^{n-1} \frac{1}{1+(k/n)^2} = \int_0^1 \frac{dx}{1+x^2} = \int_0^{\pi/4} \frac{1}{1+\tan^2 \theta \cos^2 \theta} d\theta \\ &= \int_0^{\pi/4} d\theta = \left[\theta \right]_0^{\pi/4} = \frac{\pi}{4} \end{aligned}$$

$$(4) \lim_{n \rightarrow \infty} \frac{1}{n^2} \left(\sqrt{1+\frac{1}{n}} + 2\sqrt{1+\frac{2}{n}} + \dots + n\sqrt{1+\frac{n}{n}} \right)$$

—解答例—

$$\begin{aligned} \text{与式} &= \lim_{n \rightarrow \infty} \frac{1}{n} \left(\frac{1}{n} \sqrt{1+\frac{1}{n}} + \frac{2}{n} \sqrt{1+\frac{2}{n}} + \dots + \frac{n}{n} \sqrt{1+\frac{n}{n}} \right) \\ &= \lim_{n \rightarrow \infty} \frac{1}{n} \sum_{k=1}^n \frac{k}{n} \sqrt{1+\frac{k}{n}} = \int_0^1 x\sqrt{1+xdx} = \int_1^2 (t-1)\sqrt{t} dt \\ &= \int_1^2 (t^{3/2} - t^{1/2}) dt = \left[\frac{2}{5} t^{5/2} - \frac{2}{3} t^{3/2} \right]_1^2 \\ &= \left(\frac{8\sqrt{2}}{5} - \frac{4\sqrt{2}}{3} \right) - \left(\frac{2}{5} - \frac{2}{3} \right) = \frac{4\sqrt{2}+4}{15} \end{aligned}$$

$$(5) \lim_{n \rightarrow \infty} \frac{1}{n^2} \left\{ \sqrt{n^2-1} + \sqrt{n^2-2^2} + \dots + \sqrt{n^2-(n-1)^2} \right\}$$

—解答例—

$$\begin{aligned} \text{与式} &= \lim_{n \rightarrow \infty} \frac{1}{n} \left\{ \sqrt{1-\left(\frac{1}{n}\right)^2} + \sqrt{1-\left(\frac{2}{n}\right)^2} + \dots + \sqrt{1-\left\{\frac{n-1}{n}\right\}^2} \right\} \\ &= \lim_{n \rightarrow \infty} \frac{1}{n} \sum_{k=1}^n \sqrt{1-\left(\frac{k}{n}\right)^2} = \int_0^1 \sqrt{1-x^2} dx \end{aligned}$$

これは、半径が1の円の面積の1/4ゆえ、

$$\text{与式} = \frac{\pi}{4}$$

$$(6) \lim_{n \rightarrow \infty} \sum_{k=1}^n \frac{n}{(n+k)(3n+k)}$$

—解答例—

$$\begin{aligned} \text{与式} &= \lim_{n \rightarrow \infty} \frac{1}{n} \sum_{k=1}^n \frac{n^2}{(n+k)(3n+k)} \\ &= \lim_{n \rightarrow \infty} \frac{1}{n} \sum_{k=1}^n \frac{1}{(1+k/n)(3+k/n)} = \int_0^1 \frac{dx}{(1+x)(3+x)} \\ &= \int_0^1 \frac{1}{2} \left(\frac{1}{(1+x)} - \frac{1}{(3+x)} \right) dx = \frac{1}{2} \left(\int_0^1 \frac{dx}{1+x} - \int_0^1 \frac{dx}{3+x} \right) \\ &= \frac{1}{2} \left(\left[\log|1+x| \right]_0^1 - \left[\log|3+x| \right]_0^1 \right) = \frac{\log 2 - \log 4 + \log 3}{2} \\ &= \frac{\log 3 - \log 2}{2} \end{aligned}$$

$$(7) \lim_{n \rightarrow \infty} \frac{1}{n} \sum_{k=1}^n \frac{k}{\sqrt{n^2+k^2}}$$

—解答例—

$$\text{与式} = \lim_{n \rightarrow \infty} \frac{1}{n} \sum_{k=1}^n \frac{k/n}{\sqrt{1+(k/n)^2}} = \int_0^1 \frac{x}{\sqrt{1+x^2}} dx$$

ここで、 $1+x^2=t$ とおくと、 $2x \frac{dx}{dt} = 1$, $\frac{x}{t} \Big|_0^1 \rightarrow \frac{1}{2}$ ゆえ、

$$\text{与式} = \int_1^2 \frac{dt}{2\sqrt{t}} = \left[\sqrt{t} \right]_1^2 = \sqrt{2} - 1$$

$$(8) \lim_{n \rightarrow \infty} \left\{ \frac{1}{(n+1)^2} + \frac{2}{(n+2)^2} + \dots + \frac{n}{(2n)^2} \right\}$$

—解答例—

$$\begin{aligned} \text{与式} &= \lim_{n \rightarrow \infty} \frac{1}{n} \left\{ \frac{n}{(n+1)^2} + \frac{2n}{(n+2)^2} + \dots + \frac{n^2}{(2n)^2} \right\} \\ &= \lim_{n \rightarrow \infty} \frac{1}{n} \left\{ \frac{1/n}{(1+1/n)^2} + \frac{2/n}{(1+2/n)^2} + \dots + \frac{n/n}{(1+n/n)^2} \right\} \\ &= \lim_{n \rightarrow \infty} \frac{1}{n} \sum_{k=1}^n \frac{k/n}{(1+k/n)^2} = \int_0^1 \frac{x}{(1+x)^2} dx = \int_1^2 \frac{t-1}{t^2} dt \\ &= \int_1^2 \left(\frac{1}{t} - t^{-2} \right) dt = \left[\log|t| + \frac{1}{t} \right]_1^2 = \left(\log 2 + \frac{1}{2} \right) - (0+1) \\ &= \log 2 - \frac{1}{2} \end{aligned}$$

$$(9) \lim_{n \rightarrow \infty} \frac{(1^4+2^4+\dots+n^4)(1^6+2^6+\dots+n^6)}{(1^8+2^8+\dots+n^8)(1^2+2^2+\dots+n^2)}$$

—解答例—

$$\begin{aligned} \text{与式} &= \lim_{n \rightarrow \infty} \frac{((1/n)^4 + \dots + (n/n)^4)((1/n)^6 + \dots + (n/n)^6)}{((1/n)^8 + \dots + (n/n)^8)((1/n)^2 + \dots + (n/n)^2)} \\ &= \lim_{n \rightarrow \infty} \frac{\frac{1}{n} \sum_{k=1}^n \left(\frac{k}{n}\right)^4 \times \frac{1}{n} \sum_{k=1}^n \left(\frac{k}{n}\right)^6}{\frac{1}{n} \sum_{k=1}^n \left(\frac{k}{n}\right)^8 \times \frac{1}{n} \sum_{k=1}^n \left(\frac{k}{n}\right)^2} = \frac{\int_0^1 x^4 dx \times \int_0^1 x^6 dx}{\int_0^1 x^8 dx \times \int_0^1 x^2 dx} \\ &= \frac{\frac{1}{5} \cdot \frac{1}{7}}{\frac{1}{9} \cdot \frac{1}{3}} = \frac{27}{35} \end{aligned}$$

110 次の極限值を求めよ。

$$(1) \lim_{n \rightarrow \infty} \frac{1}{n} \sqrt[n]{n(n+1)(n+2) \cdots (2n-1)}$$

—解答例—

$$\begin{aligned} \text{与式} &= \lim_{n \rightarrow \infty} \sqrt[n]{\frac{n(n+1)(n+2) \cdots (2n-1)}{n^n}} = \lim_{n \rightarrow \infty} \sqrt[n]{1 \left(1 + \frac{1}{n}\right) \left(1 + \frac{2}{n}\right) \cdots \left(1 + \frac{n-1}{n}\right)} \\ &= \lim_{n \rightarrow \infty} e^{\log \left(\sqrt[n]{1 \left(1 + \frac{1}{n}\right) \left(1 + \frac{2}{n}\right) \cdots \left(1 + \frac{n-1}{n}\right)} \right)} = \lim_{n \rightarrow \infty} e^{\frac{1}{n} \sum_{k=0}^{n-1} \log \left(1 + \frac{k}{n}\right)} = e^{\int_0^1 \log(1+x) dx} = e^{\int_1^2 \log t dt} = e^{[t \log t]_1^2 - [t]_1^2} = e^{2 \log 2 - 1} \\ &= (e^{\log 2})^2 \cdot e^{-1} = \frac{4}{e} \end{aligned}$$

$$(2) \lim_{n \rightarrow \infty} (\log \sqrt[n]{n+1} + \log \sqrt[n]{n+2} + \cdots + \log \sqrt[n]{2n} - \log n)$$

—解答例—

$$\begin{aligned} \text{与式} &= \lim_{n \rightarrow \infty} \left(\frac{1}{n} \log(n+1) + \frac{1}{n} \log(n+2) + \cdots + \frac{1}{n} \log(2n) - \log n \right) = \lim_{n \rightarrow \infty} \frac{1}{n} (\log(n+1) + \log(n+2) + \cdots + \log(2n) - n \log n) \\ &= \lim_{n \rightarrow \infty} \frac{1}{n} \left(\log \left(1 + \frac{1}{n}\right) + \log \left(1 + \frac{2}{n}\right) + \cdots + \log \left(1 + \frac{n}{n}\right) \right) = \lim_{n \rightarrow \infty} \frac{1}{n} \sum_{k=1}^n \log(1+x) = \int_0^1 \log(1+x) dx = \int_1^2 \log t dt = [t \log t]_1^2 - \int_1^2 dt \\ &= 2 \log 2 - [t]_1^2 = 2 \log 2 - 1 \end{aligned}$$

$$(3) \lim_{n \rightarrow \infty} \left\{ \frac{1}{2n+1} + \frac{1}{2n+3} + \cdots + \frac{1}{2n+(2n-1)} \right\}$$

—解答例—

$$\begin{aligned} \text{与式} &= \lim_{n \rightarrow \infty} \left\{ \left(\frac{1}{2n+1} + \frac{1}{2n+2} + \cdots + \frac{1}{2n+2n} \right) - \left(\frac{1}{2n+2} + \frac{1}{2n+4} + \cdots + \frac{1}{2n+2n} \right) \right\} \\ &= \lim_{n \rightarrow \infty} \left\{ \frac{1}{n} \left(\frac{1}{2+1/n} + \frac{1}{2+2/n} + \cdots + \frac{1}{2+2n/n} \right) - \frac{1}{2n} \left(\frac{1}{1+1/n} + \frac{1}{1+2/n} + \cdots + \frac{1}{1+n/n} \right) \right\} \\ &= \lim_{n \rightarrow \infty} \left\{ \frac{1}{n} \sum_{k=1}^{2n} \frac{1}{2+k/n} - \frac{1}{2} \frac{1}{n} \sum_{k=1}^n \frac{1}{1+k/n} \right\} = \int_0^2 \frac{dx}{2+x} - \frac{1}{2} \int_0^1 \frac{dx}{1+x} = \left[\log |2+x| \right]_0^2 - \frac{1}{2} \left[\log |1+x| \right]_0^1 = (\log 4 - \log 2) - \frac{1}{2} (\log 2) \\ &= \frac{1}{2} \log 2 \end{aligned}$$

111 2点 $O(0,0)$ と $B(\pi,0)$ が与えられている。線分 OB を n 等分する点 B_1, B_2, \dots, B_{n-1} から x 軸に垂線を立て、曲線 $y = \sin x$ との交点をそれぞれ A_1, A_2, \dots, A_{n-1} とする。このとき $\lim_{n \rightarrow \infty} \frac{1}{n} \sum_{k=1}^n \overline{OA_k}^2$ の値を求めよ。ただし、 $A_n = B$ とする。

112 直径 AB 上にたつ半円の弧 AB の n 等分点を C_1, C_2, \dots, C_{n-1} とし、 $\triangle ABC_k$ ($k = 1, 2, 3, \dots, n-1$) の面積を S_k とするとき、 $\lim_{n \rightarrow \infty} \frac{1}{n} \sum_{k=1}^{n-1} S_k$ を求めよ。ただし、 $AB = 2a$ とする。

113 底面の半径 r 、高さ h の円すいがある。底面に平行な n 枚の平面でこの円すいを切り、体積を $n+1$ 等分する。これらの平面による円すいの切り口の面積 A_k ($k = 1, 2, \dots, n$) の平均値を S_n とする。 $\lim_{n \rightarrow \infty} S_n$ を求めよ。

114 次の問に答えよ。

(1) $0 \leq x \leq 1$ のとき、 $1+x$ と $1+x^2$ の大小を比較せよ。

(2) 不等式 $\log 2 < \int_0^1 \frac{1}{1+x^2} dx < 1$ を証明せよ。

—解答例—

(1) $(1+x) - (1+x^2) = x - x^2 = x(1-x) \geq 0$ ゆえ、 $1+x \geq 1+x^2$

(2) $0 \leq x \leq 1$ のとき、 $\frac{1}{1+x} \leq \frac{1}{1+x^2} \leq 1$ であり、等号の成り立つのは、

$x = 0, 1$ のときだけであるから、

$$\int_0^1 \frac{dx}{1+x} < \int_0^1 \frac{dx}{1+x^2} < \int_0^1 dx.$$

$$\therefore \left[\log|1+x| \right]_0^1 < \int_0^1 \frac{dx}{1+x^2} < \left[x \right]_0^1$$

$$\therefore \log 2 < \int_0^1 \frac{dx}{1+x^2} < 1$$

115 次の不等式を証明せよ。

(1) $\frac{1}{2(n+1)} < \int_0^1 \frac{x^n}{1+x^2} dx < \frac{1}{n+1}$

—解答例—

$0 \leq x \leq 1$ のとき、 $1 \leq 1+x^2 \leq 2$ ゆえ、 $\frac{1}{2} \leq \frac{1}{1+x^2} \leq 1$.

$x \neq 0, 1$ なら、等号が成り立たないので、 $\frac{x^n}{2} \leq \frac{x^n}{1+x^2} \leq x^n$

$$\text{左辺} = \left[\frac{x^{n+1}}{2(n+1)} \right]_0^1 = \frac{1}{2(n+1)},$$

$$\text{右辺} = \left[\frac{x^{n+1}}{n+1} \right]_0^1 = \frac{1}{n+1}$$

よって、 $\frac{1}{2(n+1)} < \int_0^1 \frac{x^n}{1+x^2} dx < \frac{1}{n+1}$ が成り立つ。

(2) $\frac{1}{2} < \int_0^1 \frac{dx}{x^2+x+1} < \log 2$

—解答例—

$0 \leq x \leq 1$ のとき、 $(x+1)^2 \geq x^2+x+1 \geq x+1$

等号は $x = 0$ のときだけ成り立つので、

$$\int_0^1 \frac{dx}{(x+1)^2} < \int_0^1 \frac{dx}{x^2+x+1} < \int_0^1 \frac{dx}{x+1}$$

$$\text{左辺} = \int_0^1 \frac{dx}{(x+1)^2} = \left[-\frac{1}{x+1} \right]_0^1 = -\frac{1}{2} + 1 = \frac{1}{2}$$

$$\text{右辺} = \int_0^1 \frac{dx}{x+1} = \left[\log(x+1) \right]_0^1 = \log 2$$

よって、 $\frac{1}{2} < \int_0^1 \frac{dx}{x^2+x+1} < \log 2$ が成り立つ。

116 次の不等式を証明せよ。

$\frac{1}{2} < \int_0^{1/2} \frac{dx}{\sqrt{1-x^n}} < \frac{\pi}{6} \quad (n > 2)$

—解答例—

$0 \leq x \leq \frac{1}{2}$ のとき、 $1 \geq \sqrt{1-x^n} \geq \sqrt{1-x^2}$ が成り立つ。等号は、

$x = 0$ のときのみ成り立つ。

$$\therefore \int_0^{1/2} dx < \int_0^{1/2} \frac{dx}{\sqrt{1-x^n}} < \int_0^{1/2} \frac{dx}{\sqrt{1-x^2}}$$

$$\text{左辺} = \left[x \right]_0^{1/2} = \frac{1}{2}.$$

$$x = \sin \theta \text{ とおくと、} \frac{dx}{d\theta} = \cos \theta, \begin{matrix} x & 0 & \rightarrow & \frac{1}{2} \\ \theta & 0 & \rightarrow & \frac{\pi}{6} \end{matrix}$$

$0 \leq \theta \leq \frac{\pi}{6}$ ゆえ、 $\cos \theta > 0$

$$\text{右辺} = \int_0^{1/2} \frac{dx}{\sqrt{1-x^2}} = \int_0^{\pi/6} \frac{1}{\sqrt{1-\sin^2 \theta}} \frac{dx}{d\theta} d\theta = \int_0^{\pi/6} \frac{\cos \theta}{|\cos \theta|} d\theta$$

$$= \int_0^{\pi/6} d\theta = \left[\theta \right]_0^{\pi/6} = \frac{\pi}{6}$$

積分演習 No14 定積分と不等式 (2)

組 番 氏名

117 次の問いに答えよ。

(1) $0 \leq x \leq \frac{\pi}{4}$ であるとき、 $\sqrt{1-x} \leq \sqrt{1-\sin x} \leq 1$ であることを示せ。

(2) 次の不等式を証明せよ。

$$\frac{\pi}{4} < \int_0^{\pi/4} \frac{dx}{\sqrt{1-\sin x}} < 2 - \sqrt{4-\pi}$$

—解答例—

(1) $f(x) = (1 - \sin x) - (1 - x)$ とおくと、

x	0	$\frac{\pi}{4}$
$f'(x)$	0	$-$
$f(x)$	0	\searrow

$\therefore 1 \leq 1 - \sin x \leq 1$ 等号が成り立つのは、 $x = 0$ のとき。

$$\therefore \int_0^{\pi/4} dx < \int_0^{\pi/4} \frac{dx}{\sqrt{1-\sin x}} < \int_0^{\pi/4} \frac{dx}{\sqrt{1-x}}$$

$$\text{左辺} = \left[x \right]_0^{\pi/4} = \frac{\pi}{4}$$

$$\text{右辺} = \left[-2\sqrt{1-x} \right]_0^{\pi/4} = -2\sqrt{1-\frac{\pi}{4}} - (-2) = 2 - \sqrt{4-\pi}$$

よって成り立つ。

118 $0 \leq x \leq 1$ のとき、次の不等式を証明せよ。

$$\frac{1}{2} < \int_0^1 \frac{1}{1+x} dx < 1$$

—解答例—

$0 \leq x \leq 1$ のとき、 $2 \geq 1+x \geq 1$ 。

$$\therefore \frac{1}{2} \leq \frac{1}{1+x} \leq 1$$

等号は $x = 0$ のときだけ成り立つので、

$$\int_0^1 \frac{dx}{2} \leq \int_0^1 \frac{dx}{1+x} \leq \int_0^1 dx$$

$$\therefore \left[\frac{x}{2} \right]_0^1 < \int_0^1 \frac{dx}{1+x} < \left[x \right]_0^1$$

$$\therefore \frac{1}{2} < \int_0^1 \frac{dx}{1+x} < 1$$

119 不等式 $\frac{1}{3} < \int_0^1 x^{(\sin x + \cos x)^2} dx < \frac{1}{2}$ を証明せよ。

—解答例—

$$\sin x + \cos x = \sqrt{2} \sin \left(x + \frac{\pi}{4} \right)$$

$0 \leq x \leq 1$ のとき、 $\frac{\pi}{4} \leq x + \frac{\pi}{4} \leq 1 + \frac{\pi}{4} < \frac{3\pi}{4}$ ゆえ、

$$1 \leq \sqrt{2} \sin \left(x + \frac{\pi}{4} \right) \leq \sqrt{2}$$

よって、 $0 \leq x \leq 1$ の範囲で、 $x^2 \leq x^{(\sin x + \cos x)^2} \leq x$

$$\int_0^1 x^2 dx < \int_0^1 x^{(\sin x + \cos x)^2} dx < \int_0^1 x dx$$

$$\text{左辺} = \left[\frac{x^3}{3} \right]_0^1 = \frac{1}{3}$$

$$\text{右辺} = \left[\frac{x^2}{2} \right]_0^1 = \frac{1}{2}$$

$$\therefore \frac{1}{3} < \int_0^1 x^{(\sin x + \cos x)^2} dx < \frac{1}{2}$$

120 不等式 $2 < \int_0^2 \sqrt{x^3 - x^2 - x + 2} dx < 4$ を証明せよ。

—解答例—

$f(x) = x^3 - x^2 - x + 2$ とおくと、

$$f'(x) = 3x^2 - 2x - 1 = (x-1)(3x+1)$$

x	0	1	2
$f'(x)$	$-$	0	$+$
$f(x)$	2	\searrow	\nearrow

$$\therefore \sqrt{1} \leq \sqrt{x^3 - x^2 - x + 2} \leq \sqrt{4}$$

$x \neq 1, 2$ のとき等号は成立しないから、

$$\therefore \int_0^2 dx < \int_0^2 \sqrt{x^3 - x^2 - x + 2} dx < \int_0^2 2 dx$$

$$\therefore \left[x \right]_0^2 < \int_0^2 \sqrt{x^3 - x^2 - x + 2} dx < \left[2x \right]_0^2$$

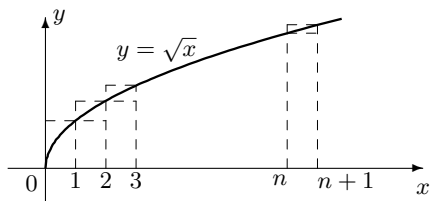
$$\therefore 2 < \int_0^2 \sqrt{x^3 - x^2 - x + 2} dx < 4$$

121 不等式

$$\frac{2}{3}n\sqrt{n} < \sqrt{1} + \sqrt{2} + \dots + \sqrt{n} < \frac{2}{3}(n+1)\sqrt{n+1}$$

を証明せよ。

—解答例—



グラフより、

$$\int_0^n \sqrt{x} dx < \sqrt{1} + \sqrt{2} + \dots + \sqrt{n} < \int_1^{n+1} \sqrt{x} dx$$

$$\text{左辺} = \int_0^n \sqrt{x} dx = \left[\frac{2}{3}x^{\frac{3}{2}} \right]_0^n = \frac{2n\sqrt{n}}{3}$$

$$\text{右辺} = \int_1^{n+1} \sqrt{x} dx = \left[\frac{2}{3}x^{\frac{3}{2}} \right]_1^{n+1} = \frac{2(n+1)\sqrt{n+1}}{3} - \frac{2}{3}$$

よって、成り立つ。

122 次の問に答えよ。

(1) 次の不等式を証明せよ。

$$\log(n+1) < 1 + \frac{1}{2} + \dots + \frac{1}{n} < 1 + \log n$$

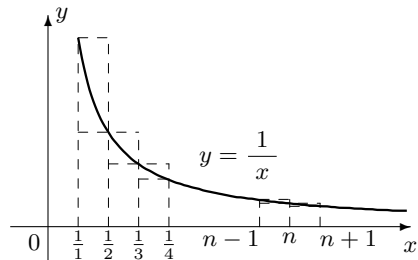
(2) 無限級数

$$1 + \frac{1}{2} + \frac{1}{3} + \dots + \frac{1}{n} + \dots$$

は発散することを示せ。

—解答例—

(1)



グラフより、

$$\int_1^{n+1} \frac{dx}{x} < 1 + \frac{1}{2} + \dots + \frac{1}{n} < 1 + \int_1^n \frac{dx}{x}$$

$$\text{左辺} = \int_1^{n+1} \frac{dx}{x} = \left[\log x \right]_1^{n+1} = \log(n+1)$$

$$\text{右辺} = 1 + \int_1^n \frac{dx}{x} = 1 + \left[\log x \right]_1^n = 1 + \log n$$

よって、成り立つ。

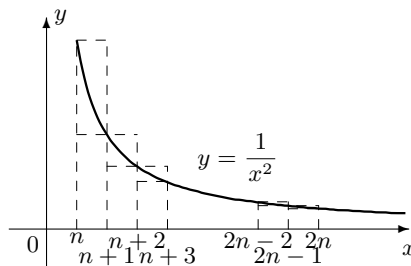
(2) $\lim_{n \rightarrow \infty} \log(n+1) = +\infty$ ゆえ、

$1 + \frac{1}{2} + \dots$ は $(+\infty)$ に発散する。

123 次の不等式を証明せよ。

$$\frac{1}{(n+1)^2} + \frac{1}{(n+2)^2} + \dots + \frac{1}{(2n)^2} < \frac{1}{2n} < \frac{1}{n^2} + \frac{1}{(n+1)^2} + \dots + \frac{1}{(2n-1)^2}$$

—解答例—



グラフから、

$$\frac{1}{(n+1)^2} + \frac{1}{(n+2)^2} + \dots + \frac{1}{(n+n)^2} < \int_n^{n+n} \frac{dx}{x^2} < \frac{1}{n^2} + \frac{1}{(n+1)^2} + \dots + \frac{1}{\{n+(n-1)\}^2}$$

$$\text{中辺} = \int_n^{2n} \frac{dx}{x^2} = \left[-\frac{1}{x} \right]_n^{2n} = \left(-\frac{1}{2n} \right) - \left(-\frac{1}{n} \right) = -\frac{1}{2n} + \frac{1}{n} = \frac{1}{2n}$$

よって成り立つ。

行列演習 No1

124 $A = \begin{pmatrix} -1 & 2 \\ 3 & 1 \end{pmatrix}, B = \begin{pmatrix} 2 & -3 \\ -4 & 0 \end{pmatrix}$ のとき、次の間に答えよ。

(1) $2A - 3B = \begin{pmatrix} -8 & 13 \\ 18 & 2 \end{pmatrix}$

(2) $2X - 3A + B = -2A + X$ を満たす X を求めよ。

—解答例—

$$X = A - B = \begin{pmatrix} -1 & 2 \\ 3 & 1 \end{pmatrix} - \begin{pmatrix} 2 & -3 \\ -4 & 0 \end{pmatrix} = \begin{pmatrix} -3 & 5 \\ 7 & 1 \end{pmatrix}$$

125 次の行列 A, B, C について、異なる 2 つの積が可能なものをすべて計算せよ。

$$A = \begin{pmatrix} 2 & 3 \\ 2 & 3 \end{pmatrix}, B = \begin{pmatrix} 1 & -1 \\ -2 & 0 \end{pmatrix}, C = \begin{pmatrix} 1 & -1 \\ 4 & 0 \end{pmatrix}$$

—解答例—

$$AB = \begin{pmatrix} 2 & 3 \\ 2 & 3 \end{pmatrix} \begin{pmatrix} 1 & -1 \\ -2 & 0 \end{pmatrix} = \begin{pmatrix} -4 & -1 \\ -4 & -1 \end{pmatrix}$$

$$AC = \begin{pmatrix} 2 & 3 \\ 2 & 3 \end{pmatrix} \begin{pmatrix} 1 & -1 \\ 4 & 0 \end{pmatrix} = \begin{pmatrix} 14 & -2 \\ 14 & -2 \end{pmatrix}$$

$$BA = \begin{pmatrix} 1 & -1 \\ -2 & 0 \end{pmatrix} \begin{pmatrix} 2 & 3 \\ 2 & 3 \end{pmatrix} = \begin{pmatrix} -2 & 0 \\ -4 & -6 \end{pmatrix}, CB = \begin{pmatrix} 1 & -1 \\ 4 & 0 \end{pmatrix} \begin{pmatrix} 1 & -1 \\ -2 & 0 \end{pmatrix} = \begin{pmatrix} 3 \\ 4 \end{pmatrix}$$

126 $A = \begin{pmatrix} 1 & 3 \\ -1 & -2 \end{pmatrix}$ のとき、次の間に答えよ。

(1) A^2, A^3 を求めよ。

—解答例—

$$A^2 = \begin{pmatrix} 1 & 3 \\ -1 & -2 \end{pmatrix} \begin{pmatrix} 1 & 3 \\ -1 & -2 \end{pmatrix} = \begin{pmatrix} -2 & -3 \\ 1 & 1 \end{pmatrix}$$

$$A^3 = A^2 A = \begin{pmatrix} -2 & -3 \\ 1 & 1 \end{pmatrix} \begin{pmatrix} 1 & 3 \\ -1 & -2 \end{pmatrix} = \begin{pmatrix} 1 & 0 \\ 0 & 1 \end{pmatrix} = E$$

(2) A^{100} を求めよ。

—解答例—

$$A^{100} = (A^3)^{33} A = E^{33} A = A = \begin{pmatrix} 1 & 3 \\ -1 & -2 \end{pmatrix}$$

127 $A = \begin{pmatrix} 1 & 2 \\ 0 & -1 \end{pmatrix}$ のとき、 $AB = BA$ を満たす B をすべて求めよ。

—解答例—

$$B = \begin{pmatrix} a & b \\ c & d \end{pmatrix} \text{ とおくと,}$$

$$AB = \begin{pmatrix} 1 & 2 \\ 0 & -1 \end{pmatrix} \begin{pmatrix} a & b \\ c & d \end{pmatrix} = \begin{pmatrix} a+2c & b+2d \\ -c & -d \end{pmatrix},$$

$$BA = \begin{pmatrix} a & b \\ c & d \end{pmatrix} \begin{pmatrix} 1 & 2 \\ 0 & -1 \end{pmatrix} = \begin{pmatrix} a & 2a-b \\ c & 2c-d \end{pmatrix}$$

$$\therefore AB = BA \iff c = 0, b + 2d = 2a - b$$

$$\text{よって, } B = \begin{pmatrix} a & b \\ 0 & a-b \end{pmatrix}, (a, b \text{ は任意})$$

128 $A + B = \begin{pmatrix} 1 & 2 \\ 3 & 4 \end{pmatrix} \dots \textcircled{1}, A - B = \begin{pmatrix} 3 & 6 \\ 1 & 2 \end{pmatrix} \dots \textcircled{2}$ であるとき、 $A^2 - B^2$

を求めよ。

—解答例—

$$\textcircled{1} + \textcircled{2} \text{ から } 2A = \begin{pmatrix} 4 & 8 \\ 4 & 6 \end{pmatrix} \therefore A = \begin{pmatrix} 2 & 4 \\ 2 & 3 \end{pmatrix}$$

$$\textcircled{1} - \textcircled{2} \text{ から } 2B = \begin{pmatrix} -2 & -4 \\ 2 & 2 \end{pmatrix} \therefore B = \begin{pmatrix} -1 & -2 \\ 1 & 1 \end{pmatrix}$$

$$\therefore A^2 - B^2 = \begin{pmatrix} 2 & 4 \\ 2 & 3 \end{pmatrix} \begin{pmatrix} 2 & 4 \\ 2 & 3 \end{pmatrix} - \begin{pmatrix} -1 & -2 \\ 1 & 1 \end{pmatrix} \begin{pmatrix} -1 & -2 \\ 1 & 1 \end{pmatrix} = \begin{pmatrix} 12 & 20 \\ 10 & 17 \end{pmatrix} - \begin{pmatrix} -1 & 0 \\ 0 & -1 \end{pmatrix} = \begin{pmatrix} 13 & 20 \\ 10 & 18 \end{pmatrix}$$

129 $A = \begin{pmatrix} a & b \\ c & d \end{pmatrix}$ のとき、次の空欄を埋めよ。

$$A^2 - \begin{pmatrix} a+d & \\ & \end{pmatrix} A + \begin{pmatrix} ad-bc & \\ & \end{pmatrix} E = 0$$

130 $A = \begin{pmatrix} 1 & 2 \\ -3 & -4 \end{pmatrix}$ のとき、 $A^4 + 2A^3 + 3A + 3E$ を求めよ。

—解答例—

Cayley-Hamilton より $A^2 + 3A + 2E = O$.

$$\begin{aligned} \text{よって, } A^4 + 2A^3 + 3A + 3E &= (A^4 + 3A^3 + 2A^2) - A^3 - 2A^2 + 3A + 3E \\ &= -(A^3 + 3A^2 + 2A) + A^2 + 5A + 3E = (A^2 + 3A + 2E) + 2A + E \\ &= \begin{pmatrix} 3 & 4 \\ -6 & -7 \end{pmatrix} \end{aligned}$$

131 $A = \begin{pmatrix} 1 & -2 \\ 1 & 4 \end{pmatrix}, B = \begin{pmatrix} 1 & 2 \\ -1 & -1 \end{pmatrix}$ のとき、次の間に答えよ。

(1) $A^{-1} = \frac{1}{6} \begin{pmatrix} 4 & 2 \\ -1 & 1 \end{pmatrix}, B^{-1} = \begin{pmatrix} -1 & -2 \\ 1 & 1 \end{pmatrix}$

(2) $(AB)^{-1}$ を求めよ。

—解答例—

$$(AB)^{-1} = B^{-1} A^{-1} = \begin{pmatrix} -1 & -2 \\ 1 & 1 \end{pmatrix} \frac{1}{6} \begin{pmatrix} 4 & 2 \\ -1 & 1 \end{pmatrix} = \frac{1}{6} \begin{pmatrix} -2 & -4 \\ 3 & 3 \end{pmatrix}$$

132 $A = \begin{pmatrix} 3 & 2 \\ 4 & 3 \end{pmatrix}, B = \begin{pmatrix} -1 & 0 \\ 3 & 2 \end{pmatrix}$ のとき、 $XA = B$ を満たす X を求めよ。

—解答例—

$|A| = 9 - 8 = 1 \neq 0$ ゆえ A^{-1} が存在する。

$$\text{従って, } X = BA^{-1} = \begin{pmatrix} -1 & 0 \\ 3 & 2 \end{pmatrix} \begin{pmatrix} 3 & -2 \\ -4 & 3 \end{pmatrix} = \begin{pmatrix} -3 & 2 \\ 1 & 0 \end{pmatrix}$$

133 $\begin{pmatrix} 2-x & 4 \\ 5 & 3-x \end{pmatrix}$ が逆行列を持たないように、 x の値を定めよ。

—解答例—

$$\Delta = (2-x)(3-x) - 20 = 0 \text{ となればよい。}$$

$$\therefore x^2 - 5x - 14 = 0$$

$$(x+2)(x-7) = 0$$

$$\therefore x = -2, 7$$

134 $A = \begin{pmatrix} a & b \\ 7 & d \end{pmatrix}$ の逆行列が $\begin{pmatrix} -3 & 4 \\ c & -9 \end{pmatrix}$ のとき、 A を求めよ。

—解答例—

$$\begin{pmatrix} a & b \\ 7 & d \end{pmatrix} \begin{pmatrix} -3 & 4 \\ c & -9 \end{pmatrix} = \begin{pmatrix} -3a+bc & 4a-9b \\ -21+cd & 28-9d \end{pmatrix} = \begin{pmatrix} 1 & 0 \\ 0 & 1 \end{pmatrix}$$

$$\therefore d=3, c=7$$

さらに

$$\begin{cases} -3a+7b = 1 \\ 4a-9b = 0 \end{cases}$$

これを解いて $b=4, a=9$ 。

$$\therefore A = \begin{pmatrix} 9 & 4 \\ 7 & 3 \end{pmatrix}$$

135 $A = \begin{pmatrix} x+1 & 2 \\ -4 & y \end{pmatrix}$ の逆行列が自分自身となるような x, y の値を求めよ。

—解答例—

題意より $A^2 = E$ である。また Cayley-Hamilton より

$$A^2 - (x+1+y)A + \{(x+1)y+8\}E = O$$

$$\text{これらから } (x+y+1)A = \{(x+1)y+9\}E$$

ところが A の (1,2) 成分を考えると $A = kE$ とは書けないので

$$x+y+1=0, (x+1)y+9=0 \text{ となる。}$$

よって $x+1, y$ は方程式 $t^2 - 9 = (t-3)(t+3) = 0$ の解となる。

$$\therefore (x+1, y) = (3, -3), (-3, 3)$$

$$\therefore (x, y) = (2, -3), (-4, 3)$$

136 $A = \begin{pmatrix} 1 & -1 \\ 3 & -4 \end{pmatrix}, B = \begin{pmatrix} 1 & 0 \\ 2 & -1 \end{pmatrix}, C = \begin{pmatrix} 4 & 2 \\ 6 & 0 \end{pmatrix}$ であるとき、

$AX + B = C$ を満たす X を求めよ。

—解答例—

$$|A| = -4 + 3 = -1 \neq 0 \text{ ゆえ、} A^{-1} \text{ が存在する。}$$

よって

$$X = A^{-1}(C - B)$$

$$= - \begin{pmatrix} -4 & 1 \\ - & 1 \end{pmatrix} \begin{pmatrix} 3 & 2 \\ 4 & 1 \end{pmatrix} = \begin{pmatrix} 4 & -1 \\ 3 & -1 \end{pmatrix} \begin{pmatrix} 3 & 2 \\ 4 & 1 \end{pmatrix} = \begin{pmatrix} 8 & 7 \\ 5 & 5 \end{pmatrix}$$

137 次の連立方程式を行列を用いて解け。ただし、 a は定数とする。

$$(1) \begin{cases} 2x+3y = 5 \\ 3x+5y = 9 \end{cases}$$

—解答例—

$$\begin{pmatrix} 2 & 3 \\ 3 & 5 \end{pmatrix} \begin{pmatrix} x \\ y \end{pmatrix} = \begin{pmatrix} 5 \\ 9 \end{pmatrix}$$

$$\Delta = 10 - 9 = 1 \neq 0 \text{ ゆえ 逆行列}$$

が存在する。

$$\begin{aligned} \therefore \begin{pmatrix} x \\ y \end{pmatrix} &= \begin{pmatrix} 5 & -3 \\ -3 & 2 \end{pmatrix} \begin{pmatrix} 5 \\ 9 \end{pmatrix} \\ &= \begin{pmatrix} 25-27 \\ -15+18 \end{pmatrix} = \begin{pmatrix} -2 \\ 3 \end{pmatrix} \end{aligned}$$

$$(2) \begin{cases} ax+y = 1 \\ x+ay = 1 \end{cases}$$

—解答例—

$$\begin{pmatrix} a & 1 \\ 1 & a \end{pmatrix} \begin{pmatrix} x \\ y \end{pmatrix} = \begin{pmatrix} 1 \\ 1 \end{pmatrix}$$

$$\Delta = a^2 - 1$$

$a \neq \pm 1$ のとき逆行列が存在し

$$\begin{aligned} \begin{pmatrix} x \\ y \end{pmatrix} &= \frac{1}{a^2-1} \begin{pmatrix} a & -1 \\ -1 & a \end{pmatrix} \begin{pmatrix} 1 \\ 1 \end{pmatrix} \\ &= \frac{1}{a^2-1} \begin{pmatrix} a-1 \\ a+1 \end{pmatrix} = \frac{1}{a+1} \begin{pmatrix} 1 \\ 1 \end{pmatrix} \end{aligned}$$

$a = 1$ のとき 与方程式はともに $x+y=1$ となるので不定。

$a = -1$ のとき 与方程式は $-x+y=1, x-y=-1$ となるので不能。

138 連立方程式 $\begin{cases} x-2y = kx \\ x+4y = ky \end{cases}$ が、 $x=0, y=0$ 以外の解を持つように k の値を求めよ。

—解答例—

$$\begin{pmatrix} 1-k & -2 \\ 1 & 4-k \end{pmatrix} \begin{pmatrix} x \\ y \end{pmatrix} = \begin{pmatrix} 0 \\ 0 \end{pmatrix}$$

題意を満たすのは $\Delta = (1-k)(4-k) + 2 = 0$ のときである。

$$\therefore k^2 - 5k + 6 = (k-2)(k-3) = 0$$

$$\therefore k = 2, 3$$

139 2 次の正方行列 A, B についての下の主張について、正しいものは証明せよ。正しくないものはその例(反例)を示せ。

(1) $AB = O$ のとき、 $A = O$ または $B = O$ 。

(2) A^{-1}, B^{-1} がともに存在すれば、 $(AB)^{-1}$ は存在する。

(3) A^{-1}, B^{-1} がともに存在すれば、 $(A+B)^{-1}$ は存在する。

(4) つねに $AB = BA$ が成り立つ。

(5) $A^2 = A$ を満たす A は、 E か O である。

—解答例—

(1) $A = \begin{pmatrix} 0 & 1 \\ 0 & 0 \end{pmatrix}, B = \begin{pmatrix} 1 & 0 \\ 0 & 0 \end{pmatrix}$ とすると $A, B \neq O$ だが $AB = O$ となるので正しくない。

(2) $(AB)(B^{-1}A^{-1}) = A(BB^{-1})A^{-1} = AEA^{-1} = AA^{-1} = E$
 $(B^{-1}A^{-1})(AB) = B^{-1}(A^{-1}A)B = B^{-1}EB = B^{-1}B = E$
 よって $(AB)^{-1} (= B^{-1}A^{-1})$ は存在し正しい。

(3) $A = E, B = -E$ とすると $A^{-1} = E, B^{-1} = -E$ となり逆行列が存在するが、 $A+B = O$ ゆえ $(A+B)^{-1}$ は存在しないので正しくない。

(4) $A = \begin{pmatrix} 0 & 1 \\ 0 & 1 \end{pmatrix}, B = \begin{pmatrix} 1 & 0 \\ 0 & 0 \end{pmatrix}$ とすると $AB = O$ であるが $BA = \begin{pmatrix} 0 & 1 \\ 0 & 0 \end{pmatrix} \neq O$ となり成り立たないので正しくない。

(5) 【単に例をあげればよいのだが、ここでは導いてみよう】

$A = \begin{pmatrix} a & b \\ c & d \end{pmatrix}$ とおくと、Cayley-Hamilton から $A^2 - (a+d)A + (ad-bc)E = O$ である。ここで $A^2 = A$ とすると $(a+d-1)A = (ad-bc)E$ となる。 $a+d \neq 1$ のとき $A = kE$ と表せる。このとき $A^2 = A$ から $k^2E = kE$ となり、 $k^2 = k$ となる。このときは $k = 0, 1$ ゆえ $A = E$ または O となる。 $a+d = 1$ のときは $ad-bc = 0$

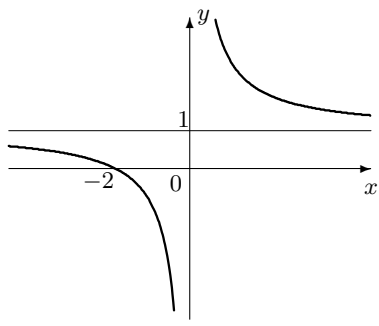
そこで $A = \begin{pmatrix} 1 & 0 \\ 0 & 0 \end{pmatrix}$ とおくと $A^2 = \begin{pmatrix} 1 & 0 \\ 0 & 0 \end{pmatrix} \begin{pmatrix} 1 & 0 \\ 0 & 0 \end{pmatrix} = \begin{pmatrix} 1 & 0 \\ 0 & 0 \end{pmatrix} = A$ ゆえ、成り立たないので正しくない。

2次曲線演習 No1 標準形(1)

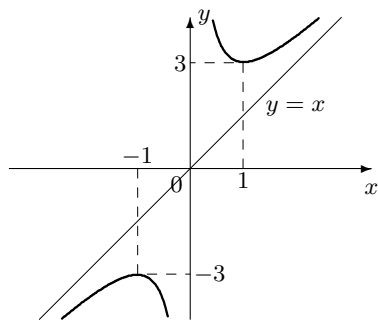
組 番 氏名 _____

140 次の関数のグラフ、曲線をかけ。

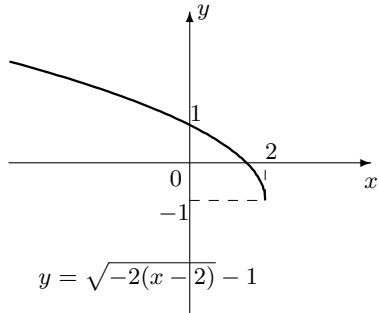
(1) $y = \frac{2}{x} + 1$



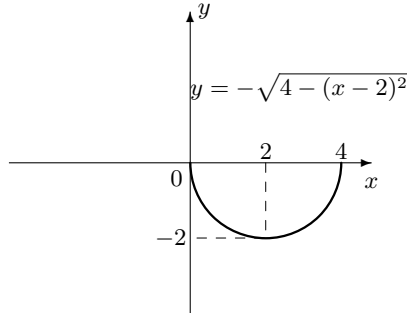
(2) $y = \frac{2}{x} + x$



(3) $y = -1 + \sqrt{4 - 2x}$



(4) $y = -\sqrt{4x - x^2}$



141 次の2つの方程式のグラフが(イ)~(ホ)の移動によってうつされるグラフの式を求めよ。

- (イ) x 軸方向に 3, y 軸方向に -2 の平行移動
- (ロ) y 軸に関する対称移動
- (ハ) x 軸に関する対称移動
- (ニ) 原点に関する対称移動
- (ホ) 直線 $y = x$ に関する対称移動

(1) $y = 3x - 2$

イ $y = 3x - 13$

ロ $y = -3x - 2$

ハ $y = -3x + 2$

ニ $y = 3x + 2$

ホ $y = \frac{1}{3}x + \frac{2}{3}$

(2) $y = x^2 + x$

イ $y = x^2 - 5x + 4$

ロ $y = x^2 - x$

ハ $y = -x^2 - x$

ニ $y = -x^2 + x$

ホ $x = y^2 + y$

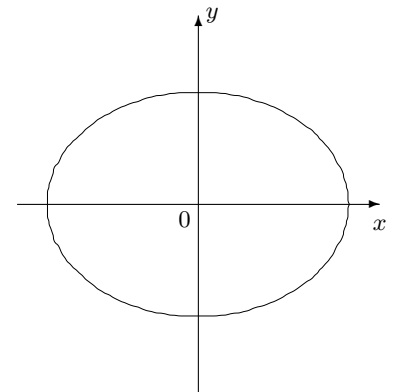
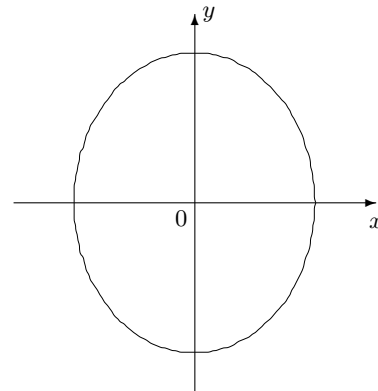
142 $y = -x^2 + 6x$ のグラフを x 軸方向に a , y 軸方向に b 平行移動して $y = -x^2 - 2x + 2$ を得た。 a, b の値を求めよ。

—解答例—

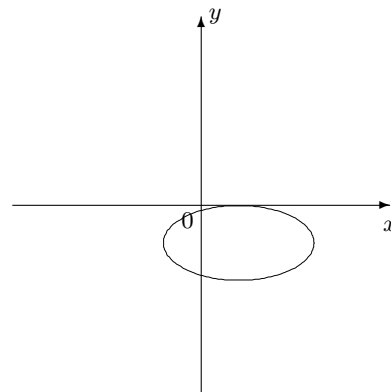
$y = -x^2 + 6x = -(x-3)^2 + 9$, $y = -x^2 - 2x + 2 = -(x+1)^2 + 3$ ゆえ、頂点が $(3,9) \rightarrow (-1,3)$ と移動するので、 $a = -4, b = -6$ となる。

143 次の問に答えよ。

- (1) だ円 $\frac{x^2}{16} + \frac{y^2}{25} = 1$ について (2) だ円 $9x^2 + 16y^2 = 144$ について、焦点は $(0, \pm 3)$, 長軸の長さは 10 , 概形は



- (3) だ円 $\frac{(x-1)^2}{4} + \frac{(y+1)^2}{1} = 1$ はだ円 $\frac{x^2}{4} + \frac{y^2}{1} = 1$ を x 軸方向へ 1 , y 軸方向へ -1 だけ平行移動したもので、焦点は $(\pm\sqrt{3} + 1, -1)$, 概形は

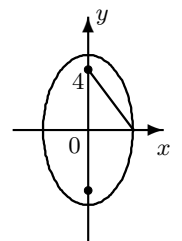


144 次のだ円の方程式をもとめよ。

- (1) 焦点が $(0, \pm 4)$ で短軸の長さが 6

—解答例—

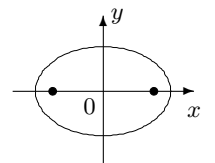
焦点 $(0,4)$ と短軸の端点 $(3,0)$ との距離は $\sqrt{16+9} = 5$.
 \therefore 長軸上の頂点は $(0, \pm 5) \therefore \frac{x^2}{9} + \frac{y^2}{25} = 1$



- (2) 中心が原点で、焦点が x 軸上にあり、長軸の長さが 6, 短軸の長さが 4

—解答例—

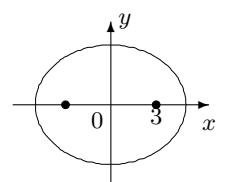
長軸上の頂点は $(0, \pm 3)$, 短軸上の頂点は $(\pm 2, 0)$
 $\therefore \frac{x^2}{9} + \frac{y^2}{4} = 1$



- (3) 中心が原点, 焦点 (x 軸上にある) の距離が 6 で、長軸の長さが 10

—解答例—

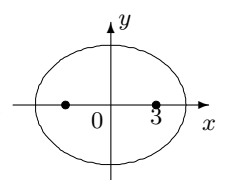
焦点の座標は $(\pm 3, 0)$, 長軸上の頂点は $(\pm 5, 0)$
 $\sqrt{5^2 - 3^2} = 4$ ゆえ短軸上の頂点は $(0, \pm 4)$.
 $\therefore \frac{x^2}{25} + \frac{y^2}{16} = 1$



- (4) 焦点が $(\pm 3, 0)$ で、長軸と短軸の長さの差が 2

—解答例—

長軸上の頂点は $(\pm a, 0)$ 短軸上の頂点は $(0, \pm b)$ と書け,
 $a - b = 1, a^2 = b^2 + 9$ である。これを解いて,
 $(a, b) = (5, 4) \therefore \frac{x^2}{25} + \frac{y^2}{16} = 1$

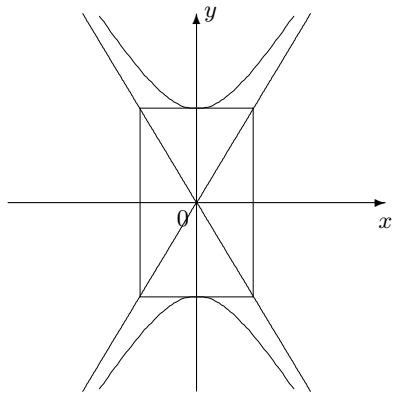


2次関数演習 No2 標準形(2)

組 番 氏名

145 双曲線 $\frac{x^2}{9} - \frac{y^2}{25} = -1$ について

焦点は , 頂点は
 漸近線は ,
 概形は

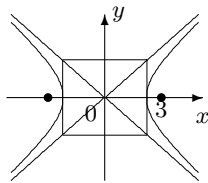


146 次の双曲線の方程式を求めよ。

(1) 2つの焦点が $(\pm 3, 0)$ で、点 $(5, 4)$ を通る

—解答例—

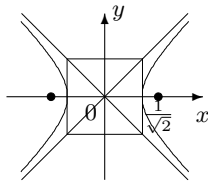
2焦点からの距離の差は $\sqrt{8^2 + 4^2} - \sqrt{2^2 + 4^2} = 4\sqrt{5} - 2\sqrt{5} = 2\sqrt{5}$ ゆえ、頂点の座標は $(\pm\sqrt{5}, 0)$ $\sqrt{9-5} = 2$ ゆえ、虚の頂点は $(0, \pm 2)$ である。 $\therefore \frac{x^2}{5} - \frac{y^2}{4} = 1$



(2) 漸近線が $y = \pm x$ で、点 $(\frac{1}{2}, 0)$ を通る

—解答例—

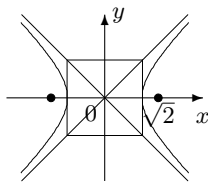
頂点は $(\pm\frac{1}{2}, 0)$, 虚の頂点は $(0, \pm\frac{1}{2})$ ゆえ、
 $\frac{x^2}{\frac{1}{4}} - \frac{y^2}{\frac{1}{4}} = 1$



(3) 頂点が $(\pm 1, 0)$ で、2直線 $y = \pm x$ が漸近線

—解答例—

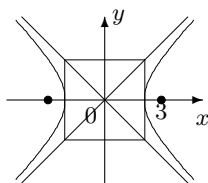
頂点は $(\pm 1, 0)$, 虚の頂点は $(0, \pm 1)$ ゆえ、
 $x^2 - y^2 = 1$



(4) 中心が原点、漸近線が直交、焦点 $(3, 0)$ をもつ

—解答例—

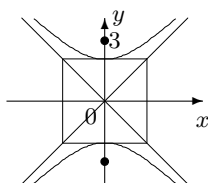
頂点は $(\pm a, 0)$, 虚の頂点は $(0, \pm a)$ と書ける。
 焦点が $(\pm 3, 0)$ だから $2a^2 = 3^2$ が成り立つ。
 よって
 $\frac{x^2}{\frac{9}{2}} - \frac{y^2}{\frac{9}{2}} = 1$



(5) 焦点が $(0, \pm 2)$ の直角双曲線

—解答例—

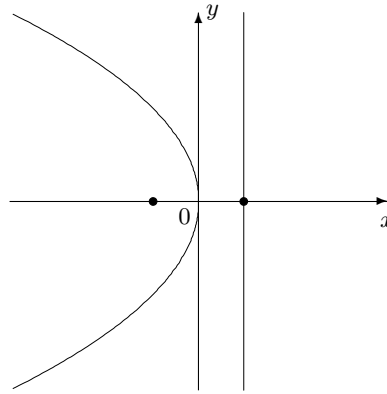
頂点は $(0, \pm a)$, 虚の頂点は $(\pm a, 0)$ と書ける。焦点が $(0, \pm 2)$ だから $2a^2 = 4$ が成り立つ。よって
 $x^2 - y^2 = 2$



147 次の放物線について問に答えよ。

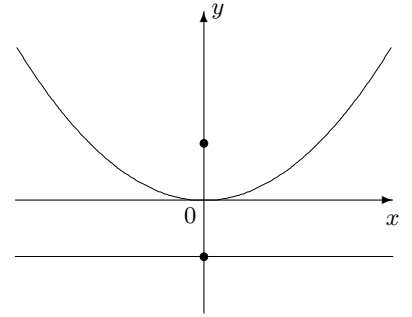
(1) $y^2 = -12x$ の焦点は

,
 準線は
 概形は



(2) $y = x^2$ の焦点は

,
 準線は
 概形は

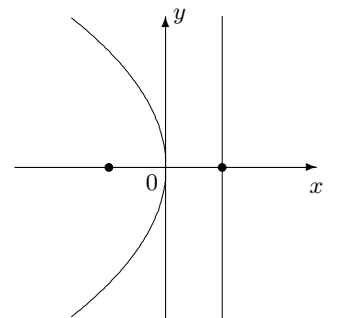


148 次の放物線の方程式を求めよ。

(1) 焦点が $(-5, 0)$ で、準線が $x = 5$

—解答例—

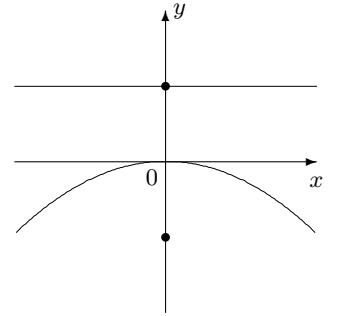
原点が頂点で、軸は x 軸ゆえ
 $y^2 = -20x$



(2) 焦点が $(0, -\frac{1}{2})$ で、準線が $y = \frac{1}{2}$

—解答例—

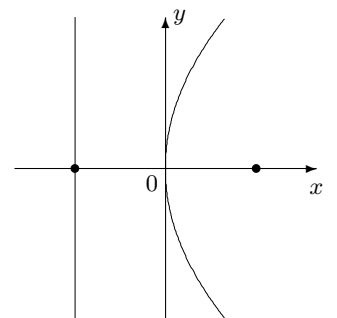
原点が頂点で、軸は y 軸ゆえ
 $x^2 = -2y$



(3) 軸が x 軸、頂点が原点で、点 $(3, 3)$ を通る

—解答例—

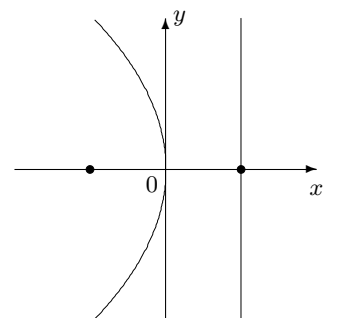
$y^2 = 4px$ と表せる。これが点 $(3, 3)$ を通るから $p = \frac{3}{4}$
 $\therefore y^2 = 3x$



(4) 頂点が原点で、焦点が $(-4, 0)$

—解答例—

$y^2 = -16x$



2次曲線演習 No3 2次曲線の平行移動・回転

組 番 氏名 _____

149 次の曲線を x 軸方向に 2, y 軸方向に -1 , 平行移動せよ。

$$(1) x^2 + \frac{y^2}{4} = 1$$

$$(x-2)^2 + \frac{(y+1)^2}{4} = 1$$

$$(2) y^2 = 2x$$

$$(y+1)^2 = 2(x-2)$$

150 次の を埋めよ。

(1) 放物線 $y^2 + 2x - 2y = 3$ の標準形は

$$(y-1)^2 = -2(x-2)$$

頂点は $(2, 1)$

焦点は $(\frac{3}{2}, 1)$

準線は $x = 2$

(2) $x^2 + 4y^2 - 4x + 8y + 4 = 0$ はだ円を表す。標準形は

$$\frac{(x-2)^2}{4} + (y+1)^2 = 1$$

中心は $(2, -1)$

焦点は $(2 \pm \sqrt{3}, -1)$

(3) $4x^2 - 9y^2 + 16x + 18y = -43$ は双曲線を表す。標準形は

$$\frac{(x+2)^2}{9} - \frac{(y-1)^2}{4} = -1$$

頂点は $(-2, 3), (-2, -1)$

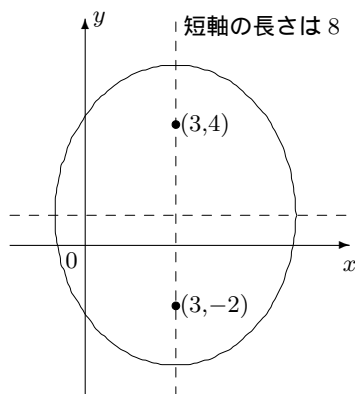
焦点は $(-2, 1 \pm \sqrt{13})$

漸近線は

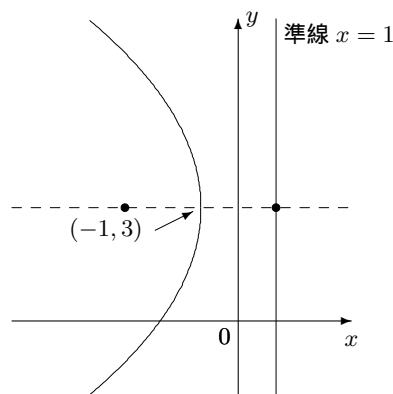
$$\frac{x+2}{3} - \frac{y-1}{2} = 0$$

$$\frac{x+2}{3} + \frac{y-1}{2} = 0$$

151 次の曲線の方程式を求めよ。

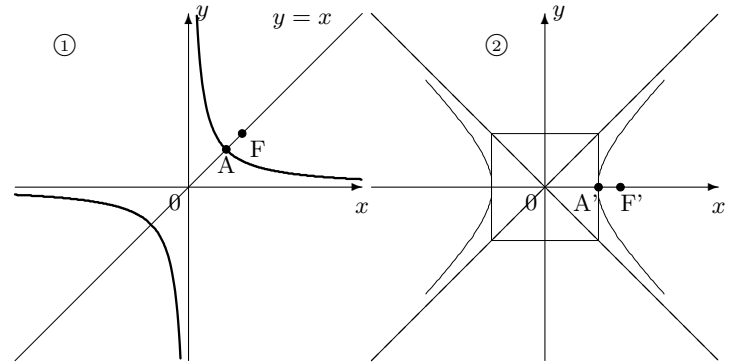


$$\frac{(x-3)^2}{16} + \frac{(y-1)^2}{25} = 1$$



$$(y-3)^2 = -8(x+2)$$

152 ①は直角双曲線 $xy = 1$ のグラフで②は①を原点のまわりに -45° 回転したものである。



①の漸近線の方程式は

$$x = 0$$

$$y = 0$$

②の漸近線の方程式は

$$y = x$$

$$y = -x$$

①の頂点 A の座標は $(1, 1)$

②の頂点 A' の座標は $(\sqrt{2}, 0)$

双曲線②の方程式は $x^2 - y^2 = 2$

②の焦点 F' の座標は $(2, 0)$

①の焦点 F の座標は $(\sqrt{2}, \sqrt{2})$

2点 $(\sqrt{2}, \sqrt{2}), (-\sqrt{2}, -\sqrt{2})$ からの距離の差が $2\sqrt{2}$ となる曲線の方程式を求めてみよう。

—補充—曲線の回転

曲線 $13x^2 + 10xy + 13y^2 = 72 \dots$ ① を原点のまわりに 45° 回転して得られる曲線 \dots ② を求める。

②上の点を (x, y) とする。これを複素数 $x + yi$ と見る。この点を原点のまわりに -45° 回転すると、

$$(x + yi)(\cos(-45^\circ) + i \sin(-45^\circ)) = \frac{x+y}{\sqrt{2}} - \frac{x-y}{\sqrt{2}} i$$

ゆえ、点 $(\frac{x+y}{\sqrt{2}}, -\frac{x-y}{\sqrt{2}})$ は曲線 ① 上の点である。

従って、

$$13 \left(\frac{x+y}{\sqrt{2}} \right)^2 + 10 \left(\frac{x+y}{\sqrt{2}} \right) \left(-\frac{x-y}{\sqrt{2}} \right) + 13 \left(-\frac{x-y}{\sqrt{2}} \right)^2 = 72$$

展開整理して

$$4x^2 + 9y^2 = 36$$

よって、② はだ円 $\frac{x^2}{9} + \frac{y^2}{4} = 1$ である。

153 放物線 $y^2 = 8x$ と直線 $y = 2x + a$ とが接するときの a の値、および接点の座標を求めよ。

156 円 $4x^2 + y^2 = 4$ と直線 $y = 3x + k$ が異なる2点 A, B で交わる。

(1) k のとりうる値の範囲を求めよ。

(2) k の値が変化するとき、線分 AB の中点 M の軌跡を求めよ。

154 双曲線 $9x^2 - 4y^2 = 36$ と直線 $y = mx + 1$ との共有点の個数を求めよ。

155 直線 $x + 2y = 3$ と双曲線 $x^2 - y^2 = -1$ との交点を P, Q とするとき、次のものを求めよ。

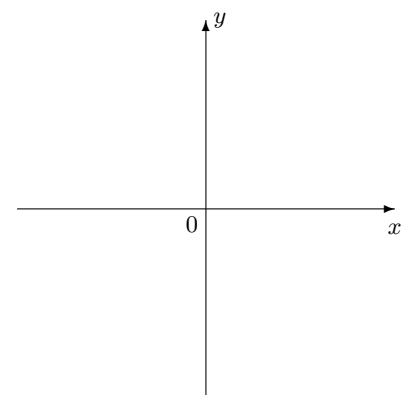
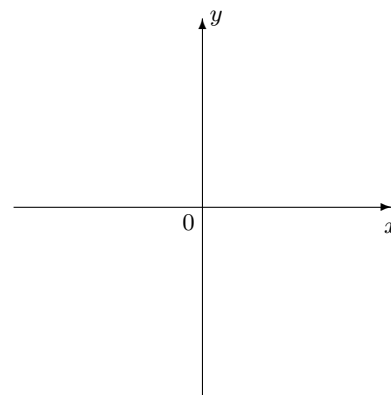
(1) 線分 PQ の中点 M の座標

(2) 線分 PQ の長さ

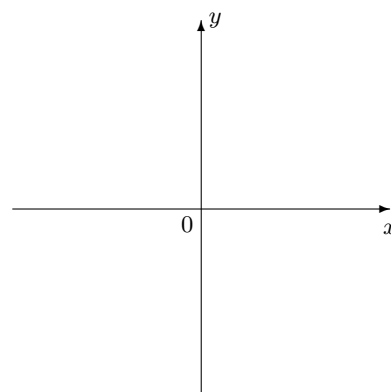
157 次の不等式の表す領域を図示せよ。

(1) $y^2 < -4x + 12$

(2)
$$\begin{cases} 4x^2 + 9y^2 \geq 36 \\ 9x^2 - 4y^2 \leq 36 \end{cases}$$



(3) $(y^2 - 2x)(x^2 - y^2 - 1) > 0$



2次曲線演習 No5 2次曲線と軌跡・性質

158 次の を埋めよ。

- (1) 2 定点からの が一定である点の軌跡をだ円という。
- (2) 2 定点からの が一定である点の軌跡を双曲線という。
- (3) 定点 F と、F を通らない定直線 l からの が等しい点の軌跡を放物線といい、F を , l を という。

159 次の軌跡の方程式を求めよ。

- (1) 2 点 $(3, 0)$, $(-3, 0)$ からの距離の和が 10 である点の軌跡は
- (2) 2 点 $(0, 5)$, $(0, -5)$ からの距離の差が 6 である点の軌跡は
- (3) 点 $(3, 0)$ と直線 $x = -3$ から等距離にある点の軌跡は
- (4) 原点と直線 $x = 3$ からの距離の比が 1 : 2 である点 P の軌跡は
- (5) 原点と直線 $x = 3$ からの距離の比が 2 : 1 である点 P の軌跡は

160 定点 $(2, 0)$ を通り、定直線 $x = -2$ に接する円の中心の軌跡は

161 円 $(x + 2)^2 + y^2 = 1$ に外接し、直線 $x = 1$ に接する円の中心の軌跡を求めよ。

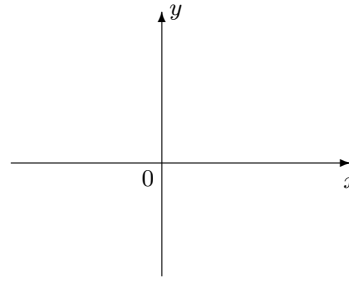
162 だ円は、円を一定の方向に、一定の割合で あるいは した図形である。

円 $x^2 + y^2 = 25$ を x 軸方向に $\frac{3}{5}$ の割合で縮小しただ円の方程式は

であり、 y 軸方向に $\frac{6}{5}$ 倍に拡大しただ円の方程式は である。

163 長さ 3 の線分 AB の端点 A が x 軸上を動き、端点 B が y 軸上を動くとき、線分 AB を 2 : 1 に内分する点 P の軌跡を求めよ。

164 図のように $y = ax + k$ と $y^2 = 4x$ が点 P で接している。



(1) $ak = 1$ を示せ。

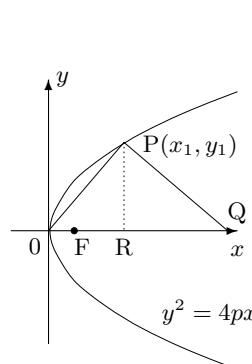
(2) P の座標、Q の座標を k で表すと、

P : Q :

(3) F を焦点とすると、 $PF = QF$ を示せ。

(4) $\angle QPF = \angle XPY$ を示せ。

165 $OP \perp PQ$, $PR \perp OQ$, F が焦点のとき、 $QR = 4OF$ を示したい。



OP の方程式を、 x, y を用いて表すと、

これより PQ の方程式は

... ①

①において、 $y = 0$ において、Q の座標は

故に $QR =$ $= 4p$.

また、F の座標は より、 $OF =$

故に $QR = 4OF$ である。

2次曲線演習 No6 媒介変数

組 番 氏名

166 次の曲線を媒介変数 θ を用いて、媒介変数表示せよ。

(1) 円 $x^2 + y^2 = r^2$

(2) だ円 $\frac{x^2}{a^2} + \frac{y^2}{b^2} = 1$

167 次の空欄をうめよ。

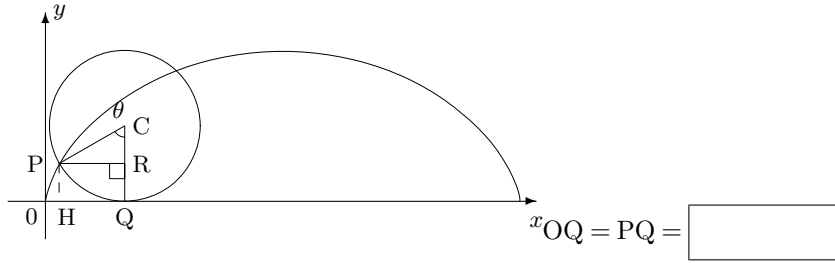
点 $(0, a)$ を中心に、半径 a の円が x 軸に接しなからずばらずにころがるとき、周上の定点 P (最初は原点にある) のえがく曲線を

といい、円が角 θ だけ回転したときの P の座標

を (x, y) とすると

$(x, y) =$

[証明]



, $PC = a$ より

$PR =$

$CR =$

従って

$x = OH = OQ - QH = OQ - PR$

$=$ $-$

$=$

$y = PH = RQ = CQ - CR$

$=$ $-$

$=$

確率分布演習 No1

組 番 氏名

1 2つの事象 A, B について $P(A \cup B) = P(A) + P(B) - P(A \cap B)$ が成り立つ。これを確率の加法定理という。特に A と B が排反である時、 $P(A \cup B) = P(A) + P(B)$

2 事象 A が起こったとしたときに、事象 B の起こる確率を $P_A(B)$ とかく。 $P(A \cap B) = P(A)P_A(B)$... ① が成り立つ。これを確率の乗法定理という。 $P_A(B) = P(B) \iff P_B(A) = P(A)$ が成り立つとき、事象 A, B は独立であるという。特に、A と B が独立であるとき、 $P(A \cap B) = P(A)P(B)$ が成り立つ。
このとき、 $P(A \cup B) = P(A) + P(B) - P(A)P(B)$ となり、P(A), P(B) だけで表すことができる。
また、①において、A と B を入れ替えると、 $P(A \cap B) = P(B \cap A)$ より、 $P(A) \cdot P_A(B) = P(B) \cdot P_B(A)$ が成り立つ。
これら 6 つの式は、いずれも大事な式である。

3 $P(A) = 0.2, P(B) = 0.4, P_A(B) = 0.5$ であるとき、
(1) $P(A \cap B)$ を求めよ。
(2) $P_B(A)$ を求めよ。

—解答例—
 $P(A \cup B) = P(A)P_A(B) = 0.2 \times 0.5 = 0.1$
 $\therefore P_B(A) = \frac{P(A \cap B)}{P(B)} = \frac{0.1}{0.4} = 0.25$

4 事象 A と B が独立で $P(A) = 0.5, P(B) = 0.3$ であるとき、 $P(A \cap B), P(A \cup B)$ を求めよ。

—解答例—
 $P(A \cap B) = P(A)P(B) = 0.5 \times 0.3 = 0.15$
 $\therefore P(A \cup B) = P(A) + P(B) - P(A \cap B) = 0.5 + 0.3 - 0.15 = 0.65$

5 事象 A と B が独立で $P(A) = 0.6, P(A \cap \bar{B}) = 0.4$ であるとき、 $P(A \cap B), P(B)$ を求めよ。

—解答例—
 $P(A \cap \bar{B}) = P(A) - P(A \cap B)$
 $\therefore P(A \cap B) = P(A) - P(A \cap \bar{B}) = 0.6 - 0.4 = 0.2$
 $\therefore P(B) = \frac{P(A \cap B)}{P(A)} = \frac{0.2}{0.6} = \frac{1}{3}$

6 $P(A) = 0.2, P(B) = 0.5, P(A \cup B) = 0.6$ であるとき、 $P(A \cap B), P(\bar{A} \cap B), P(\bar{A} \cup \bar{B})$ を求めよ。

—解答例—
 $P(A \cap B) = P(A) + P(B) - P(A \cup B) = 0.2 + 0.5 - 0.6 = 0.1$
 $\therefore P(\bar{A} \cap B) = P(B) - P(A \cap B) = 0.5 - 0.1 = 0.4$
 $\therefore P(\bar{A} \cup \bar{B}) = P(\overline{A \cap B}) = 1 - P(A \cap B) = 1 - 0.1 = 0.9$

7 $P(\bar{A}) = 0.4, P(\bar{B}) = 0.5, P_A(B) = 0.3$ であるとき、 $P_B(A)$ を求めよ。

—解答例—
 $P(A) = 1 - P(\bar{A}) = 0.6, P(B) = 1 - P(\bar{B}) = 0.5$
 $\therefore P(A \cap B) = P(A)P_A(B) = 0.6 \times 0.3 = 0.18$
 $\therefore P_B(A) = \frac{P(A \cap B)}{P(B)} = \frac{0.18}{0.5} = 0.36$

8 $P(A) = 0.3, P(B) = 0.4, P(A \cap B) = 0.1$ であるとき、 $P_{\bar{B}}(A)$ を求めよ。

—解答例—
 $P(\bar{B}) = 1 - P(B) = 0.6, P(\bar{B} \cap A) = P(A) - P(A \cap B) = 0.3 - 0.1 = 0.2$
 $\therefore P_{\bar{B}}(A) = \frac{P(\bar{B} \cap A)}{P(\bar{B})} = \frac{0.2}{0.6} = \frac{1}{3}$

9 事象 A と B が独立で $P(A) < P(B), P(A \cup B) = \frac{5}{8}, P(A \cap B) = \frac{1}{8}$ であるとき、 $P(A)$ を求めよ。

—解答例—
 $P(A) + P(B) = P(A \cup B) + P(A \cap B) = \frac{6}{8} = \frac{3}{4} = \frac{1}{4} + \frac{1}{2}$
事象 A, B は独立だから
 $P(A)P(B) = P(A \cap B) = \frac{1}{8} = \frac{1}{4} \times \frac{1}{2}$
 $P(A) < P(B)$ ゆえ、 $P(A) = \frac{1}{4}$

10 ある高校の1年生の男女比は3:2でありメガネをかけた女子生徒は全体の1割であるという。女子生徒の1人を任意に選び出したとき、メガネをかけていない確率を求めよ。

—解答例—

女子は全体の割なので、求める確率は

$$\frac{0.3}{0.1+0.3} = \frac{3}{4}$$

11 10本のくじの中に当たりくじが2本入っているくじをA,Bがこの順にもとに戻さないで1本ずつ引く。

- (1) Aが当たったとき、Bがはずれる確率を求めよ。
- (2) Aが当たって、Bがはずれる確率を求めよ。
- (3) Bがはずれたとき、Aが当たる確率を求めよ。

—解答例—

Aが当たる事象をA, Bが当たる事象をBとすると

(1) は $P_A(\bar{B}) = \frac{8}{9}$

(2) は $P(A \cap \bar{B}) = P(A) \times P_A(\bar{B}) = \frac{2}{10} \cdot \frac{8}{9} = \frac{16}{45}$

(3) は $P_{\bar{B}}(A) = \frac{P(\bar{B} \cap A)}{P(\bar{B})} = \frac{\frac{16}{45}}{\frac{8}{9}} = \frac{4}{9}$

12 ある大学の受験生の80%が男子であり、48%が男子の合格者であった。この受験生の男子の中から任意に1人を選ぶとき、その人が合格者である確率を求めよ。

—解答例—

$$\frac{0.48}{0.8} = \frac{3}{5}$$

13 白玉4個、赤玉3個の入った袋から1個ずつ、もとに戻さないで2回取り出すとき、次の確率を求めよ。

- (1) 2回とも赤玉である。
- (2) 2回目が白玉である。

—解答例—

1回目が赤である事象をA, 2回目が赤である事象をBとすると、

(1) は $P(A \cap B) = P(A) \times P_A(B) = \frac{3}{7} \cdot \frac{2}{6} = \frac{1}{7}$

(2) は $P(\bar{B}) = P(A \cap \bar{B}) + P(\bar{A} \cap \bar{B}) = P(A) \times P_A(\bar{B}) + P(\bar{A}) \times P_{\bar{A}}(\bar{B})$
 $= \frac{3}{7} \cdot \frac{4}{6} + \frac{4}{7} \cdot \frac{3}{6} = \frac{4}{7}$

14 白玉4個と赤玉6個が入った袋から同時に2個の玉を取り出し白は赤に、赤は白に塗り替えてからもとに戻す。次にこの袋から1個を取り出すとき、それが赤玉である確率を求めよ。

—解答例—

1回目に赤玉を*i*個取り出す事象を*A_i*, 2回目に赤玉を取り出す事象をBとすると、

$$P(B) = P(A_0 \cap B) + P(A_1 \cap B) + P(A_2 \cap B)$$

$$= \frac{{}_4C_2}{{}_{10}C_2} \cdot \frac{8}{10} + \frac{4 \times 6}{{}_{10}C_2} \cdot \frac{6}{10} + \frac{{}_6C_2}{{}_{10}C_2} \cdot \frac{4}{10} = \frac{14}{25}$$

15 1から9までの整数から1つの整数を選ぶとき、それが奇数である事象と5以下である事象は互いに独立か。

—解答例—

奇数である事象をA, 5以下である事象をBとすると

$$P(A) = \frac{5}{9}, P(B) = \frac{5}{9}, P(A \cap B) = \frac{3}{9}$$

から、 $P(A \cap B) \neq P(A) \cdot P(B)$ となるので、独立でない。(従属である。)

【別解】

$$P_A(B) = \frac{3}{5} \neq P(B) \text{ ゆえ独立でない。}$$

16 1枚の硬貨を3回投げるとき、1回目に表が出る事象をA, 少なくとも1回表が出る事象をB, 3回とも同じ面が出る事象をCとする。この3つの事象は独立か。

—解答例—

$$P(A) = \frac{1}{2}, P(B) = 1 - \left(\frac{1}{2}\right)^3 = \frac{7}{8}, P(C) = 1 \times \frac{1}{2} \times \frac{1}{2} = \frac{1}{4}$$

である。

$$P(A \cap B) = P(A) = \frac{1}{2} \neq P(A) \cdot P(B) \text{ ゆえ A, B は独立でない。}$$

$$P(B \cap C) = \frac{1}{8} \neq P(B) \cdot P(C) \text{ ゆえ B, C は独立でない。}$$

$$P(C \cap A) = \frac{1}{8} = P(C) \cdot P(A) \text{ ゆえ C, A は独立である。}$$

17 10本のうち2本が当たるくじがある。A,B,Cの順にこのくじを1本ずつ引くとき、Aが当たり、Bがはずれ、Cが当たる確率を求めよ。

—解答例—

$$\frac{2}{10} \times \frac{8}{9} \times \frac{1}{8} = \frac{1}{45}$$

18 サイコロを6回投げたとき、3の倍数の目が2回出る確率を求めよ。

—解答例—

$${}_6C_2 \left(\frac{2}{6}\right)^2 \left(\frac{4}{6}\right)^4 = \frac{80}{243}$$

19 1番から6番までの番号札6枚から同時に2枚を抜き出し、その番号の和と8のうちで小さくない方をXとする。

- (1) Xの確率分布を求めよ。
 (2) $P(X \leq 9)$ を求めよ。
 (3) Xの期待値、分散を求めよ。

—解答例—

X	8	9	10	11	計
P	$\frac{11}{15}$	$\frac{2}{15}$	$\frac{1}{15}$	$\frac{1}{15}$	1

$$P(X \leq 9) = \frac{13}{15}$$

$$E(X) = 8 \cdot \frac{11}{15} + 9 \cdot \frac{2}{15} + 10 \cdot \frac{1}{15} + 11 \cdot \frac{1}{15} = \frac{127}{15}$$

$$V(X) = 8^2 \cdot \frac{11}{15} + 9^2 \cdot \frac{2}{15} + 10^2 \cdot \frac{1}{15} + 11^2 \cdot \frac{1}{15} - \left(\frac{127}{15}\right)^2 = \frac{704 + 162 + 100 + 121}{15} - \frac{127 \cdot 127}{15 \cdot 15} = \frac{276}{15 \cdot 15} = \frac{92}{75}$$

20 確率分布表が下の表で与えられて、 $P(X \geq 4) = \frac{1}{4}$ である。

X	1	2	3	4	5	6	計
P	$\frac{1}{4}$	$\frac{1}{6}$	p	$\frac{1}{8}$	$\frac{1}{18}$	q	1

- (1) p, qの値を求めよ。
 (2) $P(2 \leq X \leq 4)$ を求めよ。

—解答例—

$$P(X \geq 4) = \frac{1}{8} + \frac{1}{18} + q = \frac{1}{4} \quad \therefore q = \frac{5}{72}$$

$$\frac{1}{4} + \frac{1}{6} + p = \frac{3}{4} \quad \text{ゆえに } p = \frac{1}{3}$$

21 A, B 2チームが試合を行い、早く4勝した方が優勝とする。A, Bの勝つ確率は等しく引き分けはないものとする。このとき、どちらかのチームが優勝するまでの試合数Xの期待値と分散を求めよ。

—解答例—

X	4	5	6	7	計
P	$\frac{1}{8}$	$\frac{1}{4}$	$\frac{5}{16}$	$\frac{5}{16}$	1

$$\text{【例】 } P(X=7) = {}_6C_3 \left(\frac{1}{2}\right)^6 \times \frac{1}{2} \times 2$$

$$E(X) = 4 \cdot \frac{1}{8} + 5 \cdot \frac{1}{4} + 6 \cdot \frac{5}{16} + 7 \cdot \frac{5}{16} = \frac{8+20+30+35}{16} = \frac{93}{16}$$

$$V(X) = E(X^2) - E(X)^2 = 4^2 \cdot \frac{1}{8} + 5^2 \cdot \frac{1}{4} + 6^2 \cdot \frac{5}{16} + 7^2 \cdot \frac{5}{16} - \left(\frac{93}{16}\right)^2 = \frac{32+100+180+245}{16} - \frac{93 \cdot 93}{16 \cdot 16} = \frac{557 \cdot 16 - 93 \cdot 93}{16 \cdot 16} = \frac{263}{256}$$

22 20個の品物の中に3個の不良品が入っている。これから同時に4個を取り出すとき、その中に含まれる不良品の個数Xの期待値を求めよ。

—解答例—

X	0	1	2	3	計
P	$\frac{28}{57}$	$\frac{8}{19}$	$\frac{8}{95}$	$\frac{1}{285}$	1

$$E(X) = 0 \cdot \frac{28}{57} + 1 \cdot \frac{8}{19} + 2 \cdot \frac{8}{95} + 3 \cdot \frac{1}{285} = \frac{0+120+24+1}{285} = \frac{29}{57}$$

23 1つのサイコロを3回投げ、出た目の数の最大値をXとする。

- (1) 確率変数Xの確率分布を求めよ。
 (2) Xの期待値を求めよ。

—解答例—

X=1とはすべて1の目が出るということだから

$$P(X=1) = \frac{1}{6} \cdot \frac{1}{6} \cdot \frac{1}{6} = \frac{1}{216}$$

X=2とは2以下の目が出るが、すべて1以下の場合は除くので $P(X=2) = \left(\frac{2}{6}\right)^3 - \left(\frac{1}{6}\right)^3 = \frac{7}{216}$

$$2) = \left(\frac{2}{6}\right)^3 - \left(\frac{1}{6}\right)^3 = \frac{7}{216}$$

以下同様にしてXの分布表を作ると

X	1	2	3	4	5	6	計
P	$\frac{1}{216}$	$\frac{7}{216}$	$\frac{19}{216}$	$\frac{37}{216}$	$\frac{61}{216}$	$\frac{91}{216}$	1

$$E(X) = 1 \cdot \frac{1}{216} + 2 \cdot \frac{7}{216} + 3 \cdot \frac{19}{216} + 4 \cdot \frac{37}{216} + 5 \cdot \frac{61}{216} + 6 \cdot \frac{91}{216} = \frac{1071}{216} = \frac{119}{24}$$

24 ある確率変数Xの確率分布が下の表で与えられている。Xの期待値が $\frac{16}{5}$ であるとき、p, qの値を求めよ。

X	1	2	3	4	5	計
P	p	q	p	p	q	1

—解答例—

$$p + q + p + p + q = 3p + 2q = 1 \dots \text{①}$$

$$E(X) = p + 2q + 3p + 4p + 5q = 8p + 7q = \frac{16}{5} \dots \text{②}$$

$$\text{これを解いて } p = \frac{3}{25}, q = \frac{8}{25}$$

25 10枚のカードがあり、その各々に0, 2, 6のいずれかの数を記入する。この10枚のカードの中から選んだ1枚のカードに記入された数Xについて、その期待値が3で分散が6以下にしたい。各々、何枚ずつにすればよいか。

—解答例—

$$0 \text{ を記したカードを } a \text{ 枚、} 2 \text{ のカードを } b \text{ 枚、} 6 \text{ のカードを } c \text{ 枚とする。}$$

$$a + b + c = 10 \dots \text{① である。 } E(X) = 0 \cdot \frac{a}{a+b+c} + 2 \cdot \frac{b}{a+b+c} + 6 \cdot \frac{c}{a+b+c} = 3 \therefore 3a + b = 3c \dots \text{②}$$

$$V(X) = E(X^2) - 3^2 = 0 \cdot \frac{a}{a+b+c} + 4 \cdot \frac{b}{a+b+c} + 36 \cdot \frac{c}{a+b+c} \leq 6 \dots \text{③}$$

$$\text{①, ② から } a = 2c - 5, b = 15 - 3c$$

これを③に代入して $15(2c - 5) + 11(15 - 3c) \geq 21c$ となる。整理して $24c \leq 86$ となる。また、 $a = 2c - 5 \geq 0$ から $c \geq 3$ に注意すると $c = 3$ となる。 $\therefore a = 1, b = 6$ ゆえに0のカードを1枚、2のカードを6枚、6のカードを3枚にすればよい。

26 確率変数 X の期待値は 20, 分散は 5, 確率変数 Y の期待値は 10, 分散は 2 である。次の確率変数 Z の期待値と分散を求めよ。ただし、 X と Y は互いに独立であるとする。

(1) $Z = 3X - 10$

(2) $Z = 2X - 3Y$

—解答例—

$$E(Z) = E(3X - 10) = 3E(X) - 10 = 50, V(Z) = V(3X - 10) = 3^2V(X) = 45$$

—解答例—

$$E(Z) = E(2X - 3Y) = 2E(X) - 3E(Y) = 10, X, Y \text{ は独立だから}$$

$$V(Z) = V(2X - 3Y) = 4V(X) + 9V(Y) = 38$$

27 100 円硬貨 3 枚と 10 円硬貨 2 枚を同時に投げるとき、それぞれの表の出る枚数 X, Y の期待値と分散、および表の出る硬貨の金額の和の期待値と分散を求めよ。

—解答例—

X	0	1	2	3	計
P	$\frac{1}{8}$	$\frac{3}{8}$	$\frac{3}{8}$	$\frac{1}{8}$	1

Y	0	1	2	計
P	$\frac{1}{4}$	$\frac{2}{4}$	$\frac{1}{4}$	1

$$\therefore E(X) = \frac{3}{8} + \frac{6}{8} + \frac{3}{8} = \frac{3}{2}, E(Y) = \frac{2}{4} + \frac{2}{4} = 1$$

$$V(X) = E(X^2) - \frac{9}{4} = \frac{3}{8} + \frac{12}{8} + \frac{9}{8} - \frac{9}{4} = \frac{3}{4}$$

$$V(Y) = E(Y^2) - 1^2 = \frac{2}{4} + \frac{4}{4} - 1 = \frac{1}{2}$$

求める和を Z とすると、 $Z = 100X + 10Y$ ゆえ

$$E(Z) = 100E(X) + 10E(Y) = 150 + 10 = 160$$

X, Y は独立ゆえ

$$V(Z) = 100^2V(X) + 10^2V(Y) = 7550$$

28 硬貨とサイコロを同時に投げる試行で、硬貨に表が出たら 1, 裏が出たら 0 を対応させる確率変数を X とし、サイコロの出た目の数を確率変数 Y とする。このとき、確率変数 XY の期待値を求めよ。

—解答例—

X	0	1	計
P	$\frac{1}{2}$	$\frac{1}{2}$	1

Y	1	2	3	4	5	6	計
X	$\frac{1}{6}$	$\frac{1}{6}$	\cdot	\cdot	\cdot	$\frac{1}{6}$	1

$$\therefore E(X) = \frac{1}{2}, V(X) = E(X^2) - \frac{1}{4} = \frac{1}{2} - \frac{1}{4} = \frac{1}{4}$$

$$E(Y) = \frac{7}{2},$$

$$V(Y) = E(Y^2) - \frac{49}{4} = \frac{1}{6} + \frac{4}{6} + \dots + \frac{36}{6} - \frac{49}{4} = \dots = \frac{35}{12}$$

$$X, Y \text{ は独立ゆえ } E(XY) = E(X)E(Y) = \frac{7}{4}$$

29 A の袋の中には赤球 3 個、白球 2 個、B の袋の中には赤球 2 個、白球 2 個が入っている。A の袋から 3 個、B の袋から 2 個、それぞれ同時に取り出すとき、その 5 個の中に含まれる白球の個数の期待値を求めよ。

—解答例—

A の袋から取り出される白球の個数を X_A , B の袋のとき X_B とする。

$E(X_A + X_B)$ が求めるものである。

X_A, X_B の分布表は次のようになる。

X_A	0	1	2	計
P	$\frac{1}{10}$	$\frac{6}{10}$	$\frac{3}{10}$	1

X_B	0	1	2	計
P	$\frac{1}{6}$	$\frac{4}{6}$	$\frac{1}{6}$	1

$$E(X_A + X_B) = E(X_A) + E(X_B) = \frac{6+6}{10} + \frac{4+2}{6} = \frac{11}{5}$$

30 白球 6 個、黒球 2 個が入った袋から、2 個ずつ、もとに戻さずに 2 回取り出す。2 個のうち黒球の個数が 0, 1, 2 のとき、それぞれ 0 点, 1 点, 3 点とするとき、2 回の合計点の期待値を求めよ。

—解答例—

1 回目の点数を X , 2 回目の点数を Y とすると、黒球の出方は、もとに戻さないにもかかわらず、順番に依らないので

X, Y	0	1	3	計
P	$\frac{15}{28}$	$\frac{12}{28}$	$\frac{1}{28}$	1

よって、求める期待値は

$$E(X + Y) = E(X) + E(Y) = 2E(X) = 2 \times \frac{12+3}{28} = \frac{15}{14}$$

31 袋の中に、赤球 4 個、白球 3 個が入っており、赤球にはすべて数 1 が、白球にはすべて数 3 が書かれている。この袋から同時に 3 個を取り出すとき、その中に含まれる赤球の個数を X 、3 個の玉に書かれた数の和を Y とする。次の確率変数の期待値と分散を求めよ。

(1) 確率変数 X

(2) 確率変数 Y

—解答例—

X	0	1	2	3	計
P	$\frac{1}{35}$	$\frac{12}{35}$	$\frac{18}{35}$	$\frac{4}{35}$	1

$$\text{よって } E(X) = \frac{12+36+12}{35} = \frac{12}{7}$$

$$V(X) = E(X^2) - \frac{12^2}{7^2} = \frac{12+72+36}{35} - \frac{12^2}{7^2} = \frac{24}{49}$$

$$Y = X + 3(3 - X) = 9 - 2X \text{ ゆえ}$$

$$E(Y) = E(9 - 2X) = 9 - 2E(X) = \frac{39}{7}$$

$$V(Y) = V(9 - 2X) = 4V(X) = \frac{48}{7}$$

30 白球 6 個、黒球 2 個が入った袋から、2 個ずつ、もとに戻さずに 2 回取り出す。2 個のうち黒球の個数が 0, 1, 2 のとき、それぞれ 0 点、1 点、3 点とすると、2 回の合計点の期待値を求めよ。

まず黒球の出方が順番に依らないという事実を使わずに計算するとどうなるかを示す。

—解答例—

合計点を Z とおくと、 Z の取り得る値は、0, 1, 2, 3 のいずれかである。白球が出る場合を W 、黒球が出る場合を B で表す。

$Z = 0$ となるのは、 $(WW)(WW)$ と出る場合であるから

$$P(Z = 0) = \frac{{}_6C_2 \cdot {}_4C_2}{{}_8C_2 \cdot {}_6C_2} = \frac{2 \cdot 3}{4 \cdot 7} = \frac{3}{14}$$

$Z = 1$ となるのは、 $(WB)(WW)$ とでるか $(WW)(WB)$ と出る場合であるから

$$P(Z = 1) = \frac{{}_6C_2 \cdot {}_5C_2}{{}_8C_2 \cdot {}_6C_2} + \frac{{}_6C_2 \cdot {}_4C_2}{{}_8C_2 \cdot {}_6C_2} = \frac{6 \cdot 2 \cdot 5 \cdot 2 + 3 \cdot 5 \cdot 4 \cdot 2}{4 \cdot 7 \cdot 3 \cdot 5} = \frac{4}{7}$$

$Z = 2$ となるのは、 $(WB)(WB)$ とでる場合であるから

$$P(Z = 2) = \frac{{}_6C_2 \cdot {}_5C_1}{{}_8C_2 \cdot {}_6C_2} = \frac{6 \cdot 2 \cdot 5}{4 \cdot 7 \cdot 3 \cdot 5} = \frac{1}{7}$$

$Z = 3$ となるのは、 $(WW)(BB)$ とでるか $(BB)(WW)$ と出る場合であるから

$$P(Z = 3) = \frac{{}_6C_2 \cdot 1}{{}_8C_2 \cdot {}_6C_2} + \frac{1 \cdot {}_6C_2}{{}_8C_2 \cdot {}_6C_2} = \frac{2}{{}_8C_2} = \frac{2}{4 \cdot 7} = \frac{1}{14}$$

よって分布表を作ると

Z	0	1	2	3	計
P	$\frac{3}{14}$	$\frac{8}{14}$	$\frac{2}{14}$	$\frac{1}{14}$	1

よって、求める期待値は

$$E(Z) = 1 \times \frac{8}{14} + 2 \times \frac{2}{14} + 3 \times \frac{1}{14} = \frac{8 + 4 + 3}{14} = \frac{15}{14}$$

くじ引きでは、当たるか当たらないか順番に依らないという話はよくあるが、この場合も、くじ引きと同じで順番に依らない。

この事実を確認するには、1 回目に出た黒球の数を X 、2 回目に出た黒球の数を Y とするとき X と Y の確率分布表が確かに同じになるということを確認めればよい。

X	0	1	3	計
P	$\frac{15}{28}$	$\frac{12}{28}$	$\frac{1}{28}$	1

は簡単なので認めよう。では、 Y の確率分布を計算する。

$$P(Y = 0) = P(X = 0 \text{ かつ } Y = 0) + P(X = 1 \text{ かつ } Y = 0) + P(X = 3 \text{ かつ } Y = 0) = P(X = 0) \cdot P_{X=0}(Y = 0) + P(X = 1) \cdot P_{X=1}(Y = 0) + P(X = 3) \cdot P_{X=3}(Y = 0) = \frac{{}_6C_2 \cdot {}_4C_2}{{}_8C_2 \cdot {}_6C_2} + \frac{{}_6C_2 \cdot {}_5C_2}{{}_8C_2 \cdot {}_6C_2} + \frac{1 \cdot {}_6C_2}{{}_8C_2 \cdot {}_6C_2} = \frac{3 \cdot 5 \cdot 2 \cdot 3 + 6 \cdot 2 \cdot 5 \cdot 2 + 3 \cdot 5}{4 \cdot 7 \cdot 3 \cdot 5} = \frac{15}{28}$$

$$P(Y = 1) = P(X = 0 \text{ かつ } Y = 1) + P(X = 1 \text{ かつ } Y = 1) = P(X = 0) \cdot P_{X=0}(Y = 1) + P(X = 1) \cdot P_{X=1}(Y = 1) = \frac{{}_6C_2 \cdot 4 \times 2}{{}_8C_2 \cdot {}_6C_2} + \frac{6 \times 2}{{}_8C_2 \cdot {}_6C_2} = \frac{5 \times 1}{{}_6C_2} = \frac{3 \cdot 5 \cdot 4 \cdot 2 + 6 \cdot 2 \cdot 5}{4 \cdot 7 \cdot 3 \cdot 5} = \frac{3}{7}$$

$$P(Y = 3) = P(X = 0 \text{ かつ } Y = 3) = P(X = 0) \cdot P_{X=0}(Y = 3) = \frac{{}_6C_2 \cdot 1}{{}_8C_2 \cdot {}_6C_2} = \frac{1}{{}_8C_2} = \frac{1}{28}$$

以上から、確かに X と Y の確率分布は一致する。

これで、No4 の解答の正当性は確かめられた。しかし、いちいちこの事実が成り立つことを確かめなければならないようでは、確率変数の平均などを簡単に計算しようという目的には使えない。

一般に順番に依らないという主張は本当に正しいのだろうか。

これを確認するために、神様の順列を考えてみよう。

この問題では、最初に黒球が 2 個とも出てしまえば、もう黒球が出ることはないのだから— それ以降の球の出方を考えることはない。

人間にとってはなるべく簡単に計算しようとして、時間の経過にしたがって必要なところまで計算していくのは自然なことである。しかし、この方法では、時間の経過に依存してしまうので、順番に依らないという主張を確認することはできない。

神様は人間ができなかった非常に多くの場合を時間を超越して俯瞰することができる。実際には 2 回しか球を取らないのだが、もちろん神様の目には、その後最後の球まで取ったように見えており、さらに必要なら、微妙な差をかき分けて、2 個ずつ取るのではなく 1 個ずつ取っていると見こともできる。この場合確率とは単純に、 $\frac{\text{その事象の場合の数}}{\text{全体的場合の数}}$ となる。

さて、神様になったつもりで、最後まで球を取ったと想像してみよう。さらに、すべての球は区別されていると考えよう。

この場合、球の出方は単純に 8 個の球を順番に並べているのだから 8! 通りある。このとき $P(X = 0)$ となるのは、最初の 2 個が WW と並んでいる場合の数に相当し、 $P(X = 1)$ となるのは、最初が WB かまたは BW と並んでいる場合の数を全体の数で割った割合になる。 $P(Y = 0)$ となるのは、3 番目と 4 番目が WW と並んでいる場合の数に相当し、 $P(Y = 1)$ となるのは、3 番目と 4 番目が WB かまたは BW と並んでいる場合の数を全体の数で割った割合になる。

さて、すべての場合を考えているのだから、これらの割合は一致する。明らかであるが、わかるだろうか。

0,1,2,3 の 4 つの数字を並べて 4 桁の偶数はいくつできるか？

***0 のタイプと ***2 のタイプに分ける解答では

$$3! + 2 \times 2! = 10 \text{ 通りである。}$$

頭から順番に考えているわけではない。

***2 の形の 4 桁の整数になる確率を問うたときは、

$$\frac{1 \text{ の位、千の位、その後百の位、十の位と考えると } 1 \times 2 \times 2 \times 1}{4!} \text{ であるが、}$$

1 の位、千の位、その後は任意と考えると

$$\frac{1}{4} \cdot \frac{2}{3} \cdot 1 \text{ と書く。この考え方が、まさに神様の順列において、順番に依らないことと同じことである。}$$

31 白球 6 個と赤球 4 個が入っている袋の中から 1 個を取りだして色を調べてから元へ戻す。この操作を 5 回繰り返すとき、白球の出る回数を X とする。次のものを求めよ。

(1) $P(X \geq 4)$

—解答例—

この操作を 1 回行うとき、白球の出る確率は $\frac{6}{10} = \frac{3}{5}$ ゆえ X は二項分布 $B\left(5, \frac{3}{5}\right)$ に従う。

$$P(X \geq 4) = {}_5C_4 \left(\frac{3}{5}\right)^4 \left(\frac{2}{5}\right) + {}_5C_5 \left(\frac{3}{5}\right)^5$$

$$= \frac{5 \cdot 3^4 \cdot 2 + 3^5}{5^5} = \frac{1053}{3125}$$

(2) X の期待値、分散

—解答例—

$$E(X) = 5 \cdot \frac{3}{5} = 3$$

$$V(X) = 5 \cdot \frac{3}{5} \cdot \frac{2}{5} = \frac{6}{5}$$

32 2 枚の硬貨を投げて、ともに表が出たら a 、その他のときは 0 をとる確率変数を与える。10 回繰り返してその和 X の期待値、分散を求めよ。

—解答例—

ともに表が出る回数を Y とすると、 Y は二項分布 $B\left(10, \frac{1}{4}\right)$ に従う。

$$X = aY, E(Y) = 10 \cdot \frac{1}{4} = \frac{5}{2}, V(Y) = 10 \cdot \frac{1}{4} \cdot \frac{3}{4} = \frac{15}{8}$$

$$\text{よって、} E(X) = E(aY) = aE(Y) = \frac{5a}{2},$$

$$V(X) = V(aY) = a^2V(Y) = \frac{15a^2}{8}$$

33 原点 O から出発して数直線上を動く点 P がある。サイコロを投げて 3 の倍数が出たら 3 だけ移動し、それ以外の目が出たら -2 だけ移動する。サイコロを 9 回投げたとき、 P の座標 X の期待値と分散を求めよ。

—解答例—

3 の倍数が出る回数を Y とすると、 Y は二項分布 $B\left(9, \frac{1}{3}\right)$ に従う。よつ

$$\text{て、} E(Y) = 9 \cdot \frac{1}{3} = 3, V(Y) = 9 \cdot \frac{1}{3} \cdot \frac{2}{3} = 2$$

$$X = 3Y - 2(9 - Y) = 5Y - 18 \text{ ゆえ}$$

$$E(X) = 5E(Y) - 18 = 15 - 18 = -3, V(X) = 25V(Y) = 50$$

34 \times で答える 6 つの問題が与えられている。この解答をするのに適当に \times をつけるときの正解数を X とする。 X の期待値、分散、標準偏差を求めよ。

—解答例—

X は二項分布 $B\left(6, \frac{1}{2}\right)$ に従うので、

$$E(X) = 6 \cdot \frac{1}{2} = 3, V(X) = 6 \cdot \frac{1}{2} \cdot \frac{1}{2} = \frac{3}{2}, \sigma(X) = \sqrt{\frac{3}{2}} = \frac{\sqrt{6}}{2}$$

35 1 枚の硬貨を 4 回投げるとき、表の出る回数から裏の出る回数を引いた数 X の期待値、および分散を求めよ。

—解答例—

表の出る回数を Y とすると、 Y は二項分布 $B\left(4, \frac{1}{2}\right)$ に従う。よつて

$$E(Y) = 4 \cdot \frac{1}{2} = 2, V(Y) = 4 \cdot \frac{1}{2} \cdot \frac{1}{2} = 1$$

$$X = Y - (4 - Y) = 2Y - 4 \text{ ゆえ}$$

$$E(X) = E(2Y - 4) = 2E(Y) - 4 = 0, V(X) = V(2Y - 4) = 4V(Y) = 4$$

36 原点 O から出発して座標平面上を動く点 P がある。サイコロを投げて 1, 2, 3, 4 の目が出たら x 軸の方向に 1 だけ移動し、5, 6 の目が出たら y 軸の方向に 1 だけ移動する。サイコロを 6 回投げたとき、 P の x 座標、 y 座標を X, Y とする。次の確率変数の期待値、分散を求めよ。

(1) X

—解答例—

X は二項分布 $B\left(6, \frac{2}{3}\right)$ に従う。

$$E(X) = 6 \cdot \frac{2}{3} = 4, V(X) = 6 \cdot \frac{2}{3} \cdot \frac{1}{3} = \frac{4}{3}$$

(2) Y

—解答例—

$$Y = 6 - X \text{ ゆえ}$$

$$E(Y) = E(6 - X) = 6 - E(X) = 2, V(Y) = V(6 - X) = V(X) = \frac{4}{3}$$

(3) $X - Y$

—解答例—

$$X - Y = X - (6 - X) = 2X - 6 \text{ ゆえ}$$

$$E(X - Y) = E(2X - 6) = 2E(X) - 6 = 2,$$

$$V(X - Y) = V(2X - 6) = 4V(X) = \frac{16}{3}$$